



نام و نام خانوادگی:

زمان برگزاری:

نام آزمون: اجتماعی هفتم

تاریخ آزمون:



شرکت توسعه انتشارات

پرش_م ۱۱

۱) واژه جشن از کدام کلمه گرفته شده است و معنای آن چیست؟

۲) چهار مورد از ویژگی‌های تمدن‌ها را نام ببرید.


۳) سکه زرین و دریک برای اولین بار به فرمان چه کسی ضرب شد؟

۴) اسکندر چگونه توانست ایران را فتح کند؟

۵) نوع هر یک از خط‌های زیر را بنویسید و بگویید در زمان کدام سلسله یا تمدن از آن استفاده شده است؟



(خط.....)



(خط.....)



(خط.....)

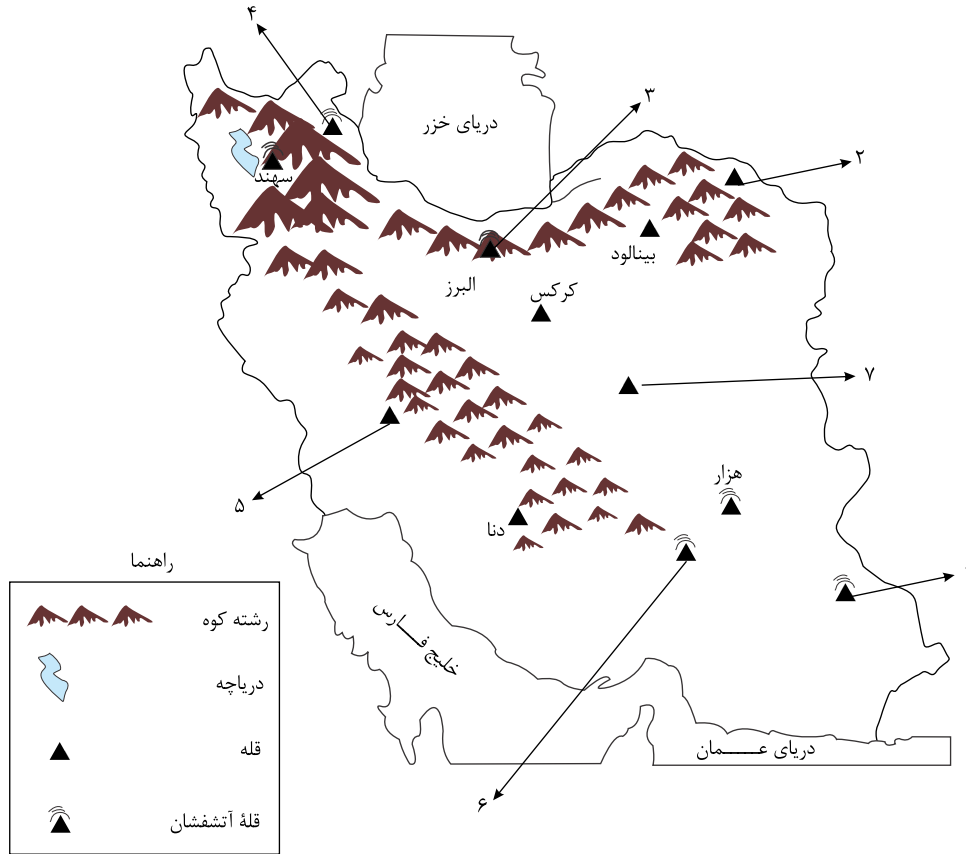




۶ - روی نقشه نام قلّه‌هایی را که نوشته نشده است بنویسید.

- دریاها را با مداد آبی رنگ کنید.

- کدام قلّه‌ها آتشفشان بوده‌اند؟ بنویسید.



۷ - به تصویر خط در دوره هخامنشیان توجه کنید و بگویید چرا به این خط، خط میخی می‌گویند؟



۸ الف) به نظر شما اگر در کشور ما زاد و ولد کم شود در آینده با چه مشکلاتی روبرو می‌شویم؟ چند مورد بیان کنید.

ب) در کشورهایی که رشد جمعیت زیاد است کدام گروه سنی افزایش می‌یابد؟

پ) داشتن جمعیت جوان برای کشور ما چه مزایایی دارد؟

۹ مصرف‌گرایی چه آسیب‌های اخلاقی برای مردم ایجاد می‌کند؟

۱۰ آیا همه اعضا حق اظهارنظر درباره موضوع را داشتند؟ (باتوجه به درس ۳)

۱۱ دانشگاه جندی شاپور در کدام دوره به دستور چه کسی ساخته شد؟

۱۲ با تأسیس بزرگ، بناهای بزرگ هم‌چون کاخ‌ها ساخته شد.

۱۳ زبان ایرانیان در عصر اشکانیان و ساسانیان، بود.

۱۴ جاده ابریشم کدام مناطق را به هم وصل می‌کرد؟

۱۵ جشن‌های عصر باستان ارتباط زیادی با تغییر و شروع و پایان کار کشاورزی داشتند.

۱۶ تا قبل از رواج سکه، ده‌نشینان محصولات خود را با محصولات دیگر مبادله می‌کردند.

۱۷ امروزه برای از بین بردن زباله‌ها چه می‌کنند؟

۱۸ ۴ مورد از کارهایی که به حفظ محیط‌زیست می‌تواند کمک کند را بنویسید.

۱۹ باستان‌شناسان از حفاری تمدن جیرفت چه آثاری کشف کرده‌اند؟



- ۲۰ تاریخ ایران دوره اسلامی از چه زمانی آغاز می‌شود؟
- ۲۱ در دامنه‌های جنوب شرقی زاگرس میزان بارش باران و برف است.
- ۲۲ مکانی که از یک سو به کوه‌ها و از سوی دیگر به دشت‌ها مربوط می‌شود را می‌نامند.
- ۲۳ رشته کوه البرز در ایران واقع است.
- ۲۴ کوه‌های در شمال غربی ایران قرار گرفته‌اند.
- ۲۵ سم‌هایی که در کشاورزی وجود دارد، اثرات بدی در طبیعت دارد.
- ۲۶ به عقیده باستان‌شناسان یکی از قدیمی‌ترین خط‌های دنیا متعلق به تمدن است.
- ۲۷ افراد در نقش‌های مختلف مختلف دارند.
- ۲۸ چرا در ایران باستان برای اداره امور کشور شغل‌ها و مقام‌های مختلفی به وجود آمده بود؟
- ۲۹ سرزمین ایران به دلیل همواره مورد هجوم دشمنان بود.
- ۳۰ تقسیم کار چگونه شکل گرفت؟
- ۳۱ گروه‌های اجتماعی در چه صورت از مقرراتی پیروی می‌کنند؟
- ۳۲ نواحی گرم و شرجی سواحل جنوب از کجا تا کجا کشیده شده است؟
- ۳۳ میراث فرهنگی، آثار و غیر مادی را شامل می‌شود.
- ۳۴ اسکندر مقدونی یونانیان را به انتقام جویی از فرا خواند.
- ۳۵ مجموعه آستان قدس رضوی دارای چه امکاناتی است؟
- ۳۶ آب و خاک از منابع هستند.
- ۳۷ در همه‌پرسی قانون اساسی ایران مردم به آن رأی دادند.
- ۳۸ ۴ مورد از حقوق طبیعی انسان‌ها را بنویسید.
- ۳۹ یکی از عوامل افزایش درآمد در یک منطقه است.
- ۴۰ در گذشته کسانی که به مسافرت می‌رفتند بسیار بود.
- ۴۱ اگر تعداد افرادی که متولد می‌شوند بیش‌تر از افرادی که می‌میرند باشد جمعیت می‌یابد.
- ۴۲ در ایران باستان، مالیات فقط از عامه مردم وصول می‌شد و اشراف از پرداخت آن معاف بودند.
- ۴۳ من کیستم؟
- «من برای استراحت یا گردش و دیدن مکان‌های تاریخی، محل اقامت و کار خود را به‌طور موقت ترک می‌کنم»
- ۴۴ چرا در ایران آثار و بناهای تاریخی متعددی وجود دارد؟
- ۴۵ کدام‌یک از عوامل تولید زیر، جزء سرمایه محسوب می‌شوند؟
- الف. جنگل‌ها ب. معادن پ. زمین ت. دانش و مهارت لازم
- ۴۶ جدول زیر را کامل کنید.

| | | | | |
|--------|---------------|---------|--------------|------------------|
| | بیمه شخص ثالث | | بیمه اتومبیل | نوع بیمه |
| اجباری | | اختیاری | | اختیاری / اجباری |

- ۴۷ قانونگذاری با توجه به و موضوعات مختلف جامعه سعی می‌کنند بهترین را وضع کنند.
- ۴۸ در دوره ساسانیان چه ادیبانی رواج داشت؟
- ۴۹ چرا در دوره ساسانیان آتشکده‌های بسیاری در سرتاسر ایران ساخته شد؟
- ۵۰ رشد منفی جمعیت باعث بروز چه مشکلاتی می‌شود؟
- ۵۱ ایران در کدام قسمت قاره آسیا واقع شده‌است؟




- ۵۲) شهرداری چه کارهایی انجام می‌دهد؟ (چهار مورد)
- ۵۳) نحوه زندگی مردم ایران به چند صورت است؟
- ۵۴) چه وسایلی به شناخت محیط زندگی کمک می‌کنند؟ نام ببرید.
- ۵۵) هر یک از مفاهیم زیر را تعریف کنید.
- ۵۶) چهار مورد از حقوق خود در خانه و خانواده را بنویسید.
- ۵۷) آیا انسان‌ها می‌توانند به تنهایی زندگی کنند؟ توضیح دهید.
- ۵۸) درآمد حکومت در ایران باستان در چه اموری مصرف می‌شد؟
- ۵۹) جاده شاهی به دستور چه کسی ساخته شد؟
- ۶۰) گزینه صحیح را انتخاب نمایید.
- الف)** برای اداره کردن کشور آن را به بخش‌هایی قسمت کرده‌اند که به هر یک می‌گویند.
- ۱ - شهرستان ۲ - استان ۳ - ایالت ۴ - منطقه
- ب)** آخرین پادشاه ساسانی چه کسی بود؟
- ۱ - اردشیر بابکان ۲ - خسرو پرویز ۳ - یزدگرد سوم ۴ - شاپور



پاسخنامه تشریحی

- ۱- واژه جشن از یشت و بنسۀ اوستایی گرفته شده و به معنای پرستیدن و نیایش است.
- ۲- ۱- خط ۲- عقاید مذهبی ۳- حکومت ۴- معماری، شهرسازی و هنر ۵- قوانین و مقررات ۶- تقسیم کار، مهارت در کارهای مختلف، داد و ستد و تجارت (ذکر چهار مورد کافی است).
- ۳- در زمان هخامنشیان برای اولین بار به فرمان داریوش اول سکه‌ای زرین به نام دریک (زریک) ضرب شد.
- ۴- اسکندر با استفاده از ضعف هخامنشیان، یونانیان را به انتقام‌جویی از ایرانیان فراخواند. سپس با فرماندهی آنها در چند جنگ سپاه هخامنشی را شکست داده و ایران را فتح کردند.



۵- (خط در دورۀ اشکانیان و ساسانیان)

(خط دورۀ هخامنشیان)



(خط از آریایی‌ها در تمدن‌هایی چون جیرفت و ایلام)

- ۶- ۱- تفتان ۲- هزارمسجد ۳- دماوند ۴- سبلان ۵- زردکوه ۶- لاله زار ۷- شیرکوه
- ۷- خط میخی آغازین در اصل نوعی خط تصویرنگاری بود که بر لوح نقش می‌کرده‌اند.
- ۸- الف) جمعیت جوان کاهش و تعداد سالمندان افزایش - اقتصاد کشور رو به رکودی می‌رود - کاهش توان دفاعی (ب) کودکان و جوانان (پ) رشد اقتصادی - افزایش خانواده - ایجاد شور و شوق در جامعه - شکست‌ناپذیری در جنگ
- ۹- مصرف‌گرایی باعث می‌شود از کالاهایی که در دسترس داریم به نحو احسن استفاده نکنیم و در نگهداری آن کوشا نباشیم. در نهایت به سمت اسراف سوق داده شویم. باعث راحت‌طلبی، تحمل‌پرستی و حتی تمایز کردن خویش از افراد دیگر با در اختیار گرفتن کالاها و خدمات بیشتر دارد.
- ۱۰- بله - می‌توانند اظهار نظر کنند و با احترام و با نظر همدیگر کار درست انتخاب شود.
- ۱۱- در دوره‌ی ساسانیان به‌دستور شاپور ساسانی در شهر جندی‌شاپور (خوزستان کنونی)
- ۱۲- امپراتوری‌های
- ۱۳- پارسی میانه
- ۱۴- چین و هند را در شرق به اروپا در غرب متصل می‌کرد و بخشی از این جاده از خاک ایران عبور می‌کرد.



۱۵ فصل

۱۶ مازاد

۱۷ زیاله‌ها را می‌سوزانند یا در مناطقی از زمین دفن می‌کنند.

۱۸ ۱) در محیط زندگی خودتان درخت و گل بکارید تا زیستگاه طبیعی کوچکی برای حیوانات درست کنید.

۲) در مصرف کاغذ و دستمال کاغذی بسیار دقت کنید، کاغذها و روزنامه‌ها را برای بازیافت جدا کنیم.

۳) در منطقه جنگلی به حد امکان آتش روشن نکنیم.

۴) حیوانات خشک‌شده یا وسایل تزئینی که از اعضای بدن حیوانات درست شده را نخیریم. (مثل عاج فیل)

۱۹ وسایل و ظروف سنگی و مفرغی با نقش جانوران، زیگورات و کتیبه‌های آجری

۲۰ با سقوط حکومت ساسانیان و ورود اسلام به ایران آغاز شد و تا کنون ادامه دارد.

۲۱ کم

۲۲ کوهپایه

۲۳ شمال

۲۴ آذربایجان

۲۵ آفت‌کش‌های

۲۶ جیرفت

۲۷ مسئولیت‌های

۲۸ دولت‌های ایران باستان قلمرو وسیعی داشتند.

۲۹ موقعیت جغرافیایی

۳۰ در گذشته‌های دور با رونق کار و کشاورزی تولید محصول زیاد شد. با تولید غذای کافی دیگر همه مجبور به کار کشاورزی نبودند و به تدریج افراد دیگر توانستند به کارهای دیگر بپردازند و در برخی کارها مهارت پیدا کنند. هرکس تولید یک کالا یا چند کالا را برعهده گرفت.

۳۱ به صورت توافق عادت و رسم

۳۲ از جلگه خوزستان تا بندر چابهار کشیده شده است.

۳۳ مادی

۳۴ ایرانیان

۳۵ ۱) علاوه بر اهمیت زیارتی از نظر معماری و تاریخی نیز اهمیت دارد. ۲) در هریک از صحن‌ها شاهکارهایی از معماری ایرانی - اسلامی مشاهده می‌شود. ۳) در صحن‌ها آرامگاه برخی شخصیت‌های بزرگ علمی مذهبی کشور وجود دارد. ۴) دارای چند کتابخانه بزرگ، مهمان‌سرا و چند موزه باشکوه است.

۳۶ محدود

۳۷ مثبت (آری)

۳۸ ۱) حیات و زندگی ۲) ازدواج و تشکیل خانواده ۳) انتخاب راه زندگی خود ۴) آزادی و عدم بندگی

۳۹ گردشگری

۴۰ کم

۴۱ افزایش

۴۲ سرانه

۴۳ گردشگر

۴۴ ایران به دلیل دارا بودن تاریخ طولانی، آثار و بناهای متعددی دارد. کاخ‌ها، مساجد، کاروانسراها، حمام‌ها، بازارها، پل‌ها، خانه‌های تاریخی و برج‌ها از جمله این آثار هستند.

۴۵ گزینهٔ «ب» منابع مالی، ماشین آلات، ابزار کار و زمین یا ساختمانی که تولید در آنها صورت می‌گیرد، سرمایه هستند.

۴۶

| نوع بیمه | بیمهٔ اتومبیل | بیمهٔ منازل مسکونی | بیمهٔ شخص ثالث | بیمهٔ حوادث ناشی از کار برای کارمندان، کارگران |
|------------------|---------------|--------------------|----------------|--|
| اختیاری / اجباری | اختیاری | اجباری | اجباری | اجباری |

۴۷ نیازها - قوانین

۴۸ در دورهٔ ساسانیان، اگرچه اغلب مردم دین زرتشتی داشتند و حکومت از آن دین پشتیبانی می‌کرد، اما پیروان دین‌های مسیحی، یهودی، بودایی و مانوی نیز در ایران زندگی می‌کردند.

۴۹ زیرا ایرانیان باستان آتش را مقدس می‌شمردند.

۵۰ وقتی رشد جمعیت منفی می‌شود کشورها با مشکلات مهمی روبرو می‌شوند. در این کشورها با کم شدن زاد و ولد، جمعیت جوان کاهش و تعداد سالمندان افزایش می‌یابد و جامعه از نیروی جوان که می‌تواند کار کند و با فعالیت‌های اقتصادی و آموختن علم به پیشرفت کشور کمک کند، محروم می‌شود.

۵۱ جنوب غربی

۵۲ ۱. احداث و تعمیر یا آسفالت خیابان‌ها، پل‌ها، تونل‌ها و پیاده‌روها برای رفت و آمد بهتر شهروندان

۲. ایجاد فضای سبز و کاشتن درخت و نهال در مکان‌های مختلف شهر و احداث بوستان (پارک) و زمین بازی کودکان

۳. نظافت کوچه‌ها و خیابان‌ها و جمع‌آوری و دفع زباله‌ها

۴. نظارت بر ساخت و سازها یعنی اگر افراد بخواهند ساختمانی برای محل سکونت یا کسب و کار خود بسازند باید از شهرداری "پروانهٔ ساختمان" بگیرند.

۵. ایجاد فرهنگ‌سراها و خانه‌های سلامت برای اوقات فراغت مردم

۶. نظارت بر حمل و نقل عمومی (اتوبوس، تاکسی، مترو برای رفت و آمد مردم)



۵۳) ۱- شهری، ۲- روستایی، ۳- عشایری

۵۴) نقشه، عکس، کره جغرافیایی، کتاب‌ها و فرهنگ‌نامه‌ها، رایانه و اینترنت

۵۵) الف) حقوق متقابل: ما در روابطی که با دیگران برقرار می‌کنیم دارای «حقوق متقابل» هستیم. همان‌طور که ما حق داریم، پدر و مادر و معلم و همسایگان و دوستان و... نیز حقی بر ما دارند. ب) مسئولیت: مسئولیت یعنی وظیفی که هر یک از ما به عهده داریم و انتظار می‌رود آنها را انجام دهیم.
حقوق متقابل - مسئولیت

۵۶) ۱. هر فرد حق دارد نام و نام خانوادگی و شناسنامه داشته باشد.

۲. فرزندان حق دارند از محبت و توجه پدر و مادر برخوردار باشند.

۳. همه حق دارند باسواد شوند و تحصیل کنند و استعدادهای خود را شکوفا کنند.

۴. همه افراد حق دارند غذا، لباس و مسکن مناسب داشته باشند.

۵. هیچ‌کس حق ندارد دیگری را مسخره کند یا به او صدمه بزند.

۵۷) هیچ‌کس نمی‌تواند به تنهایی زندگی کند. ما از ابتدای تولد با مادر و پدر و برادر و خواهر و خویشان ارتباط برقرار می‌کنیم. سپس به مدرسه می‌رویم و آنجا نیز هر روز با معلمان و هم‌کلاسی‌هایمان ارتباط داریم. وقتی بزرگ‌تر می‌شویم، ازدواج می‌کنیم، صاحب فرزند می‌شویم، با همسر و فرزندان زندگی می‌کنیم و در محله یا شهر و روستا برای رفع نیازهای مادی و معنوی خود از دیگران کمک می‌گیریم.

۵۸) بخش زیادی صرف جنگ با دشمنان می‌شد. قسمت دیگری از آن به مصارف شخصی شاه و شاهزادگان و درباریان می‌رسید. بخشی از آن نیز برای پرداخت حقوق مأموران حکومتی، احداث و نگهداری و تعمیر آتشکده‌ها، کاروانسراها، قنات‌ها و سدها هزینه می‌شد.

۵۹) جاده شاهی به فرمان داریوش اول ساخته شد.

۶۰)

الف) گزینه «۲»، - برای بهتر اداره کردن کشور آن را به بخش‌هایی تقسیم کرده‌اند که هر یک را یک استان می‌نامند.

ب) یزدگرد سوم آخرین پادشاه ساسانی بود.