



نام و نام خانوادگی:

زمان برگزاری:

نام آزمون: مطالعات اجتماعی پایه هفتم متوسطه

تاریخ آزمون:

۱ خداوند همهٔ انسان‌ها را ..... آفریده است.

۲ برای تولید هر محصولی، نیروی انسانی باید ..... و ..... را داشته باشد.

۳ بر روی نقشهٔ ..... جاده‌های اصلی و فرعی مشخص شده است.

۴ در جمله‌های زیر عبارات نادرست را اصلاح کنید.

۱ مهم‌ترین حق همهٔ انسان‌ها حق برخورداری از وسایل تفریحی است.

۲ در جوامع امروز، تولید کالا به شدت به محیط زیست آسیب رسانده است.

۵ دو مورد از کارهایی که برای رعایت و احترام به حقوق مصرف‌کننده انجام می‌شود را نام ببرید.

۶ دو مورد از علل به وجود آمدن قوانین و مقررات را بنویسید.

۷ وظایف محیط‌بانان را بنویسید.

۸ دلایل حفاظت از محیط‌زیست را بنویسید.

۹ انسان‌ها حق ندارند به دلیل زیاده‌روی در مصرف یا ..... گونه‌ها را نابود کنند.

۱۰ بیمهٔ اجباری چیست؟

۱۱ سه قوم بزرگ آریایی را نام ببرید.

۱۲ درستی یا نادرستی عبارت‌های زیر را مشخص کنید.

**الف** تعداد زیادی از مردم ایران زندگی عشایری دارند.

**ب** هر استان به چند شهر تقسیم می‌شود.

**پ** شهرها توسط شورای اسلامی شهر اداره می‌شوند.

**ت** ایجاد فرهنگسراها از خدمات شهرداری است.

**ث** تعمیر حمام، پل و مسجد از خدمات مجلس شورای اسلامی است.

۱۳ لطفاً گزینهٔ صحیح را مشخص کنید.

**الف** خاک‌های نامساعد و شور به دلیل تراکم کم جمعیت در کدام منطقه از کشور است؟

الف) مناطق جنوبی (ب) نواحی داخلی (ج) نواحی غربی (د) مناطق شرقی

**ب** کدام یک جزء وجوه غیرمادی میراث فرهنگی است؟

الف) کتاب‌های قدیمی (ب) بناهای تاریخی (ج) زبان (د) مساجد و امامزاده‌ها

۱۴ تولیدکنندگان بعد از تولید چه اقداماتی را انجام می‌دهند؟

۱۵ زبان ایرانیان در دورهٔ اسلامی چه بود؟

الف) پارسی میانه (ب) پهلوی (ج) دری (د) پارسی باستان

۱۶ مورخان تاریخ ایران را به دو دوره تقسیم کرده‌اند، نام ببرید.

۱۷ مهم‌ترین مساجد از نظر معماری در ایران را نام ببرید.

۱۸ پارک‌های ملی را تعریف کنید.

۱۹ تراکم جمعیت را تعریف کنید.

۲۰ سه مورد از ابتکارات بزرگ ایرانیان باستان در زمینهٔ نظامی را نام ببرید.



۲۱) پارک ملی ..... از بزرگ‌ترین پارک‌های ملی ایران است.

۲۲) دو مورد از مهم‌ترین اشیای موجود در موزه آستان قدس رضوی را بنویسید.

۲۳) دین زرتشتی در دوره کدام سلسله دین رسمی کشور اعلام شده است؟

۲۴) آریایی‌ها از چه مناطقی به سرزمین ایران مهاجرت کردند؟


۲۵) تمدن جیرفت در کجا به وجود آمد؟

۲۶) گردشگری را تعریف کنید و دو مورد از اهمیت گردشگری را بنویسید.

۲۷) یکی از بنادر مهم و مراکز گردشگری در سواحل دریای عمان را نام ببرید.

۲۸) مسئول اجرای قوانین و مقررات محیط‌زیست در یک منطقه چه کسی است؟

۲۹) حدس بزنید هر کدام چه فعالیتی را نشان می‌دهد؟



۳۰) این سنگ‌نگاره چه مرحله‌ای از زندگی بشر را نشان می‌دهد؟



۳۱

به نقشه توجه کنید و به سؤال‌های زیر پاسخ دهید:

- چند آژانس هواپیمایی نزدیک به حرم پیدا کنید و دور آن‌ها را خط بکشید.
- آیا حرم به فرودگاه نزدیک‌تر است یا ایستگاه راه آهن؟
- خیابان‌های اصلی در چهار جهت حرم مطهر را پیدا کنید و نام آنها را بنویسید.
- پارک کوه سنگی در کدام سمت حرم مطهر قرار گرفته است؟



درباره هر یک از موقعیت‌های زیر گفت‌وگو کنید و پیامدهای هر موقعیت را در کلاس بگویید.  
 الف) اگر فردی زباله‌ها را در آب رودخانه‌ای که از کنار روستا می‌گذرد، بریزد ...



- ..... -
- ..... -
- ..... -
- ..... -

ب) اگر گروهی در هنگام مسافرت در یک فضای سبز کنار جاده توقف کنند و آنجا ناهار بخورند، سپس پلاستیک غذاها و بطری نوشابه و زباله‌ها را در آنجا رها کنند و بروند .....



- ..... -
- ..... -

ج) اگر گروهی از دانش‌آموزان به یک اردوی تفریحی در ناحیه جنگلی بروند، چای درست کنند و بخورند اما در هنگام ترک آنجا، آتش را با دقت خاموش نکنند.



- ..... -
- ..... -
- ..... -

د) اگر پسری تفنگ بادی را به پارک کوچک نزدیک خانه‌شان ببرد و به پرندگان شلیک کند، .....

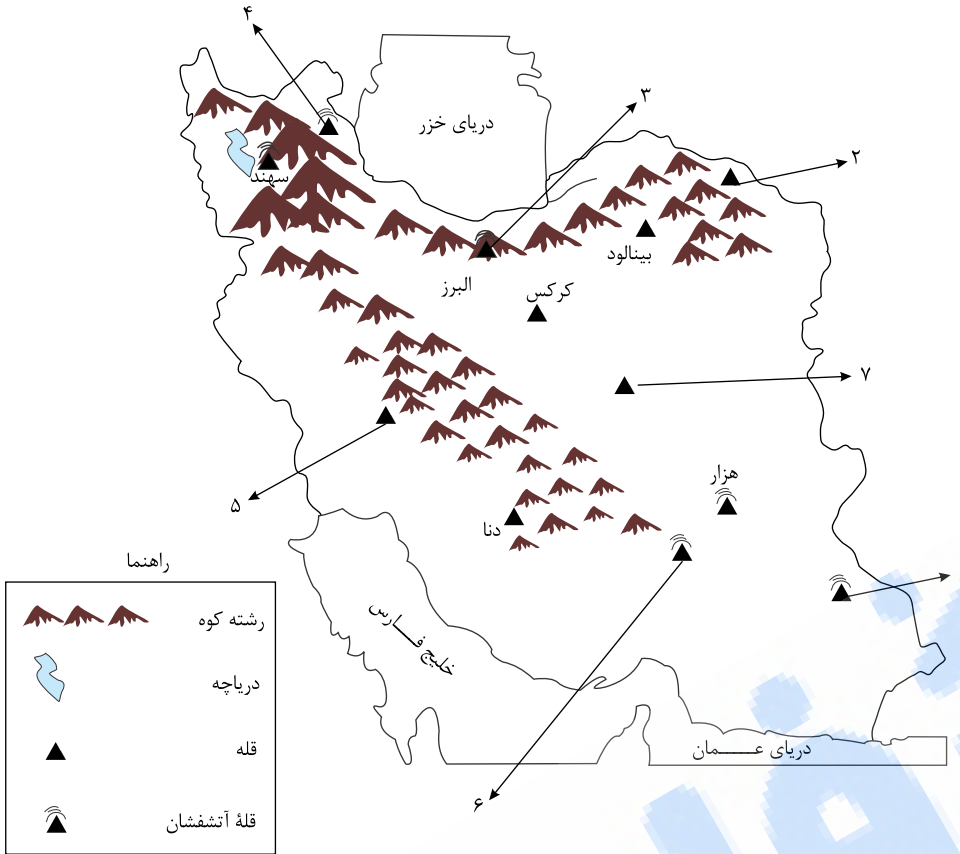


- ..... -
- ..... -

۳۳ - روی نقشه نام قلّه‌هایی را که نوشته نشده است بنویسید.

- دریاها را با مداد آبی رنگ کنید.

- کدام قلّه‌ها آتشفشان بوده‌اند؟ بنویسید.



۳۴ با راهنمایی و کمک معلم، نقشه تقسیمات سیاسی (کشوری) استان محل زندگی تان را پیدا کرده، رونوشت بگیرید، و در این محل بچسبانید. سپس

به پرسش‌ها پاسخ دهید.

نقشه‌خوانی:

- استان شما چند شهرستان دارد؟ با شماره مشخص کنید.

- مرکز استان شما کدام شهر است؟

- بزرگ‌ترین شهرستان و کوچک‌ترین شهرستان استان شما کدام است؟

- شهر یا روستایی که شما در آن زندگی می‌کنید در کدام شهرستان این استان واقع شده است؟



۳۵ به نظر شما چرا از خانه‌های مردم معمولی آن دوران نمونه‌های بسیار کمی مانده، اما بقایای کاخ‌ها، آتشکده‌ها و... هنوز باقی است؟

۳۶ کدام ورزش‌های امروزی در ایران باستان وجود نداشته است؟ چرا؟

۳۷ گفت‌وگو کنید:

(الف) چرا ساسانیان مانع از ارتباط مستقیم تجاری میان چین و هند با روم (اروپا) می‌شدند و از این کار چه هدفی داشتند؟

(ب) به نظر شما، رفت و آمد بازرگانان از طریق جاده ابریشم علاوه بر تجارت و انتقال کالاها، چه پیامدهای دیگری برای مردم کشورهای آن زمان داشت؟

۳۸ پنج شغل یا حرفه از جهان باستان نام ببرید که در دنیای امروز هم وجود دارد. بگویید این حرفه‌ها چه تغییری نسبت به آن زمان داشته‌اند؟

۳۹ همفکری کنید و پنج شغل یا حرفه از دنیای امروز نام ببرید که در جهان باستان وجود نداشته است. بگویید چرا این حرفه‌ها نمی‌توانستند در

جامعه آن زمان وجود داشته باشند؟

۴۰ به فهرست سوره‌های قرآن کریم مراجعه کنید:

الف) نام سوره‌هایی را که به نام یک پیامبر نامیده شده، استخراج کنید و بنویسید.

ب) معنی آیات ۱۰۳ تا ۱۴۰ سوره اعراف را بخوانید. این آیات مربوط به سرگذشت کدام پیامبر الهی است؟ به طور خلاصه در کلاس تعریف کنید.

۴۱ به تصاویر زیر دقت کنید. چه آثاری مشاهده می‌کنید؟ آیا این آثار با ارزش هستند؟ چرا؟ گفت‌وگو کنید.



۴۲ ایران در بین کشورهای همسایه از نظر جمعیت در چه رتبه‌ای قرار دارد؟



آمار جمعیت کشورها براساس سال ۲۰۱۰ میلادی است

۴۳ به چند گروه تقسیم شوید.

هر گروه با راهنمایی معلم به قرآن کریم مراجعه کنید، این آیات را پیدا کنید، معنی آنها را در کلاس بخوانید و با هم درباره پیام آیه گفت‌وگو کنید. سوره انعام (آیه ۹۹) سوره یس (آیات ۳۵ - ۳۲) سوره هود (آیه ۶۰) سوره الرحمن (آیات ۱۲ - ۱۰) فهرست سوره‌های قرآن را بررسی کنید و تعدادی از سوره‌هایی را که به نام یک گیاه یا جانور است، بیابید.

۴۴ همفکری کنید. شما از چه راه‌هایی می‌توانید برای حفاظت از شهر یا روستای خود با شهرداری یا دهیاری همکاری کنید؟ چند مورد بگویید.

۴۵ مصرف‌گرایی چه آسیب‌های اخلاقی برای مردم ایجاد می‌کند؟

۴۶ روایت زیر را که برگرفته از کتاب داستان راستان استاد شهید مرتضی مطهری است در کلاس بخوانید و ارتباط آن را با این درس توضیح دهید.

پیرمردی نصرانی (مسیحی) عمری کار کرده و زحمت کشیده، اما در آخر عمر کور شده بود و کنار کوچه می‌ایستاد و گدایی می‌کرد. روزی امیرالمؤمنین علی بن ابیطالب (ع) از آنجا عبور می‌کردند و او را به آن حال دیدند. امام علی (ع) در صدد جست‌وجوی احوال پیرمرد افتادند تا ببینند چه شده که این مرد به این حال و روز افتاده است؟ آیا فرزندی ندارد که او را سرپرستی کند؟ کسانی که پیرمرد را می‌شناختند، آمدند و شهادت دادند که این پیرمرد نصرانی است و تا جوان بوده و چشم داشته کار می‌کرده است و اکنون که هم جوانی را از دست داده و هم چشم را، نمی‌تواند کار بکند و ذخیره‌ای هم ندارد، به ناچار گدایی می‌کند. امام علی (ع) فرمودند: عجب! تا وقتی که توانایی داشت از او کار کشیدید و اکنون او را به حال خود گذاشته‌اید؟! گذشته این مرد نشان می‌دهد که در مدتی که توانایی داشته کار کرده و خدمت انجام داده است. بنابراین برعهده حکومت و اجتماع است که تا زنده است او را سرپرستی کند. بروید از بیت‌المال به او مستمری بدهید.

۴۷ به چند گروه تقسیم شوید و یک مکان یا گروه اجتماعی را انتخاب کنید. جدولی دو ستونی رسم کنید که در آن مقررات مربوط به آن مکان در یک ستون و کارکرد آن در ستون مقابل نوشته شود.

مثال: پمپ بنزین: ۱- ورود با صف ..... نظم و احترام به حقوق دیگران.

- ۴۸) به این موقعیت‌ها توجه کنید و بگویید هر کدام چه پیامدهایی دارد و کدام حقوق نادیده گرفته می‌شود؟
- فردی زباله‌های خانه خود را در گوشه پارکی مقابل محوطه بازی کودکان بریزد.
  - فردی بخواهد خارج از صف افرادی که در نانوایی ایستاده‌اند، نان بگیرد.
  - فروشنده‌ای که رایانه‌ای را فروخته و وقتی مشتری از او برگه خرید (فاکتور) می‌خواهد به او نمی‌دهد.
  - راننده‌ای که بدون توجه به علامت عبور ممنوع، داخل خیابان یک‌طرفه می‌شود و شد آمد (ترافیک) به وجود می‌آورد.
  - موتورسواری که به علت شلوغی خیابان وارد پیاده‌رو می‌شود و از بین مردم عبور می‌کند.
  - شرکت ساختمانی که قرار است سالن ورزشی برای مردم بسازد، اما مقررات ساختمان‌سازی و مصالح مناسب را به کار نبرد.
  - عابر پیاده که بدون توجه به چراغ راهنما از لابه‌لای اتومبیل‌ها حرکت می‌کند.
- ۴۹) آیا همه اعضا حق اظهار نظر درباره موضوع را داشتند؟ (باتوجه به درس ۳)
- ۵۰) دانشگاه جندی شاپور در کدام دوره به دستور چه کسی ساخته شد؟
- ۵۱) ساختار تقویم ایرانیان چگونه بود و چه نام داشت؟
- ۵۲) ایرانیان باستان با سنجش و تعیین ..... به خوبی آشنا بودند.
- ۵۳) تمدن‌های باستانی هم‌چون ..... صاحب خط بوده‌اند.
- ۵۴) در صنعت پارچه‌بافی ایران، پارچه‌ها از چه جنسی بودند؟
- ۵۵) شاهنامه فردوسی جشن نوروز را به زمان تاج‌گذاری ..... نسبت می‌دهد.
- ۵۶) برای اولین بار، سکه‌ای زرین به نام ..... در زمان هخامنشیان ضرب شد.
- ۵۷) حکومت‌ها در بعضی از مواقع به سبب جلوگیری از ..... و بروز خشکسالی بخش‌هایی در پرداخت مالیات صورت می‌دادند.
- ۵۸) بزرگان و اشراف از پرداخت مالیات ..... معاف بودند.
- ۵۹) حاکمان ایالت‌ها می‌توانستند با اجازه پادشاه، سکه‌های ..... یا مسین ضرب کنند.
- ۶۰) تا قبل از رواج سکه، دهنشینان ..... محصولات خود را با محصولات دیگر مبادله می‌کردند.
- ۶۱) به فرمان ..... جاده شاهی ساخته شد.
- ۶۲) امروزه برای از بین بردن زباله‌ها چه می‌کنند؟
- ۶۳) در اوستا، عبارت‌هایی درباره اهمیت و ارزش کار ..... دیده می‌شود.
- ۶۴) چه عواملی باعث مصرف‌گرایی می‌شود نام ببرید.
- ۶۵) بر روی برچسب مشخصات کالا چه اطلاعاتی درج می‌شود؟
- ۶۶) امروزه برای مبادله از چه شیوه‌هایی استفاده می‌شود؟
- ۶۷) نوشته هرودوت در مورد اختلاف طبقاتی جامعه ایران باستان را بنویسید.
- ۶۸) پس از یکجانشینی، زندگی انسان‌ها چه تغییراتی کرد؟
- ۶۹) جامعه ساسانی به دو طبقه بزرگان و ..... تقسیم می‌شد.
- ۷۰) ایرانیان باستان برای اولاد ..... ارزش خاصی قائل بودند.
- ۷۱) در ایران باستان، مرکز تربیت و آموزش ..... بودند.
- ۷۲) در ایران باستان اگر کسی عمداً ازدواج نمی‌کرد، ..... شمرده می‌شد.
- ۷۳) دامنه‌های شمالی و جنوبی رشته‌کوه البرز را مقایسه کنید.
- ۷۴) ویژگی‌های تمدن را بنویسید.
- ۷۵) شکارچیان چه تأثیری در نابودی گونه‌های جانوری دارند؟
- ۷۶) خط چگونه اختراع شد؟
- ۷۷) دلیل نام‌گذاری موزه‌ای به نام موزه ایران باستان چیست؟

- ۷۸ در ایران ..... موجب شده است، گونه‌های گیاهی و جانوری تنوع زیادی داشته باشند.
- ۷۹ جلگه‌ها مکان مناسبی برای ..... هستند.
- ۸۰ گیاهان دارای خاصیت دارویی در طبیعت ..... و گل‌گاوزبان هستند.
- ۸۱ رشته‌کوه البرز در ..... ایران واقع است.
- ۸۲ از راه‌های شکرگزاری از نعمت‌های الهی، رابطهٔ صحیح و درست با ..... است.
- ۸۳ کوه‌های ..... در شمال غربی ایران قرار گرفته‌اند.
- ۸۴ ایران دارای تنوع ..... است.
- ۸۵ کارکنان شهرداری برای داشتن شهری زیباتر و ..... زندگی ساکنان شهر تلاش می‌کنند.
- ۸۶ سم‌هایی که در ..... کشاورزی وجود دارد، اثرات بدی در طبیعت دارد.
- ۸۷ عدهٔ کمی از مردم ایران زندگی ..... دارند.
- ۸۸ شکار بیش از حد و ..... بی‌رویه باعث کاهش گونه‌های جانوری می‌شود.
- ۸۹ ما در برابر چه چیزهایی و چه کسانی مسئول هستیم؟
- ۹۰ انواع خدمات بیمه، به بیمه‌شوندگان را بنویسید.
- ۹۱ بیمه‌گر و بیمه‌شونده را توضیح دهید.
- ۹۲ خریدار می‌تواند با توجه به علامت ..... به خوبی جنسی که می‌خرد اطمینان داشته باشد.
- ۹۳ استفاده از اموال عمومی که متعلق به ..... است مسئولیت من در مدرسه است.
- ۹۴ زندگی بشر از مراحل ..... آغاز شده است.
- ۹۵ استاندارد به معنی نمونهٔ ..... است.
- ۹۶ فروشنده به اندازهٔ ..... که فروخته است می‌تواند کالای دیگری بخرد.
- ۹۷ از فضل پروردگار این است که مرا ..... کند.
- ۹۸ افراد در نقش‌های مختلف ..... مختلف دارند.
- ۹۹ موسسهٔ بیمه‌گر در قبال دریافت ..... از بیمه‌شونده خسارت ناشی از حوادث معین را جبران می‌کند.
- ۱۰۰ در ابتدای هر سال والدین پولی را به مدرسه بابت بیمه ..... می‌پردازند.
- ۱۰۱ سپاه جاویدان در زمان هخامنشیان را توضیح دهید.
- ۱۰۲ ویژگی کسب حلال چیست؟
- ۱۰۳ مهم‌ترین عواملی را که در قانون اساسی معین شده است را نام ببرید.
- ۱۰۴ قانون را تعریف کنید.
- ۱۰۵ یک مثال از مقررات و دستورهای مذهبی و اخلاقی را بنویسید.
- ۱۰۶ حوضه‌های آبریز ایران را نام ببرید.
- ۱۰۷ قانون اساسی ایران در آذرماه سال ۱۳۵۸ به ..... گذاشته شد.
- ۱۰۸ میراث فرهنگی مادی و غیر مادی را نام ببرید.
- ۱۰۹ سلسلهٔ ساسانی چگونه به پایان رسید؟
- ۱۱۰ جانشینان اشک چه اقدامی انجام دادند؟
- ۱۱۱ مسئولیت حفاظت و نگهداری از میراث فرهنگی بر عهدهٔ ..... است.
- ۱۱۲ میراث فرهنگی، آثار ..... و غیر مادی را شامل می‌شود.
- ۱۱۳ چرا مادها مورد هجوم همسایگان خود بودند؟
- ۱۱۴ اشکانیان چندین قرن در برابر هجوم سپاه نیرومند ..... ایستادند.



- ۱۱۵) اسکندر مقدونی یونانیان را به انتقام جویی از ..... فرا خواند.
- ۱۱۶) در پارک‌های ملی چه کارهایی ممنوع است؟
- ۱۱۷) با افزایش جمعیت و تغییر ..... مصرف آب افزایش یافته است.
- ۱۱۸) آب و خاک از منابع ..... هستند.
- ۱۱۹) قانون‌گذاران باتوجه به نیازها و موضوعات مختلف ..... قوانین را وضع می‌کنند.
- ۱۲۰) با استفاده از رایانه و اینترنت چگونه می‌توان اطلاعات جغرافیایی به‌دست آورد؟
- ۱۲۱) در همه‌پرسی قانون اساسی ایران مردم به آن رأی ..... دادند.
- ۱۲۲) مقیاس خطی چیست؟
- ۱۲۳) اشکال مختلف بارش را نام ببرید.
- ۱۲۴) هر جامعه برای حفظ نظم و ..... و حقوق افراد نیاز به قوانین و مقررات دارد.
- ۱۲۵) ۴ مورد از حقوق طبیعی انسان‌ها را بنویسید.
- ۱۲۶) ویژگی‌های طبیعی مکان‌ها را نام ببرید.
- ۱۲۷) توصیه قرآن به انسان‌ها در مورد سفر در آیه ۳۲ سوره روم چیست؟
- ۱۲۸) دو ویژگی همه مکان‌ها را بنویسید.
- ۱۲۹) یکی از عوامل افزایش درآمد در یک منطقه ..... است.
- ۱۳۰) چرا انسان، نباید بنده و برده دیگر انسان‌ها باشد؟
- ۱۳۱) با کمک گرفتن از ..... می‌توان مکان‌های جدید را بهتر ایجاد کرد.
- ۱۳۲) در گذشته کسانی که به مسافرت می‌رفتند بسیار ..... بود.
- ۱۳۳) انواع گروه‌های سنی جمعیت را نام ببرید.
- ۱۳۴) تبعه یک کشور بودن یعنی چه؟
- ۱۳۵) هر چه از غرب به شرق ناحیه خزری می‌رویم، مقدار باران ..... می‌یابد.
- ۱۳۶) محصول مهم ناحیه خزری ..... است.
- ۱۳۷) امروزه چگونه می‌توان به سرعت از اخبار حوادث در مناطق مختلف آگاه شد؟
- ۱۳۸) هیچ‌کس نمی‌تواند به ..... زندگی کند.
- ۱۳۹) مسئولان و معلمان مدرسه باید با همه دانش‌آموزان با اخلاق نیکو، مهربانی و ..... رفتار کنند.
- ۱۴۰) در بعضی استان‌های غربی ایران، دمای هوا ..... است.
- ۱۴۱) تراکم پایین جمعیت در نواحی داخلی ایران به دلیل کمبود باران و خاک ..... است.
- ۱۴۲) جغرافی دانان از ابزار و وسایل مختلفی برای شناخت ..... استفاده می‌کنند.
- ۱۴۳) در کوهپایه‌های البرز و زاگرس ..... حاصل‌خیز جمعیت زیادی را جذب کرده است.
- ۱۴۴) هر مکان دارای ویژگی‌های طبیعی و ..... است.
- ۱۴۵) مرکز آمار ایران اطلاعات جمعیت را به‌صورت ..... یا نشریات الکترونیکی منتشر می‌کند.
- ۱۴۶) ما در روابطی که به‌طور دائم با یکدیگر داریم از ..... مشخصی برخوردار می‌شویم.
- ۱۴۷) اگر تعداد افرادی که متولد می‌شوند بیش‌تر از افرادی که می‌میرند باشد جمعیت ..... می‌یابد.
- ۱۴۸) این که پس از درک احساس فرد حادثه‌دیده به کمک او بشتابیم، ..... گفته می‌شود.
- ۱۴۹) درستی یا نادرستی عبارت‌های زیر را تعیین کنید.
- الف)** مقررات همیشه به‌صورت دستورهای مذهبی و اخلاقی است.
- ب)** ممنوعیت عبور از چراغ قرمز، مقررات اجتماعی است.
- پ)** سایر قوانین در چارچوب قانون اساسی تصویب می‌شوند.
- ت)** پس از انقلاب مجلس خبرگان طی چند سال قانون اساسی را نوشتند.
- ث)** ۶ نفر فقیه شورای نگهبان از سوی قوه قضائیه به مجلس معرفی می‌شوند.

ج تأیید صلاحیت نامزدهای انتخابات بر عهده شورای نگهبان است.

۱۵۰ درست یا نادرست بودن عبارت‌های زیر را مشخص کنید.

الف حق بیمه مبلغی است که بیمه‌شونده باید به بیمه‌پردازد.

ب ساختمان بیمه‌ی مرکزی در شهر کرج واقع شده است.

پ دو نوع بیمه‌ی اجباری و اختیاری وجود دارد.

ت در بیمه‌ی اجباری افراد داوطلب می‌شوند از بیمه استفاده کنند.

۱۵۱ درستی یا نادرستی عبارت‌های زیر را مشخص کنید.

الف اقوام آریایی برای برخی عناصر خلقت ایزدانی قائل بودند.

ب چوگان بازی، ورزشی است که رومیان آن را ابداع کردند.

پ در عهد باستان، شاد زیستن را یک موهبت الهی می‌دانستند.

ت در دوره ساسانیان آتشکده‌های زیادی در ایران ساخته شد.

ث سلسله‌های پس از هخامنشیان جشن نوروز را از میان برداشتند.

۱۵۲ درستی یا نادرستی عبارت‌های زیر را مشخص کنید.

الف زبان فارسی در دوره‌های مختلف تغییرات زیادی کرده است.

ب ایرانیان باستان تقویم را برای داد و ستد و تجارت به‌وجود آوردند.

پ تخت سلیمان و طاق کسری از بناهایی هستند که پیشرفت ایرانیان را در معماری نشان می‌دهد.

ت ایرانیان باستان خواص درمانی گیاهان را می‌شناختند.

ث در کتاب اوستا از سه نوع حرفه در ایران باستان نام برده شده است.

ج ایرانیان تغییرات زیادی در خط میخی به‌وجود آوردند.

۱۵۳ صحیح یا غلط بودن عبارت‌های زیر را مشخص کنید.

الف گاهی ممکن است مورخان با دست‌یافتن به شواهد و مدارک جدید، تغییراتی در نظرات خود بدهند.

ب تاریخ دوره اسلامی با سقوط هخامنشیان و ورود اسلام به ایران آغاز شد.

پ اشکانیان منسوب به یکی از اقوام آریایی به نام پارس‌ها بودند.

ت سپاه جاویدان از ابتکارات کوروش هخامنشی بود.

ث زبان رایج عصر اشکانیان و ساسانیان، زبان پهلوی بوده است.

۱۵۴ گزینه صحیح را انتخاب کنید.

الف کدام یک از بناهای زیر از نظر معماری، وسعت و عظمت شهرت جهانی دارد؟

الف) پاسارگاد (ب) تخت جمشید (ج) طاق بستان (د) تخت سلیمان

ب در دوره ساسانیان دین رسمی کشور چه بود؟

الف) مانوی (ب) یهودی (ج) مسیحی (د) زرتشتی

پ خانواده‌ها کدام اصول و ارزش‌های اخلاقی را به اعضای خانواده خود می‌آموختند؟

الف) راستگویی (ب) امانتداری (ج) میهن‌دوستی (د) همه موارد

ت مهمترین پیشه و وسیله معیشت در ایران باستان چه بود؟

الف) کشاورزی (ب) دامداری (ج) آهنگری (د) تجاری

۱۵۵ به سؤالات زیر پاسخ کوتاه دهید.

الف) مهم‌ترین حق هر انسان چیست؟

ب) خط ایرانیان در زمان هخامنشیان چه بود؟

پ) معبد چغازنبیل اثر به جای مانده از کدام تمدن است؟

ت) نظافت کوچه‌ها و خیابان‌ها و ایجاد فضای سبز از وظایف کدام سازمان است؟

۱۵۶) با توجه به آلودگی هوای تهران دولت طرح زوج و فرد خودروها را در این شهر به اجرا گذاشته، ولی بسیاری از رانندگان بدون توجه به این قانون وسایل نقلیه خود را در روزهای غیرمجاز به خیابان می‌آورند، به نظر شما:

الف. این افراد کدام حقوق را نادیده گرفتند؟

ب. این عمل آن‌ها چه پیامدهایی دارد؟ (دو مورد)

۱۵۷) کدام پادشاه دستور داد تا نقش برجسته‌ای بر روی کوه بیستون حجاری کنند؟

الف. کوروش      ب. داریوش      پ. مهرداد دوم      ت. شاپور اول

۱۵۸) تعالیم زرتشت را بنویسید.

۱۵۹) من کیستم؟

«من برای استراحت یا گردش و دیدن مکان‌های تاریخی، محل اقامت و کار خود را به‌طور موقت ترک می‌کنم»

۱۶۰) مصرف‌گرایی چه آسیب‌های اخلاقی برای مردم ایجاد می‌کند؟ (سه مورد)

۱۶۱) شکل زیر را کامل کنید.

تولید ← ..... ← مصرف

۱۶۲) مریم حق دارد پس از برگشتن از مدرسه یک ساعت استراحت کند، اما برادر کوچک‌تر او شروع به توپ‌بازی می‌کند و مانع استراحت او می‌شود. مریم تا چه اندازه می‌تواند حق خود را اعمال کند؟

۱۶۳) ایرانیان در مقایسه با هم‌عصران خود چگونه پوششی داشتند؟

۱۶۴) پیروان زرتشت تعالیم او را در کتابی به نام ..... گردآوری کردند.

۱۶۵) درآمدهای حکومتی در ایران باستان چگونه صرف می‌شد؟

۱۶۶) خانواده در ایران باستان، کدام نیازها را تأمین می‌کرد؟

۱۶۷) آخرین حکومت پیش از ورود اسلام به ایران سلسله ..... است.

۱۶۸) چرا ایران دارای میراث فرهنگی بسیار زیاد و باارزشی است؟

۱۶۹) در همه کشورهای برای حفظ و نگهداری آثار تاریخی باارزش و میراث فرهنگی مکان‌هایی به نام ..... وجود دارد.

۱۷۰) چرا در ایران آثار و بناهای تاریخی متعددی وجود دارد؟

۱۷۱) مهم‌ترین قطب زیارتی ایران کجاست؟

الف. قم      ب. مشهد      پ. شیراز      ت. آستانه اشرفیه

۱۷۲) یکی از وسایل مهمی که باید برای گردشگری یا انجام هر نوع سفر به همراه داشته باشیم، چیست؟

الف. دوربین عکاسی      ب. وسایل تحقیق و پژوهش      پ. نقشه      ت. امکانات فیلمبرداری

۱۷۳) تراکم جمعیت یعنی چه؟ و چگونه تراکم جمعیت یک منطقه را محاسبه می‌کنند؟

۱۷۴) یکی از راه‌های شکرگزاری از نعمت‌های الهی این است که رابطه درست و صحیح با ..... داشته باشیم.

۱۷۵) چگونه می‌توان وضعیت آب و هوای یک محل را ارزیابی کرد؟

۱۷۶) شهرداری چگونه مؤسسه‌ای است؟

۱۷۷) ایران در کجای جهان قرار دارد؟

الف. جنوب غربی آسیا      ب. جنوب آسیا      پ. غرب آسیا      ت. شمال غربی آسیا

۱۷۸) پس از پیروزی انقلاب اسلامی ..... برای نوشتن قانون اساسی جمهوری اسلامی تشکیل شد.

الف. مجلس شورای اسلامی      ب. شورای نگهبان

پ. مجلس خبرگان      ت. مجمع تشخیص مصلحت نظام

۱۷۹) آیا همه انسان‌ها صرف نظر از قوم، نژاد، زبان، افتخارات، ثروت و فقر و... دارای حقوق طبیعی هستند؟ چرا؟

- ۱۸۰ در مدرسه جندی شاپور علاوه بر پزشکی، چه علوم دیگری تدریس می‌شد؟
- ۱۸۱ ورزش‌های مورد علاقه ایرانیان باستان چه بود؟
- ۱۸۲ مهم‌ترین پیشه و وسیلهٔ معیشت در ایران باستان چه بود؟
- ۱۸۳ در ایران باستان، زنان در چه کارهایی مشارکت می‌کردند؟
- ۱۸۴ اشکانیان در چه امور جنگی مهارت داشتند؟
- ۱۸۵ در ایران باستان، درآمدهای کشور با نظر چه کسی خرج می‌شد؟
- ۱۸۶ به چه دلیل انسان‌های غارنشین بر روی دیواره غارها نقاشی می‌کردند؟
- ۱۸۷ وظیفه و مسئولیت‌های سازمان میراث فرهنگی چیست؟
- ۱۸۸ باستان‌شناسان در کار خود از چه ابزاری استفاده می‌کنند؟
- ۱۸۹ پارک‌های ملی به چه منظوری ایجاد شده‌اند؟
- ۱۹۰ کدام مساجد در ایران از نظر معماری مورد توجه گردشگران هستند؟ سه مورد را نام ببرید.
- ۱۹۱ با ذکر دو مثال توضیح دهید چگونه می‌توانیم آب را درست مصرف کنیم؟
- ۱۹۲ برای جلوگیری از کاهش یا به خطر افتادن منابع، چه باید کرد؟
- ۱۹۳ علت تراکم جمعیت در کوهپایه‌های البرز و زاگرس چیست؟
- ۱۹۴ علت تراکم جمعیت در نواحی مانند خوزستان چیست؟
- ۱۹۵ شما برای حفاظت از محیط‌زیست چه کارهایی انجام می‌دهید؟ سه مورد را بنویسید.
- ۱۹۶ محیط‌بان چگونه از آلودگی و تخریب محیط‌زیست جلوگیری می‌کند؟
- ۱۹۷ وظایف و مسئولیت‌های «محیط‌بان» را شرح دهید.
- ۱۹۸ چهار مورد از عوامل تخریب‌کنندهٔ محیط‌زیست و گونه‌های جانوری را بنویسید.
- ۱۹۹ ویژگی‌های آب و هوایی ناحیهٔ گرم و شرجی سواحل جنوب را بنویسید.
- ۲۰۰ نواحی مرکزی کشور ایران دارای چه نوع آب و هوایی است؟
- ۲۰۱ ویژگی‌های آب‌وهوایی ناحیهٔ معتدل و مرطوب خزری را بنویسید.
- ۲۰۲ مهم‌ترین عناصر آب و هوا کدامند؟
- ۲۰۳ ایران در کدام قسمت قارهٔ آسیا واقع شده‌است؟
- ۲۰۴ کدام نواحی دارای زمین‌های حاصلخیز و مناسب برای کشاورزی است؟
- ۲۰۵ در شمال شرقی ایران کدام رشته کوه واقع شده است؟
- ۲۰۶ روستاها چگونه اداره می‌شوند؟
- ۲۰۷ نحوهٔ زندگی مردم ایران به چند صورت است؟
- ۲۰۸ چه وسایلی به شناخت محیط زندگی کمک می‌کنند؟ نام ببرید.
- ۲۰۹ دو مورد از راه‌های دفع زباله را بنویسید.
- ۲۱۰ به‌طور کلی مشاغل و فعالیت‌های اقتصادی را به چند گروه عمده می‌توان طبقه‌بندی کرد؟
- ۲۱۱ انسان‌ها با چه هدفی کالا تولید می‌کنند؟
- ۲۱۲ دو نمونه از انواع بیمه اجباری را بنویسید.
- ۲۱۳ همدلی و همدردی چه تفاوتی با هم دارند؟
- ۲۱۴ عدم رعایت قوانین و مقررات در جامعه چه پیامدهایی دارد؟
- ۲۱۵ شما در مقابل اعضای جامعه چه مسئولیت‌هایی دارید؟ چهار مورد را بنویسید.
- ۲۱۶ سه مورد از حقوق خود در مدرسه را بنویسید.

۲۱۷ چرا انسان‌ها حق دارند آزاد باشند و آزادانه زندگی کنند؟

۲۱۸ گزینه‌ها را به یکدیگر وصل کنید.

اشکانیان آخرین حکومت قبل از اسلام

هخامنشیان اولین حکومت ایرانی

مادها نخستین امپراتوری جهان

ساسانیان مبارزه با سلوکیان

۲۱۹ انواع موزه‌های آستان قدس رضوی را نام ببرید.

۲۲۰ جاهای خالی را با کلمه مناسب کامل کنید.

اساس گسترش دانش و هنر و معماری در تمدن ایران باستان ..... و ..... بوده است.

۲۲۱ به سوالات زیر پاسخ کوتاه دهید.

الف دو دشت وسیع ایران را نام ببرید.

ب قوه مقننه از چند بخش تشکیل شده است؟ نام ببرید.

۲۲۲ جاهای خالی را با کلمات مناسب پر کنید.

الف به لایه نازکی از پوست زمین که از خرد شدن سنگ‌ها پدید می‌آید، ..... می‌گویند.

ب در کشور، ..... ما مسئولیت سرشماری جمعیت را به عهده دارد.

پ مهمترین رویداد تاریخی کشور ما ورود ..... است.

ت منبع درآمد اصلی حکومت‌ها ..... بود که به صورت ..... و ..... دریافت می‌شد.

۲۲۳ جواب صحیح را مشخص کنید.

الف کدام یک از مؤسسات زیر برای جبران زیان‌های مالی و جانی به وجود آمده است؟

۱) هلال احمر

۲) نیروی انتظامی

۳) بیمه

۴) اورژانس

ب برخورداری از خدمات مناسب پزشکی و بهداشتی از حقوق ما در کدام مورد است؟

در مدرسه  در خانه و خانواده  در جامعه  در محیط زندگی و کشور

۲۲۴ جمله‌های درست و نادرست را مشخص کنید.

الف مخارج سنگین دربار از مالیاتی تأمین می‌شد که از مردم می‌گرفتند.

ب به دلیل وسعت قلمرو دولت‌های ایران باستان شغل‌ها و مقام‌های مختلفی به وجود آمده بود.

۲۲۵ جمله‌های درست و نادرست را مشخص کنید.

الف ایران در جنوب غربی آسیا قرار دارد.

ب در کشور ما مصرف سرانه آب کمتر از حد مجاز است.

پ تخت جمشید، پایتخت بهاری هخامنشیان بود.

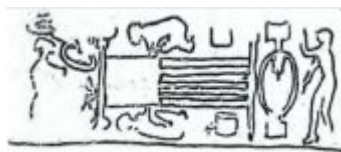
# پاسخنامه تشریحی

- ۱ آزاد
- ۲ برای تولید هر محصولی، نیروی انسانی باید دانش و مهارت لازم را داشته باشد.
- ۳ راهها
- ۴ ۱- «برخورداری از وسایل تفریحی» نادرست است و «حق حیات یا زندگی» درست است.  
۲- تولید کالا، نادرست و «مصرف کالا» درست است.
- ۵ وضع قوانین و مقررات و جریمه متخلفین، الزام تولیدکنندگان به نصب برچسب حاوی اطلاعات کالاها بر روی آنها، بررسی کیفیت کالاها در سازمان ملی استاندارد ایران از جمله کارهایی است که برای رعایت حقوق مصرف کنندگان انجام می شود.
- ۶ به طور کلی، قوانین و مقررات به دو دلیل به وجود آمده است: ۱- حفظ حقوق افراد ۲- برقراری نظم و امنیت در جامعه
- ۷ ۱) از منطقه تحت نظارت خود بازدید می کنند. ۲) کلیه رویدادهایی که موجب تخریب محیط زیست می شوند را شناسایی می کنند.
- ۸ ۱) سپاگزاری از نعمت های خداوند ۲) لذت بردن از زیبایی ها و تفکر در آفرینش ۳) حق حیات ۴) وابستگی موجودات زنده به یکدیگر
- ۹ سودجویی
- ۱۰ طبق قانون افراد باید این بیمه ها را انجام دهند.
- ۱۱ مادها، پارت ها، پارس ها
- ۱۲
- الف نادرست. تعداد کمی از مردم ایران زندگی عشایری دارند.
- ب نادرست. هر استان به چند شهرستان تقسیم می شود.
- پ درست.
- ت درست.
- ث نادرست. از وظایف شورای اسلامی روستاها است.
- ۱۳
- الف گزینه «ب»: در نواحی داخلی ایران به دلیل کمبود بارندگی، آب و هوای گرم و خشک و خاک های نامساعد و شور، جمعیت بسیار کمی زندگی می کنند.
- ب اعتقادات، زبان و آداب و رسوم وجوه غیر مادی میراث فرهنگی است که از گذشته به ما رسیده است.
- ۱۴ تولیدکنندگان باید محصولات خود را به دست مشتری برسانند. به همین دلیل سعی می کنند بازارهای مصرف را پیدا کنند. همچنین برخی تولیدکنندگان به روش های مختلف کالاهای خود را تبلیغ می کنند.
- ۱۵ گزینه (ج) - در دوره اسلامی زبان فارسی دری رواج یافت.
- ۱۶ پیش از اسلام و پس از اسلام
- ۱۷ مسجد امام و مسجد شیخ لطف الله در اصفهان، مسجد جامع یزد و مسجد گوهرشاد در مشهد از نظر معماری و زیبایی اسلامی نیز مورد توجه گردشگران قرار دارند.
- ۱۸ پارک های ملی، مناطق حفاظت شده ای است که در آنها بوته کنی، چرای دام ها، شکار و نظایر آن ها ممنوع است و محیط های امنی برای جانوران پدید آورده است.
- ۱۹ به نسبت تعدادی که در یک جا زندگی می کنند به مساحت آن جا، تراکم جمعیت آن مکان می گویند.
- ۲۰ تشکیل سپاه جاویدان، اختراع ارابه داس دار و ساخت گردونه ها یا برج های بلند و چوبی و چرخدار از جمله ابتکارات نظامی ایرانیان باستان بود، همچنین ایرانیان باستان نیروی دریایی داشتند.
- ۲۱ پارک ملی گلستان در استان های گلستان و خراسان شمالی از بزرگ ترین پارک های ملی ایران است.
- ۲۲ از مهم ترین اشیاء موجود در حوزه آستان قدس رضوی می توان به قرآن های نفیس که با خط مبارک ائمه اطهار (ع) بر روی پوست آهو نوشته شده اولین سنگ مرقد مطهر امام رضا (ع)، سکه ها و کتیبه های نفیس اشاره کرد.
- ۲۳ در دوره ساسانیان دین زرتشتی، دین رسمی کشور اعلام شد.
- ۲۴ آریایی ها به تدریج از مناطق شمال دریای خزر به سمت جنوب مهاجرت کردند.
- ۲۵ یکی از کهن ترین تمدن های شرق در نزدیکی جیرفت کرمان و در کنار هلیل رود قرار داشت.
- ۲۶ ترک کردن موقت محل اقامت یا کار و رفتن به سفر برای استراحت یا گردش و دیدن یا مطالعه مکان های تاریخی و طبیعی را گردشگری می گویند. موارد اهمیت گردشگری: آشنایی با پدیده های طبیعی و مکان های تاریخی و فرهنگی - آموختن مطالب مختلف درباره مکان ها و آداب و رسوم مناطق مختلف - ایجاد شغل های مختلف در مناطق مورد سفر گردشگران و بیشتر شدن درآمد مردم آنجا. (ذکر دو مورد کافی است).
- ۲۷ یکی از بنادر مهم و مراکز گردشگری در سواحل دریای عمان، بندر چابهار است.

۲۸) محیط بانان مسئول اجرای قوانین و مقررات در یک منطقه هستند.

۲۹)

ریسندگی و بافندگی



ساخت ابزار آلات مورد نیاز



نانوایی



۳۰)

مرحله شکار



اندیشه نگاری



۳۱) راه آهن

خیابان نواب - خیابان امام رضا (ع) - خیابان شیرازی  
جنوب غربی - خیابان طبرسی

۳۲) الف)

- زباله ها وارد روستا شده و باعث آلودگی آنجا می شود.  
- آب رودخانه آلوده شده و باعث مریضی روستائیان می شود.  
- زندگی روستائیان مختل می شود.  
- جمع شدن زباله ها جهت مسیر رودخانه را عوض می کند و باعث بروز مشکلات برای روستائیان می شود.

(ب)

- منظره بدی ایجاد کرده و باعث جمع شدن مگس و حشرات موزی می شود.  
- محیط زیست را آلوده می کنند و باعث به خطر افتادن جان حیوانات منطقه می شوند.

(ج)

۱- احتمال آتش سوزی در منطقه وجود دارد.

۲- ممکن است حیواناتی که به آتش نزدیک شوند باعث سوختگی آنها شود.

۳- محیط زیست آلوده می شود.

(د)

- ممکن است پرندگان مورد آسیب قرار بگیرند و جوجه های آنها از بی غذایی بمیرند.

- ترس از صدای تفنگ بادی باعث می شود حیوانات از خانه و لانه شان دور شوند و خطرات آنها را تهدید کند.

۳۳)

۱- تفتان ۲- هزارمسجد ۳- دماوند ۴- سبلان ۵- زردکوه ۶- لاله زار ۷- شیرکوه

۳۴)

۸- شهرستان - اسلامشهر - پاکدشت - تهران - دماوند - بومهن - رودهن - فیروزکوه - شهریار - ری

- تهران

ب - تهران ← ک ← بومهن

شمیرانات ← شمال شهر تهران

۳۵) زیرا خانه‌های مردم معمولی بدلیل نداشتن استحکام و استفاده از مصالح غیر مقاوم از قبیل خشت در طول زمان نابود شده‌اند.

۳۶) فوتبال - هندبال - بسکتبال - راگبی - زیرا این ورزشی‌ها متعلق به ملت‌های دیگر است.

۳۷) الف) زیرا ایران تمایل داشت که ابریشم چینی توسط بازرگانان ایرانی به روم صادر شود و ابریشم خام در کارگاه‌های ایرانی به پارچه تبدیل شود و به اروپاییان بفروشند و سود به‌دست آورند.

ب) جاده ابریشم پلی بین چین و اروپا - آسیا و آفریقا برای تبادلات مادی و تمدنی شرقی و غربی سهمی زیاد داشت.

۳۸) کشاورزی - دامپروری - نجاری - آهنگری - کفاشی زیرا وسایل ابتدایی و بهره‌وری کم‌تر بود.

۳۹) خلبان - متخصص رایانه - تعمیرکار موبایل - برقکار - مکانیک - نتیجه پیشرفت علم و تقسیم کار در جامعه است.

۴۰) الف) حضرت نوح (ع) - یوسف (ع) - حضرت هود (ع) - حضرت ابراهیم (ع) - حضرت یونس (ع)

ب) در مورد داستان حضرت موسی بن عمران شروع شده و از جزئیات آن یعنی آمدنش به نزد فرعون و ادعایش برای اینکه خداوند مرا به سوی تو فرستاده تا نجات بنی اسرائیل و نشان دادن معجزات ...

۴۱) بناها - مجسمه‌ها - کتابخانه‌ها - موزه‌ها - بسیار ارزشمند هستند هم برای ما هم برای گردشگران خارجی زیرا قدمت تاریخ و گذشته کشور ما را نشان می‌دهد.

۴۲) رتبه دوم

۴۳) نحل - نمل - عنکبوت - تین - فیل

۴۴) از ریختن زباله در کوچه و خیابان خودداری کنیم - زباله را رأس ساعت در بیرون منزل قرار دهیم.

۴۵) مصرف‌گرایی باعث می‌شود از کالاهایی که در دسترس داریم به نحو احسن استفاده نکنیم و در نگهداری آن کوشا نباشیم. در نهایت به سمت اسراف سوق داده شویم. باعث راحت‌طلبی، تجمل‌پرستی و حتی تمایز کردن خویش از افراد دیگر با در اختیار گرفتن کالاها و خدمات بیشتر دارد.

۴۶) در زمان جوانی باید پس‌انداز برای دوران پیری داشته باشیم که یکی از این اندوخته‌ها همان پرداخت بیمه در ایام جوانی و گرفتن مستمری و عواید آن در دوران پیری است.

۴۷) ۲) کتابخانه: رعایت سکوت هنگام مطالعه - احترام به حقوق دیگران - ایجاد آرامش

۳) پارک: نریختن زباله در پارک - حفظ پاکیزگی محیط زیست

۴۸) • فردی زباله‌های خانه خود را در گوشه پارکی مقابل محوطه بازی کودکان بریزد.

۱) نادیده گرفتن حقوق کودکان ۲) مریضی کودکان

• فردی بخواهد خارج از صف افرادی که در نانوایی ایستاده‌اند، نان بگیرد.

۱) حق افراد ضایع می‌شود ۲) بی‌نظمی و هرج و مرج

• فروشندهای که رایانه‌ای را فروخته و وقتی مشتری از او برگه خرید (فاکتور) می‌خواهد به او نمی‌دهد.

۱) از ما قبول نمی‌کند ۲) نگفتن قیمت واقعی خود

• راننده‌ای که بدون توجه به علامت عبور ممنوع، داخل خیابان یک‌طرفه می‌شود و شد آمد (ترافیک) به وجود می‌آورد.

رعایت نکردن قانون - باعث تصادف شدن

• موتورسواری که به علت شلوغی خیابان وارد پیاده‌رو می‌شود و از بین مردم عبور می‌کند.

باعث تصادف شدن

• شرکت ساختمانی که قرار است سالن ورزشی برای مردم بسازد، اما مقررات ساختمان‌سازی و مصالح مناسب را به کار نبرد.

جان بقیه را به خطر می‌اندازد - مصالح از بین می‌رود.

• عابر پیاده که بدون توجه به چراغ راهنما از لابه‌لای اتومبیل‌ها حرکت می‌کند.

ایجاد تصادف - حق مردم را ضایع می‌کند.

۴۹) بله - می‌توانند اظهار نظر کنند و با احترام و با نظر همدیگر کار درست انتخاب شود.

۵۰) در دوره‌ی ساسانیان به‌دستور شاپور ساسانی در شهر جندی‌شاپور ( خوزستان کنونی)

۵۱) تقویم خورشیدی (شمسی) که سال را به ۱۲ ماه ۳۰ روزه تقسیم کردند و پنج روز پایانی سال را جداگانه به حساب آوردند.

۵۲) زمان

۵۳) ایلام

۵۴) پنبه، ابریشم، پشم، حریر

۵۵) جمشید

۵۶) دریک

۵۷) شورش مردم

۵۸) سرانه

۵۹) سیمین

۶۰) مازاد



- ۶۱) داریوش اول
- ۶۲) زباله‌ها را می‌سوزانند یا در مناطقی از زمین دفن می‌کنند.
- ۶۳) کشاورزان
- ۶۴) برای خودنمایی - تفریح - چشم‌وهم‌چشمی با دیگران
- ۶۵) شمارهٔ جواز تولید، آدرس محل کارخانه، قیمت تولید مواد مصرفی، نکات ایمنی.
- ۶۶) پول کاغذی - کارت خرید اعتباری
- ۶۷) ایرانی‌ها وقتی در کوچه به هم می‌رسیدند، روبوسی می‌کردند و اگر با یکدیگر تفاوت طبقاتی داشتند، افراد عامی می‌بایست در برابر اشراف و بزرگان زانو می‌زدند.
- ۶۸) تقسیم کار اجتماعی پدید آمد و افراد در گروه‌های مختلف شغلی دسته‌بندی شدند.
- ۶۹) عامهٔ مردم
- ۷۰) پسر
- ۷۱) خانواده‌ها
- ۷۲) گناهکار
- ۷۳) دامنه‌های شمالی: رو به دریا قرار دارد، برف و باران فراوان می‌بارد، پوشیده از جنگل‌های انبوه است.  
دامنه‌های جنوبی: رطوبت کم، فقط در فصل زمستان برف و باران می‌بارد، پوشش گیاهی کم است.
- ۷۴) خط، حکومت، قوانین و مقررات، تقسیم کار، داد و ستد و تجارت، مهارت در کارهای مختلف، معماری و هنر، عقاید مذهبی.
- ۷۵) شکارچیان برای تفریح یا استفاده از پوست، شاخ و استخوان با محاصرهٔ حیواناتی مثل گورخر، آهو و پرندگان در یک دشت به آن‌ها حمله می‌کنند؛ به تدریج نسل این گونه‌ها رو به کاهش می‌گذارد یا در خطر انقراض قرار می‌گیرد.
- ۷۶) داد و ستد و تجارت ابزار و وسایل رونق گرفت، انسان‌ها برای رسیدگی به کارها و نوشتن و محاسبه‌ی داد و ستدهای‌شان خط را اختراع کردند.
- ۷۷) در این موزه آثار تاریخی به‌جای مانده از دورهٔ قبل از اسلام وجود دارند.
- ۷۸) شرایط جغرافیایی
- ۷۹) کشاورزی
- ۸۰) آویشن / زعفران
- ۸۱) شمال
- ۸۲) طبیعت
- ۸۳) آذربایجان
- ۸۴) زیستی
- ۸۵) آسایش
- ۸۶) آفت‌کش‌های
- ۸۷) عشایری
- ۸۸) صید
- ۸۹) خداند - خودم - اعضای خانواده - معلمان و هم‌کلاسی‌ها - اعضای جامعه - محیط زندگی و عالم آفرینش.
- ۹۰) ۱) بهداشت و درمان (۲) عمر (۳) از کارافتادگی (۴) بیکاری (۵) روستاییان
- ۹۱) بیمه‌گر: مؤسسه‌ای است که ما را بیمه می‌کند. بیمه‌شونده کسی است که خود را بیمه می‌کند.
- ۹۲) استاندارد
- ۹۳) همه
- ۹۴) ابتدایی
- ۹۵) قابل قبول
- ۹۶) ارزش کلایی
- ۹۷) آزمایش
- ۹۸) مسئولیت‌های
- ۹۹) حق بیمه
- ۱۰۰) دانش‌آموزی
- ۱۰۱) ۱- تعداد افراد سپاه جاویدان ده هزار نفر بود که به گروه‌های ده نفره تقسیم می‌شد. ۲- هرگاه یکی از افراد از بین می‌رفت یک جنگاور دیگر که ذخیره بود جای او را می‌گرفت. ۳- تعداد آنان کاسته نمی‌شد.
- ۱۰۲) پرهیز از کم‌فروشی و گران‌فروشی.
- ۱۰۳) حقوق ملت - روابط و وظایف حکومت و مردم

- ۱۰۴ هر گاه مقررات به وسیله یک نهاد دارای صلاحیت مثل مجلس تصویب شود، نام قانون به خود می‌گیرد.
- ۱۰۵ با کفش وارد نمازخانه یا مسجد نشویم.
- ۱۰۶ (۱ دریای خزر (۲ خلیج فارس و دریای عمان (۳ داخلی
- ۱۰۷ همه‌پرسی
- ۱۰۸ مادی: ظرف‌ها، سکه‌ها، کتبی‌ها، فرش‌ها، مساجد، امام‌زاده‌ها  
غیر مادی: اعتقادات، زبان، آداب و رسوم
- ۱۰۹ با حمله اعراب مسلمان و شکست متعدد سپاهیان سامانی، با قتل یزدگرد سوم آخرین پادشاه سامانی این سلسله در سال ۶۵۱ میلادی به پایان رسید.
- ۱۱۰ جان‌نشینان اشک، به مبارزه با سلوکیان ادامه دادند و موفق شدند و به تدریج سایر مناطق ایران را از سلطه‌ی سلوکیان نجات دادند.
- ۱۱۱ سازمان میراث فرهنگی
- ۱۱۲ مادی
- ۱۱۳ به صورت پراکنده در غرب و شمال‌غرب ایران زندگی می‌کنند، همین امر موجب شده بود که آن‌ها ضعیف باشند.
- ۱۱۴ روم
- ۱۱۵ ایرانیان
- ۱۱۶ بوته کنی، چرای دام‌ها، شکار.
- ۱۱۷ شیوه‌های زندگی
- ۱۱۸ محدود
- ۱۱۹ جامعه
- ۱۲۰ از طریق وارد شدن به پایگاه‌های اینترنتی می‌توان اطلاعات را به صورت متن، تصویر، نقشه و حتی فیلم به دست آورد.
- ۱۲۱ مثبت (آری)
- ۱۲۲ در زیر هر نقشه، خطی مشاهده می‌شود که به آن مقیاس خطی می‌گویند و با استفاده از آن می‌توانند فاصله واقعی مکان‌ها را روی زمین محاسبه کرد.
- ۱۲۳ باران، برف، تگرگ
- ۱۲۴ امنیت
- ۱۲۵ (۱ حیات و زندگی (۲ ازدواج و تشکیل خانواده (۳ انتخاب راه زندگی خود (۴ آزادی و عدم بندگی
- ۱۲۶ موقعیت جغرافیایی، نوع آب‌وهوا، ناهمواری‌ها، رودها، پوشش گیاهی، زندگی جانوری
- ۱۲۷ ای پیامبر به بندگان بگو در زمین سفر کنید تا از عاقبت کسانی که قبل از شما بودند آگاه شوید.
- ۱۲۸ (۱ ویژگی‌های طبیعی (۲ ویژگی‌های انسانی
- ۱۲۹ گردشگری
- ۱۳۰ زیرا خداوند همه انسان‌ها را آزاد آفریده است.
- ۱۳۱ نقشه
- ۱۳۲ کم
- ۱۳۳ گروه یک کودکان و جوانان (۲۵ - ۱ سال)، گروه دوم بزرگسالان (۶۵ - ۲۵ سال) و سالمندان (بیش از ۶۵ سال)
- ۱۳۴ یعنی افراد بر مبنای قوانین آن کشور حقوقی دارند.
- ۱۳۵ کاهش
- ۱۳۶ برنج
- ۱۳۷ گسترش وسایل ارتباطی و حمل و نقل
- ۱۳۸ تنهایی
- ۱۳۹ عدالت
- ۱۴۰ زیر صفر
- ۱۴۱ شور
- ۱۴۲ محیط
- ۱۴۳ دشت‌های
- ۱۴۴ انسانی
- ۱۴۵ کتاب
- ۱۴۶ حقوقی
- ۱۴۷ افزایش

همیاری ۱۴۸

۱۴۹

الف غلط برخی به صورت دستورهای مذهبی است.

ب صحیح

پ صحیح

ت غلط در طی چند ماه، قانون اساسی را نوشتند.

ث غلط شش نفر فقیه از سوی رهبر جمهوری اسلامی انتخاب می شوند.

ج صحیح

۱۵۰

الف درست

ب نادرست، در تهران است.

پ درست

ت نادرست، در بیمه اختیاری افراد داوطلب می شوند که از بیمه استفاده کنند.

۱۵۱

الف صحیح

ب نادرست. بسیاری از پژوهشگران معتقدند چوگان بازی ورزشی است که ایرانیان باستان آن را ابداع کرده اند.

پ صحیح

ت صحیح

ث نادرست. سلسله های پس از هخامنشیان نوروژ را گرامی می داشتند.

۱۵۲

الف ص

ب نادرست. تقویم را برای فعالیت های کشاورزی نیاز داشتند.

پ صحیح

ت صحیح

ث نادرست. از سه نوع پزشک نام برده شده است.

ج صحیح

۱۵۳

الف درست

ب نادرست - تاریخ دوره اسلامی با سقوط ساسانیان و ورود به ایران آغاز شد.

پ نادرست - اشکانیان منسوب به یکی اقوام آریایی به نام پارت ها بودند.

ت نادرست - سپاه جاویدان از ابتکارات داریوش اول هخامنشی بود.

ث درست

۱۵۴

الف تخت جمشید از نظر معماری، وسعت و عظمت شهرت جهانی دارد.

ب در دوره ساسانیان دین زرتشتی دین رسمی کشور بود.

پ گزینه «د» - در ایران باستان خانواده ها مرکز تربیت و آموزش بودند و اصول و ارزش های اخلاقی هم چون راستگویی، امانت داری، میهن دوستی و وفای به عهد و پیمان را به اعضای خانواده خود می آموختند.

ت گزینه «الف» - کشاورزی، مهم ترین پیشه و وسیله معیشت در ایران باستان بود.

۱۵۵

الف مهم ترین حق همه انسان ها، حق حیات یا همان زندگی آنهاست.

ب ایرانیان در زمان هخامنشیان از خط میخی استفاده می کردند.

پ معبد چغازنبیل مهمترین اثر به جای مانده از تمدن ایلام است.

ت نظافت کوچه ها و خیابان ها و ایجاد فضای سبز از جمله وظایف شهرداری است.

۱۵۶ الف. حق استفاده مردم از هوای پاک

ب. موجب آلودگی بیشتر هوا و در نتیجه، تعطیلی مدارس و به خطر افتادن سلامت مردم جامعه می‌شود.

۱۵۷ گزینه «ب»

۱۵۸ در آیین زرتشت اهورامزدا، منشأ تمام خیر و خوبی‌ها است و همواره با اهریمن که سرچشمه شر و بدی‌ها به شمار می‌رفت، در حال مبارزه بود. زرتشت به پیروان خود سفارش می‌کرد که به منظور یاری اهورامزدا، پندار نیک، گفتار نیک، کردار نیک را سرمشق زندگی خود قرار دهند.

۱۵۹ گردشگر

۱۶۰ ۱. فراموش کردن یاد خدا ۲. از بین رفتن آرامش واقعی ۳. ناتوانی در انجام وظیفه

۱۶۱ تولید ← توزیع ← مصرف

۱۶۲ تا جایی که مغایر (مخالف) قانون نباشد، قوانین الهی را نادیده نگیرد و سبب آسیب و زیان به برادر کوچک‌ترش نشود.

۱۶۳ شواهد و مدارک به جا مانده نشان می‌دهد که مردان و زنان ایران باستان در مقایسه با مردم سایر تمدن‌های هم‌عصر خود، اعتقاد به پوشش کامل بدن داشتند و برهنگی و بی‌بندوباری را نشانه اهریمن می‌دانستند.

۱۶۴ اوستا

۱۶۵ بخش زیادی از درآمدهای حکومتی صرف جنگ با دشمنان می‌شد. قسمت دیگری از آن به مصارف شخصی شاه، شاهزادگان، درباریان و ساختن کاخ‌های مجلل می‌رسید. حکومت‌ها همچنین بخشی از درآمد را در امور ماندگرمند پرداخت حقوق به مأموران حکومتی و همچنین احداث، نگهداری و تعمیر آتشکده‌ها، کاروانسراها، قنات، سد‌ها و... خرج می‌کردند.

۱۶۶ ۱. اغلب نیازهای اقتصادی خود چون خوراک، پوشاک و ابزار زندگی ۲. نیاز به تربیت و آموزش، اصول و ارزش‌های اخلاقی چون راست‌گویی، امانت‌داری، میهن‌دوستی و وفای به عهد و پیمان ۳. پدران شغل خود را به پسران یاد می‌دادند و مادران به‌عنوان کدبانوی خانواده رسوم خانه‌داری را به دختران آموزش می‌دادند.

۱۶۷ ساسانیان

۱۶۸ از آنجا که ایران جایگاه تمدن‌های کهن و قدیمی‌ترین سکونتگاه‌های بشری است، دارای میراث فرهنگی بسیار زیاد و باارزش است که بخشی از آن در موزه‌ها نگهداری می‌شود.

۱۶۹ موزه

۱۷۰ ایران به دلیل دارا بودن تاریخ طولانی، آثار و بناهای متعددی دارد. کاخ‌ها، مساجد، کاروانسراها، حمام‌ها، بازارها، پل‌ها، خانه‌های تاریخی و برج‌ها از جمله این آثار هستند.

۱۷۱ گزینه «ب»، مشهد مقدس، مهم‌ترین قطب زیارتی ایران می‌باشد.

۱۷۲ گزینه «پ»، یکی از وسایل مهمی که باید برای گردشگری یا انجام هر نوع سفر از آن استفاده کرد، نقشه است.

۱۷۳ به نسبت افرادی که در یک مکان زندگی می‌کنند، تراکم جمعیت آن مکان می‌گویند. برای محاسبه تراکم جمعیت یک منطقه، جمعیت آن منطقه را بر مساحت آن تقسیم می‌کنند.

جمعیت = تراکم جمعیت

مساحت

۱۷۴ طبیعت

۱۷۵ با اندازه‌گیری میزان دما و بارش در یک مکان، در طی ماه و سال می‌توان پی برد که آب و هوای آنجا چگونه است.

۱۷۶ شهرداری مؤسسه‌ای است که برای اداره بهتر شهر به‌وجود آمده و خدماتی به ساکنان شهر ارائه می‌کند.

۱۷۷ گزینه «الف» - ایران در جنوب غربی قاره آسیا قرار دارد.

۱۷۸ گزینه «پ»

۱۷۹ بله - زیرا خداوند به همه انسان‌ها از همان ابتدای خلقت و تولد حقوق طبیعی عطا فرموده است.

۱۸۰ در این مدرسه بزرگ علاوه بر پزشکی، نجوم، ریاضیات، موسیقی، شیمی (کیمیاجری) تدریس می‌شد.

۱۸۱ سوارکاری و تیراندازی و شکار از ورزش‌های مورد علاقه مردم آن دوره بوده و پرتاب سنگ یا فلانچن و نیزه و زوبین نیز رواج داشته است.

۱۸۲ کشاورزی

۱۸۳ نخ‌ریسی، پارچه بافی، قالی بافی

۱۸۴ سوارکاری و تیراندازی

۱۸۵ با نظر شاه

۱۸۶ به یادبود شکارهایشان

۱۸۷ مسئولیت حفاظت و نگهداری از میراث فرهنگی را به عهده دارد.

۱۸۸ باستان‌شناسان در هر مرحله از ابزار خاصی استفاده می‌کنند؛ از ابزارهای ساده مانند بیل و کلنگ تا میکروسکوپ و دوربین‌های مخصوص که با آنها لایه‌های درون خاک را مشاهده می‌کنند.

۱۸۹ در پارک‌های ملی مانند مناطق حفاظت شده، بوته کتی، چرای دام‌ها، شکار و نظایر آن ممنوع است و محیط‌های امن طبیعی برای جانوران پدید آورده‌اند. بخشی از این پارک‌ها هم به گردشگاه مسافران اختصاص داده شده است.

۱۹۰

۱. مسجد امام در اصفهان

۲. مسجد شیخ لطف الله در اصفهان

۳. مسجد جامع یزد

۴. مسجد گوهرشاد در مشهد

- ۱۹۱) مثلاً در موقع حمام کردن یا مسواک زدن، شیر آب را باز نگذاریم. شیرهای آب را همیشه بازدید و تعمیر کنیم تا چکه نکنند.
- ۱۹۲) باید راه‌های استفاده صحیح از منابع را یاد بگیریم.
- ۱۹۳) دشت‌های حاصلخیز و بارندگی کافی.
- ۱۹۴) بعضی از مناطق ایران به دلیل داشتن معادن و ذخایر، جمعیت زیادی را به خود جذب کرده‌اند، مانند ناحیه خوزستان به دلیل داشتن منابع نفت و گاز.
- ۱۹۵) ۱- هرگز گل‌ها را نچینید. گل‌های وحشی را در مسیر راه‌ها و جاده‌ها لگدمال نکنید.  
۲- در صورتی که می‌توانید، در محل زندگی خودتان درخت و گل بکارید تا زیستگاه طبیعی کوچکی برای حیوانات درست کنید.  
۳- پرنده‌ها در زمستان که آب‌های مناطق سرد یخ می‌زنند، مأیوسانه به دنبال آب می‌گردند. می‌توان با گذاشتن یک ظرف آب در حیاط خانه به صدها پرنده کمک کرد. در هنگام ریزش برف، باید برای حیوانات غذا ریخت تا از مرگ آنها جلوگیری شود.  
۴- تصمیم بگیریم حیوانات خشک‌شده یا وسایل تزئینی که از اعضای بدن حیوانات درست شده (مثل عاج فیل) نخریم.
- ۱۹۶) آنها ممکن است قطع درختان، بوته کنی، شکار غیرقانونی، روشن کردن آتش، آلودگی‌های محیط زیستی یا سیل و طغیان رودخانه را در یک مکان مشاهده کنند و آن را به سازمان گزارش دهند.
- ۱۹۷) محیط‌بانان، مسئول اجرای قوانین و مقررات محیط‌زیست در یک منطقه هستند. محیط‌بانان از منطقه تحت نظارت خود، بازدید می‌کنند و کلیه رویدادها یا فعالیت‌هایی را که موجب تخریب محیط‌زیست می‌شوند، شناسایی می‌کنند.
- ۱۹۸) ۱- شکار بیش از حد و صید بی‌رویه ۲- زباله ۳- فعالیت‌های کارخانه‌ای و حمل و نقل و تولید مواد سمی  
۴- گازهای سمی که از اتومبیل‌ها یا کارخانه‌ها به هوا و آب وارد می‌شوند. ۵- سم‌هایی که در آفت‌کش‌های کشاورزی وجود دارد.
- ۱۹۹) به‌طور کلی، مناطق جنوبی ایران، تابستان‌های بسیار گرم و زمستان‌های ملایم دارد. ناحیه ساحلی جنوب ایران، جزو نواحی خشک است؛ زیرا میزان بارندگی در این ناحیه بسیار کم است. اما به دلیل وجود دریا و تبخیر آب‌های آن، نم هوا زیاد است و حالت شرعی به‌وجود می‌آید.
- ۲۰۰) گرم و خشک
- ۲۰۱) در تمام ماه‌های سال بارندگی دارد. بنابراین، مرطوب‌ترین ناحیه آب‌وهوایی ایران به‌شمار می‌آید. البته میزان بارندگی از غرب به شرق این ناحیه کاهش می‌یابد. ناحیه خزری، تابستان‌ها و زمستان‌های معتدل و جنگل‌های انبوه دارد.
- ۲۰۲) دما و بارش
- ۲۰۳) جنوب غربی
- ۲۰۴) جلگه‌ها و دشت‌ها
- ۲۰۵) کوه‌های خراسان
- ۲۰۶) در روستاها، شورای اسلامی روستا وجود دارد. ریش سفیدان و افراد با تجربه و مورد اعتماد روستا دور هم جمع می‌شوند و برای بهتر شدن وضع روستای خودشان، اقداماتی از قبیل ساختن یا تعمیر حمام، پل، مدرسه، مسجد، قنات و امور دیگر، تصمیم‌گیری می‌کنند.
- ۲۰۷) ۱- شهری، ۲- روستایی، ۳- عشایری
- ۲۰۸) نقشه، عکس، کره جغرافیایی، کتاب‌ها و فرهنگ‌نامه‌ها، رایانه و اینترنت
- ۲۰۹) زباله‌ها را می‌سوزانند یا در مناطقی از زمین دفن می‌کنند.
- ۲۱۰) کشاورزی، صنعت و خدمات.
- ۲۱۱) با هدف رفع نیازها و خواسته‌هایشان
- ۲۱۲) ۱. طبق قانون، همه دارندگان وسایل نقلیه موتوری، باید سالیانه خودروی خود را برای حوادث جانی و مالی ناشی از تصادف بیمه کنند.  
۲. همچنین بر طبق قانون، کلیه سازمان‌ها، صاحبان نگاه‌ها، شرکت‌ها و کارفرمایان، وظیفه دارند همه کارمندان و کارگران خود را در مقابل حوادث ناشی از کار، بیمه کنند.
- ۲۱۳) همدلی یعنی اینکه خود را به جای فردی که دچار حادثه شده بگذاریم و احساس و شرایط او را درک کنیم. همدردی یعنی پس از درک احساس فرد حادثه دیده به کمک او بشتابیم.
- ۲۱۴) علاوه بر به هم زدن نظم و امنیت اجتماعی، موجب پایداری شدن حقوق افراد می‌شود.
- ۲۱۵) ۱. در محل زندگی ام طوری رفتار می‌کنم که همسایگان آزرده نشوند.  
۲. برای حفظ امنیت با اهالی محل و مسئولان همکاری می‌کنم.  
۳. من در برابر خون شهیدانی که برای انقلاب اسلامی و دفاع از میهن جان دادند مسئول هستم.  
۴. من وظیفه دارم به همراه هم‌وطنانم برای پیشرفت و آبادانی کشورم تلاش کنم.  
۵. وظیفه دارم از وحدت و استقلال میهن دفاع کنم.
- ۲۱۶) ۱. هر دانش آموزی حق دارد در مدرسه به او به اندازه سایر دانش آموزان توجه کنند و مسئولان یا معلمان مدرسه در این‌باره تبعیضی بین او و دیگران قائل نشوند.  
۲. هر دانش آموزی حق دارد نظرش را درباره مشکلات درسی یا روش‌های آموزشی در مدرسه را مؤدبانه و محترمانه بیان کند.  
۳. هیچ‌کس نباید در مدرسه مورد تمسخر یا تنبیه بدنی قرار بگیرد.
- ۲۱۷) زیرا خداوند آنها را آزاد آفریده است.
- ۲۱۸) اشکانیان ← مبارزه با سلوکیان  
هخامنشیان ← نخستین امپراتوری جهان  
مادها ← اولین حکومت ایرانی  
ساسانیان ← آخرین حکومت قبل از اسلام

۲۱۹) مجموعه آستان قدس رضوی دارای چند موزه باشکوه است که از آن جمله می‌توان به موزه قرآن، موزه سکه، موزه صدف و موزه سلاح اشاره کرد.

۲۲۰) اساس گسترش دانش و هنر و معماری در تمدن ایران باستان زبان و خط بوده است.

۲۲۱)

الف)

دشت کویر و دشت لوت

ب)

مجلس شورای اسلامی و شورای نگهبان

۲۲۲)

الف)

به لایه نازکی از پوست زمین که از خرد شدن سنگ‌ها پدید می‌آید، خاک می‌گویند.

ب)

در کشور، مرکز آمار ایران ما مسئولیت سرشماری جمعیت را به‌عهده دارد.

پ)

مهمترین رویداد تاریخی کشور ما ورود اسلام به ایران است.

ت)

منبع درآمد اصلی حکومت‌ها مالیات بود که به‌صورت نقدی و جنسی دریافت می‌شد.

۲۲۳)

الف)

بیمه - مؤسسه بیمه‌گر، مؤسسه‌ای است که تعهد می‌کند تا بنابر قرارداد با بیمه‌شونده، خسارت‌های ناشی از حوادث معینی را جبران نماید.

ب)

در محیط زندگی و کشور - هر فرد حق دارد در کشور خود از خدمات مناسب بهداشتی و پزشکی استفاده نماید.

۲۲۴)

الف)

درست

ب)

درست

۲۲۵)

الف)

درست

ب)

نادرست، بیشتر از حد مجاز است.

پ)

نادرست - همدان پایتخت بهاری بود.