



نام و نام خانوادگی:

زمان برگزاری:

نام آزمون: مطالعات اجتماعی پایه ششم دبستان

تاریخ آزمون:

۱ جای خالی را با کلمه‌ی مناسب پر کنید.

اینکه زهرا تصمیم گرفته هر روز ۶۰ دقیقه تمرین ریاضی حل کند بر او تأثیر مثبت دارد.

۲ با کمک معلّم و با استفاده از یک نقشه‌ی استان‌های کشور، استان‌های هم‌مرز عراق را پیدا کنید و بنویسید.



۳ با توّجه به نقشه‌ی روبه‌رو چند شهر را که مورد هجوم زمینی ارتش عراق قرار گرفتند، نام ببرید.



۴ به نظر شما چرا امیرکبیر چند کارخانه تأسیس کرد؟

۵ نیروگاه از نیروی باد برای تولید انرژی الکتریکی استفاده می‌شود.

۶ در کشور ایران به دلیل برخورداری از می‌توان انواع محصولات را کشت داد.

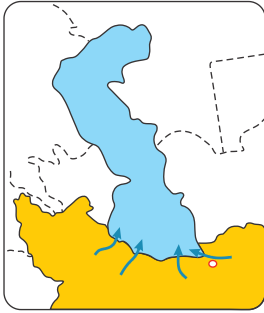
۷ چرا کشتی‌ها و کامیون‌های حمل ماهی باید یخچال و سردخانه داشته باشند؟

۸ همه‌ساله عدّه زیادی از مردم کشور ایران برای تفریح و گذراندن تعطیلات به سواحل شمالی ایران سفر می‌کنند.

۹ در کارخانه‌ی تولید کنسرو هوای قوطی‌ها خارج می‌شود تا

۱۰ خاویار دریای خزر به مشهور است.





- ۱۱ یکی از آبریان مهم دریاهای جنوب است.
- ۱۲ در نقشه‌های خارجی به دریای خزر چه می‌گویند؟
- ۱۳ رودهای چالوس، هراز و سفیدرود را در نقشه‌ی روبه‌رو مشخص کنید.

۱۴ خلیج چیست؟

- ۱۵ عمق دریای خزر در نواحی شمالی و جنوبی آن چه میزان است؟
- ۱۶ در نواحی جنوبی عمق دریای خزر به متر می‌رسد.
- ۱۷ عبارات مرتبط را به یکدیگر متصل کنید.

| | | | |
|--------------------------------|--------------------------|------------------------------------|--------------------------|
| شناسایی موقعیت ستارگان | <input type="checkbox"/> | مهم‌ترین علت پیشرفت علمی مسلمانان | <input type="checkbox"/> |
| شناسایی مسیر در دریا | <input type="checkbox"/> | اسطراب | <input type="checkbox"/> |
| بیمارستان عضالدوله دیلمی | <input type="checkbox"/> | جهت ستاره قطبی | <input type="checkbox"/> |
| تعالیم دین اسلام | <input type="checkbox"/> | معروف‌ترین بیمارستان دوره‌ی اسلامی | <input type="checkbox"/> |
| محل تحقیق در ارتباط با ستارگان | <input type="checkbox"/> | نخستین بیمارستان | <input type="checkbox"/> |
| دانشگاه جندی‌شاپور | <input type="checkbox"/> | رصدخانه | <input type="checkbox"/> |

۱۸ برش کار چیست؟

۱۹ در گذشته مردم برای تهیه لباس چه می‌کردند؟

۲۰ کسی که از روی الگوهایی که دارد پارچه‌ها را می‌برد نام دارد.

۲۱ صاحبان کارگاه‌های تولید لباس پارچه را از خریداری می‌کنند.

۲۲ پس از تولید نخ در کارخانه‌های نخ‌ریسی نخ‌ها به کارخانه‌ی فرستاده می‌شود.

۲۳ پارچه از درست می‌شود.

۲۴ با گذشت زمان و افزایش جمعیت چون دیگر یک یا چند خیاط نمی‌توانستند نیازهای تعداد زیادی از مردم را برآورده کنند کم‌کم کارگاه‌های به وجود آمد.

۲۵ در گذشته‌های نه‌چندان دور بیشتر مردم برای تهیه‌ی لباس به مراجعه می‌کردند.

۲۶ پس از پیشرفت علوم و فنون در اروپا چه دستگاه‌هایی را اروپاییان اختراع کردند؟ (۲ مورد)

۲۷ تا قبل از استعمارگران به شیوه‌های مختلف در کشور ما نفوذ کرده بودند.

۲۸ پرتغالی‌ها و در کشف سرزمین‌های جدید پیشگام بودند.

۲۹ بشر امروز می‌داند که زمین است.

۳۰ همسایگان ایران چه دینی دارند؟

۳۱ خط مرزی تنها روی نیست.

۳۲ سه شهر که مورد هجوم زمینی ارتش عراق قرار گرفتند را نام ببرید.

۳۳ با تشکیل انقلاب اسلامی یاور مظلومان شد.

۳۴ امام (ره) شخصیتی بود.

- ۳۵ در روز ۱۳۵۹ صدام به ایران حمله کرد.
- ۳۶ رزمندگان ایرانی پس از شکست ارتش صدام بر خاک خرمشهر قدم گذاشتند و خود را به مسجد رساندند.
- ۳۷ امام خمینی (ره) فرمودند خرمشهر را آزاد کرد.
- ۳۸ سرانجام رزمندگان اسلام با همکاری خلبانان شجاع نیروی هوایی توانستند ارتش صدام را درهم بشکنند.
- ۳۹ در زمان‌های گذشته کدام گروه‌های اجتماعی لباس مخصوص داشتند؟
- ۴۰ لباس گروه‌های اجتماعی و شغلی با توجه به چه چیزهایی متفاوت است؟
- ۴۱ کدام مؤسسات یا سازمان‌ها در امور اوقات فراغت فعالیت می‌کنند؟ (۲ مورد)
- ۴۲ مکان‌های عمومی گذران اوقات فراغت به متعلق است.
- ۴۳ چرا باید بخشی از برنامه متعادل مربوط به ارتباط با خدا باشد؟
- ۴۴ یک شبانه‌روز چند ساعت است؟
- ۴۵ بسیاری از جهانگردان دیده‌ها و شنیده‌ها و خاطرات خود را از سفرهایشان می‌نوشتند و گاهی با نقاشی نیز تصویر می‌کردند به این نوشته‌ها می‌گویند.
- ۴۶ عصر عصر شکوفایی دانش و معماری هنر در ایران است.
- ۴۷ شاه عباس اول را به پایتختی انتخاب کرد.
- ۴۸ اوضاع سیاسی اجتماعی ایران در هجری نابسامان بود و حکومت قدرتمندی در کشور وجود نداشت
- ۴۹ تجارت و بازرگانی چگونه موجب گسترش علوم و فنون در دوره‌ی اسلامی شد؟
- ۵۰ نظامیه چه مکانی بود؟
- ۵۱ قبله به کدام جهت است؟
- ۵۲ از وسط کدام شهر ایران رود زاینده رود عبور می‌کند؟
- ۵۳ جمعیت شهر اصفهان چند نفر است؟
- ۵۴ چهار مورد از بناهای تاریخی اصفهان را نام ببرید.
- ۵۵ شاه عباس در به امور کشور می‌پرداخت و دستورات لازم را صادر و در تالارهای آن از مهمانان پذیرایی می‌کرد.
- ۵۶ نوشته‌های روی سنگ کاشی و مانند آن را می‌گویند.
- ۵۷ یکی از نشانه‌های معماری اسلامی است.
- ۵۸ شهر اصفهان مرکز استان است.
- ۵۹ خط زمان چیست؟
- ۶۰ پس از رحلت پیامبر (ص) مسلمانان در ارتباط با گسترش اسلام چه کردند؟
- ۶۱ ایران چه زمانی به قلمرو اسلامی افزوده شد؟
- ۶۲ در کدام استان کشور ما معادن اورانیوم وجود دارد؟
- ۶۳ انرژی باد چگونه تبدیل به انرژی الکتریکی می‌شوند؟
- ۶۴ بخش عمده نفت ایران چگونه مصرف می‌شود؟
- ۶۵ بزرگترین تجارت در جهان امروز کدام است؟
- ۶۶ گاز از چه طریق به اغلب شهرهای ایران می‌رسد؟
- ۶۷ بیشتر منابع گازی ایران در کدام مناطق قرار دارند؟
- ۶۸ نفت تصفیه شده و فرآورده‌های نفتی تولید شده در پالایشگاه به کجا منتقل می‌شود و چه مصارفی دارند؟
- ۶۹ کدام استان‌های کشور ما منابع نفتی دارند؟ (۴ مورد)
- ۷۰ بیشتر منابع نفتی ایران در کدام قسمت از کشور قرار دارند؟

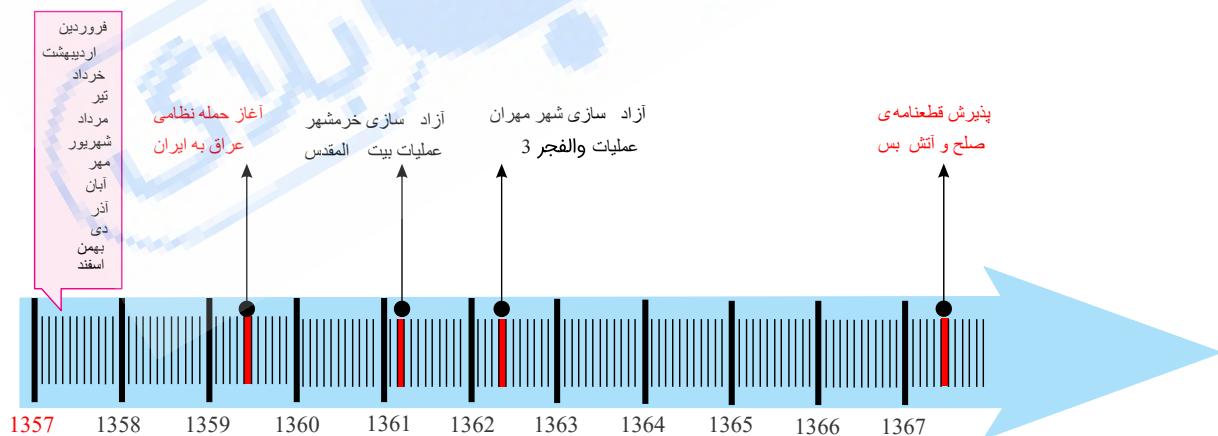
- ۷۱) منابع گاز سرخون در استان قرار دارد.
- ۷۲) منابع گاز خانگیران سرخس در استان قرار دارد.
- ۷۳) چند نوع محصول که می‌توان با کشت گلخانه‌ای پرورش داد را بنویسید. (۴ مورد)
- ۷۴) گندم در کدام استان کشور ایران کشت می‌شود؟
- ۷۵) کشت گندم در کشور ما رایج است.
- ۷۶) کشت و پرورش گیاهانی که بعد از کاشت دانه حداکثر تا یک سال محصول می‌دهند می‌گویند.
- ۷۷) سه محصول در سه آب و هوای مختلف را بنویسید.
- ۷۸) بخش وسیعی از کشور ایران در چه منطقه آب و هوایی قرار دارد؟
- ۷۹) کشور ما جزء کشورهای جهان است و متوسط بارندگی سالانه ایران حدود ۲۶۰ میلی‌متر است.
- ۸۰) گاهی اوقات تصمیماتی که ناگهانی گرفته می‌شود زیان‌هایی به بار می‌آورد زیرا درباره‌ی آن تصمیم نشده است.
- ۸۱) عبارات مناسب را به یکدیگر وصل کنید.

- | | |
|--|--|
| <input type="checkbox"/> پیدا کردن دوست | <input type="checkbox"/> آسان |
| <input type="checkbox"/> اگر خطایی از دوستان دیدیم | <input type="checkbox"/> نه بگوییم |
| <input type="checkbox"/> در برابر خواسته نادرست | <input type="checkbox"/> عیب‌جویی نکنیم |
| <input type="checkbox"/> دوستی | <input type="checkbox"/> از او دفاع کنیم |
| | <input type="checkbox"/> حد و مرز دارد |

۸۲) اگر خطایی از دوستان دیدیم چه باید بکنیم؟

۸۳) دوست خوب شماس و شما را از کارهای بد و نامناسب باز می‌دارد.

۸۴) ۱- دفاع مقدّس چند سال طول کشید؟ روی خطّ زمان بشمارید.



پیروزی انقلاب
اسلامی ایران

- ۲- آزادسازی خرمشهر، (عملیات بیت‌المقدس) در چه سالی صورت گرفت؟
- ۳- عملیات و الفجر ۳ در چه سالی اتفاق افتاد؟ در این عملیات کدام شهر آزاد شد؟

۸۵ با توجه به نقشه‌های مربوط به دریای خزر و خلیج فارس و دریای عمان تمرینات زیر را انجام دهید.

الف) روی نقشه‌ی خلیج فارس:

- ۱- نام خلیج فارس و دریای عمان را بنویسید.
- ۲- نام تنگه‌ی هرمز را بنویسید.
- ۳- نام کشورهای اطراف خلیج فارس را که با علامت؟ مشخص شده‌اند، بنویسید.
- ۴- دریاها را با مداد آبی رنگ کنید.

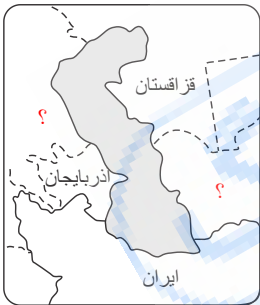
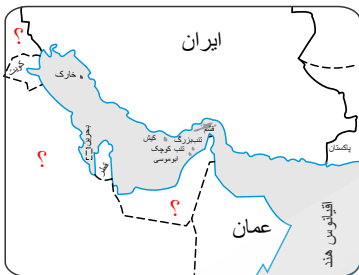
ب) روی نقشه‌ی دریای خزر:

- ۱- نام دریای خزر را روی نقشه بنویسید.
- ۲- دریای خزر را با مداد آبی رنگ کنید.
- ۳- نام کشورهای اطراف دریای خزر را که با علامت؟ مشخص شده روی نقشه بنویسید.

الف) نقشه‌ی خلیج فارس و دریای عمان



ب) نقشه‌ی دریای خزر





۲ - هر یک از عبارات زیر مربوط به کدام یک از اصطلاحات اقتصادی داده شده است؟ با خط به هم مربوط کنید.

- * خط تولید
- * عمده فروش
- * تولید انبوه
- * بودجه
- * توان مالی یا مقدار پولی که می توانیم برای تهیه ی یک چیز بپردازیم.
- * به تولید کالاها به مقدار زیاد و به صورت یک شکل و همسان گفته می شود.
- * به همکاری افراد مختلف برای تولید یک کالا گفته می شود.
- * به طوری که هر کدام از آنها مهارت تولید یک بخش از کالا را دارند.
- * فروشندگانی که کالاها را به تعداد زیاد و یکجا به مغازه داران دیگر می فروشند.

۸۷) از کتاب‌های تاریخ سال‌های گذشته یا کتاب‌ها و مجلات دیگر، چند تصویر از پوشاک مردم ایران مربوط به دوره‌های تاریخی انتخاب کنید و در این صفحه بچسبانید. چه خصوصیتی در لباس‌های هر دوره مشاهده می‌کنید؟

| | |
|---|--|
|  |  |
| لباس محلی کردستان | لباس محلی مازندران |
|  |  |
| لباس محلی خراسان | لباس محلی فارس |

۸۸) ۱- کاخ چهلستون یکی از کاخ‌های صفویان در اصفهان است. سقف این تالار بر بیست ستون استوار شده است و جلوی آن یک استخر بزرگ آب وجود دارد. در تالار اصلی آن نقاشی‌های زیبایی به چشم می‌خورد. چرا با اینکه این کاخ بیست ستون دارد، به آن چهلستون می‌گویند؟

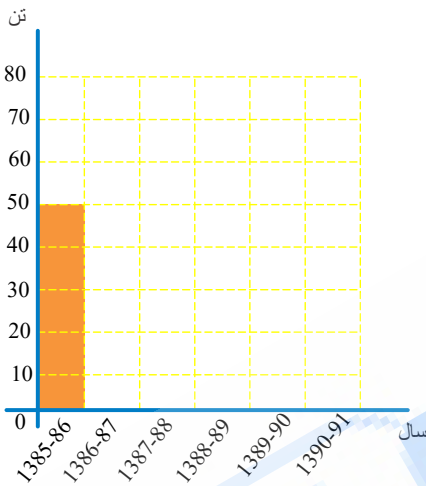


۲- نقاشان بر روی گنبد مساجد و مینیاتورهای داخل کاخ‌ها، بیشتر چه نقش‌هایی کشیده‌اند؟

۳- شهر اصفهان پل‌های مشهوری دارد که در زمان صفویه ساخته شده است. پرس‌وجو کنید و نام آن‌ها را بنویسید.

۸۹ نمودار محصول مرکبات باغ آقای رضوانی را با توجه به اطلاعات این جدول تکمیل و رنگ آمیزی کنید.

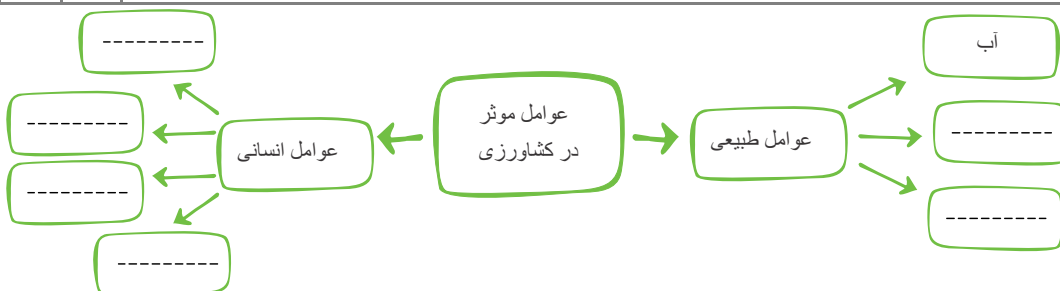
| سال زراعی | سال زراعی = تن پرتقال |
|-----------|-----------------------|
| ۱۳۸۵ - ۸۶ | |
| ۱۳۸۶ - ۸۷ | |
| ۱۳۸۷ - ۸۸ | |
| ۱۳۸۸ - ۸۹ | |
| ۱۳۸۹ - ۹۰ | |
| ۱۳۹۰ - ۹۱ | |



۹۰ ۱- این اخبار از روزنامه‌ها برداشته شده است. هر یک از آن‌ها مربوط به کدام عوامل مؤثر بر کشاورزی است. طبیعی یا انسانی؟

| انسانی | طبیعی |
|--------|---|
| | ۱ - هجوم آفت سن* در مزارع گندم در ناحیه‌ی کرمان خسارات زیادی به محصول کشاورزان وارد نمود ... *سن حشره‌ای است که می‌تواند به محصولات کشاورزی آسیب برساند. |
| | ۲ - سازمان غله‌ی (گندم و جو و برنج) کشور اعلام کرد که محصول گندم کشاورزان به موقع خریداری می‌شود. |
| | ۳ - اداره‌ی کشاورزی و رزمین از کشاورزان خواست برای تهیه‌ی سم و کود به قیمت تعاونی، به این اداره مراجعه کنند... |
| | ۴ - بارش ناگهانی تگرگ در اردبیل به شکوفه‌های درختان میوه آسیب جدی وارد نموده است... |
| | ۵ - رئیس اداره‌ی کشاورزی فیروزآباد به خبرنگار گفت: «وجود آب و آفتاب کافی در این ناحیه امکان دو بار برداشت محصول در سال را به ما می‌دهد» |

۲ - نمودار را تکمیل کنید:



۹۱

موقعیت‌های زیر را بخوانید و درباره‌ی کارهای افراد گفت‌وگو کنید. کار کدام یک از آن‌ها درست یا نادرست است؟ بهتر است هریک از آن‌ها در این موقعیت چگونه رفتار کنند؟

موقعیت ۱

حسن و پوریا در همسایگی هم زندگی می‌کنند و با هم دوست و همکلاس هستند، آن‌ها فردا امتحان ریاضی دارند، پوریا نتوانسته بعضی از مطالب را خوب یاد بگیرد و از حسن خواهش می‌کند که به خانه‌ی آن‌ها بیاید و به او ریاضی یاد بدهد، از طرفی حسن می‌خواهد بهترین نمره‌ی کلاس را بگیرد و نفر اول باشد و نمی‌داند چه تصمیمی بگیرد.

موقعیت ۲

سارا و نرگس دوستان صمیمی هستند، آن‌ها هر روز با هم به مدرسه می‌روند، با هم درس می‌خوانند و گاهی در روزهای تعطیل نیز به خانه‌ی یکدیگر می‌روند، خانواده‌ی نرگس خانه‌ی جدیدی در یک محله‌ی دیگر شهر خریده‌اند و قرار است به آن‌جا اسباب‌کشی کنند، نرگس هم باید در مدرسه‌ی دیگری ثبت‌نام کند، سارا خیلی گریه می‌کند و نمی‌تواند درس‌هایش را خوب بخواند.

موقعیت ۳

مریم و لیلا با هم دوست هستند. مریم متوجه می‌شود که گاهی لیلا پشت سر یکی از همکلاسی‌هایشان بدگویی می‌کند. مریم با مهربانی به لیلا می‌گوید: همان‌طور که ما دوست نداریم کسی پشت سر ما حرف بزند پس ما هم نباید عیب دیگران را بازگو کنیم؛ اما لیلا اخم‌هایش را در هم می‌کشد و ناراحت می‌شود و ...

۹۲

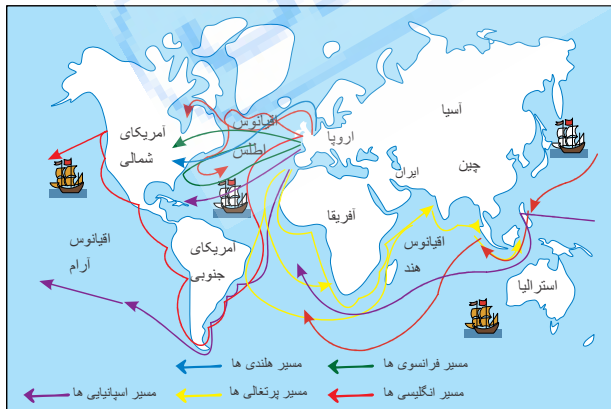
• طبق عهدنامه‌های گلستان و ترکمانچای بخشهایی از شمال کشور ایران جدا و به روسها داده شد. برای مثال، باکو، شیروان، نخجوان و قفقاز.
• طبق قرارداد روترز حق احداث راه‌آهن و بهره‌برداری از معادن و منابع جنگلها و قناتهای ایران به مدت ۷۰ سال به انگلیسی‌ها داده شد.
• طبق یک قرارداد روس و انگلیس ایران را بین خود تقسیم کردند. مناطق شمال تا مرکز ایران تحت نفوذ روسیه و مناطق جنوبی تحت نفوذ انگلیس قرار گرفت.

• انگلیسی‌ها رضاخان را به قدرت رساندند و او را شاه کردند تا دست‌نشانده‌ی آن‌ها باشد و هر کاری به او بگویند، انجام دهد.
• طبق قراردادهایی با دولت انگلیس، این کشور از نفت ایران بهره می‌برد و نفت متعلق به خود ما نبود. آمریکا، محمدرضا شاه پهلوی را به قدرت رساند تا او برنامه‌هایی را که آمریکا می‌خواست، در ایران پیاده کند.

بحث گروهی: متن بالا را بخوانید و بگویید الف) چرا ایران مورد توجه کشورهای استعمارگر بود؟ ب) کدام کشورها در امور ایران دخالت می‌کردند؟ ج) این امتیازات و دخالت‌ها چه ضررهایی به ایران وارد کرد؟ د) به نظر شما چرا شاهان قاجار و پهلوی به استعمارگران اجازه‌ی دخالت می‌دادند؟

۹۳

همفکری کنید و از روی نقشه، مسیرهای دریایی را دنبال کنید و بگویید در هر مسیر، دریانوردان به کدام سرزمین‌ها یا قاره‌ها رسیده‌اند؟ کدام کشورها به دریانوردی و کشف سرزمین‌های جدید مشغول بودند؟



۹۴

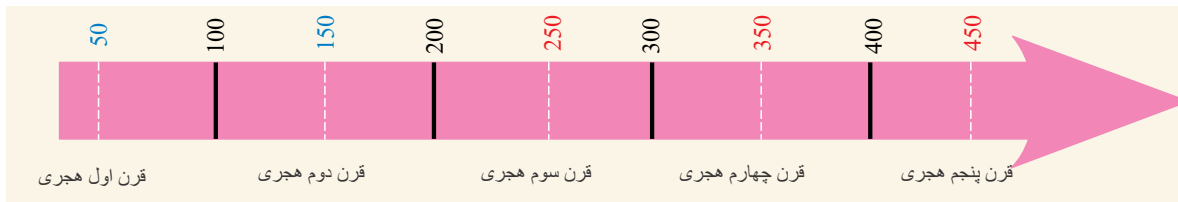
روز ۱۰ اردیبهشت در تقویم، روز ملی خلیج فارس نامیده شده است. علت چیست؟ پرس‌وجو کنید.

۹۵) با راهنمایی معلم، موارد زیر را روی خطّ زمان نشان دهید و بگویید هریک از این افراد در چه زمانی زندگی می‌کرده‌اند؟

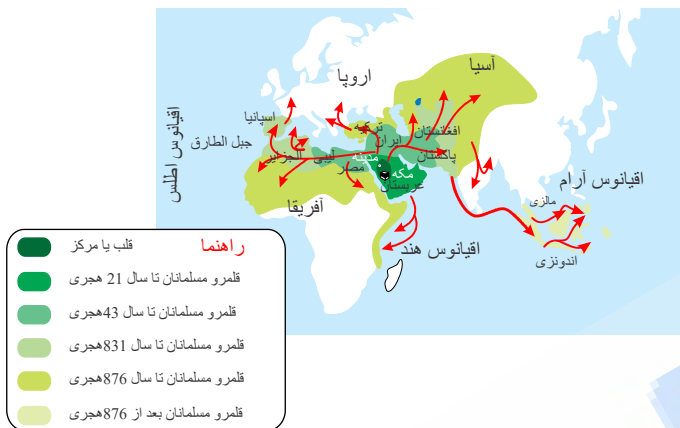
الف) ابوریحان بیرونی ۴۴۰ - ۳۶۲ هجری ←

ب) زکریای رازی ۳۱۳ - ۲۵۱ هجری ←

ج) خیام ۵۱۷ - ۴۲۹ هجری ←



۹۶) به نقشه توجه کنید، دین اسلام در کدام قاره‌ها گسترش یافت؟ در هر قاره، یک یا دو کشور را که اسلام در آنها راه یافته است، نام ببرید.



۹۷) بحث گروهی: نفت میراثی طبیعی است که بر اثر استفاده تمام می‌شود. به نظر شما، الف) چرا تمام شدن نفت باعث نگرانی می‌شود؟ ب) صادرات نفت برای کشور ما چه اهمیتی دارد؟ ج) چرا ایران تلاش می‌کند به صادرات نفت وابسته نباشد و سایر کالاها را به خارج صادر کند؟ د) آیا ما حق داریم همی نفت و گاز را استخراج کنیم و به فکر آیندگان نباشیم؟

۹۸) برای حفظ محیط زیست، استفاده از برق حرارتی بهتر است یا برق آبی؟ چرا؟

۹۹) غلات، حبوبات و محصولات جالیزی سه گروه مهم از گیاهان زراعی هستند. همفکری کنید و از هر گروه چند محصول نام ببرید.

۱۰۰) همفکری کنید و بگویید به نظر شما هر کدام از این تصمیم‌ها مثبت است یا منفی؟ چرا؟ هر تصمیم چه نتیجه‌ای دارد و بر چه چیزهایی اثر می‌گذارد؟

(۱) حسن تصمیم گرفته است با دوستانش خوش‌اخلاق باشد و پشت سر کسی بدگویی نکند.

(۲) فرهاد تصمیم می‌گیرد فردا با دوستانش ترقه‌بازی کند.

(۳) زهرا تصمیم می‌گیرد هر روز یک ساعت، درسی را که در آن ضعیف است، بخواند.

(۴) امید تصمیم گرفته است که دیگر خوراکی‌های زیان‌آور مانند نوشابه نخورد.

(۵) الهام فردا امتحان دارد اما تصمیم می‌گیرد همی برنامه‌های مورد علاقه‌اش را در تلویزیون تماشا کند.

(۶) بهروز تصمیم گرفته است که در خانه منظم باشد، وسایلش را در جای خود بگذارد و به مادرش در مرتب کردن اتاق کمک کند.

۱۰۱) فرض کنید پولی برای خریدن وسیله‌ای که خیلی دوستش دارید، پس‌انداز کرده‌اید. اما برادر شما یک بازی سرگرم‌کننده و فکری جالب پیدا کرده است و از شما می‌خواهد برای خریدن آن با او شریک بشوید و شما باید نصف پول پس‌اندازتان را بدهید. شما چه کاری انجام می‌دهید؟

۱۰۲) معلم یک کار تحقیقی به شما داده است که فردا باید تحویل بدهید و شما به یک کتاب نیاز دارید و می‌دانید آن کتاب را یکی از همکلاسی‌های شما دارد که با شما قهر است. در این موقعیت چه کاری انجام می‌دهید؟

۱۰۳) معنی این ابیات چیست؟ گفت و گو کنید و معنی آنها را توضیح دهید.

من آن‌که بگویم که تو کیستی

تو اول بگو با کیان زیستی

تا تو را عقل و دین بیفزاید

همنشین تو از تو به باید

(سعدی)

- ۱۰۴) فرماندهی سپاه خرمشهر چه کسی بود؟
- ۱۰۵) دلایل حمله‌ی عراق به ایران را نام ببرید.
- ۱۰۶) اروپاییان چگونه در دریانوردی مهارت پیدا کردند؟
- ۱۰۷) استعمارگران به چه بهانه‌ای در امور کشورها دخالت می‌کردند؟ هدف اصلی آنان از استعمار چه بود؟
- ۱۰۸) عواملی که موجب قدرتمندی کشورهای اروپایی شد نام ببرید.
- ۱۰۹) خرمشهر طی عملیات آزاد شد.
- ۱۱۰) نمونه‌هایی از محصولات که اروپاییان از کشورهای مسلمان خریداری می‌کردند، نام ببرید.
- ۱۱۱) دوره‌ی برای مسلمانان با دوره‌ی تاریکی برای اروپاییان مصادف بود.
- ۱۱۲) سبب شد ثروت اروپاییان بیشتر شود.
- ۱۱۳) دو کشور همسایه‌ی ایران که زبان فارسی دارند را نام ببرید.
- ۱۱۴) دین مردم ارمنستان چیست و وضعیت مرز این کشور با ایران چگونه است؟
- ۱۱۵) علامت‌گذاری در محل خطوط مرزی به وسیله‌ی فرو کردن یا در زمین است.
- ۱۱۶) مرز بین کشورها فقط روی زمین نیست بلکه فضای هم جزء آن است.
- ۱۱۷) ایران طولانی‌ترین مرز را با کشور دارد.
- ۱۱۸) در تقویم چه روزی به نام روز ملی خلیج فارس نام‌گذاری شده است؟
- ۱۱۹) به علت نشت نفت از موجوداتی که در دریای خزر زندگی می‌کنند در معرض خطر جدی قرار دارند.
- ۱۲۰) دریای خزر نیز دارای منابع نفت و است.
- ۱۲۱) میزان شوری آب دریای خزر از سایر دریاها و اقیانوس‌هاست.
- ۱۲۲) در هنگام خرید لباس باید به چه مواردی توجه کنیم؟
- ۱۲۳) چگونگی تولید لباس در کارگاه را مرحله به مرحله توضیح دهید.
- ۱۲۴) برنامه‌ی متعادل چه ویژگی‌هایی باید داشته باشد؟ (سه مورد)
- ۱۲۵) آب و هوا چه تأثیری بر نوع پوشش دارد؟
- ۱۲۶) وظیفه‌ی ما در برابر مکان‌های عمومی چیست؟
- ۱۲۷) نخ به کار رفته در دوخت لباس ممکن است یا باشد.
- ۱۲۸) بودجه به معنای درآمد و است.
- ۱۲۹) امروزه اغلب در مراسم‌ها و جشن‌ها پوشیده می‌شوند.
- ۱۳۰) در برنامه‌ی متعادل زمان کافی برای عبادت و وجود داشته باشد.
- ۱۳۱) ما در موقعیت‌های مختلف لباس‌های می‌پوشیم.
- ۱۳۲) امروزه اغلب مردم برای تهیه‌ی لباس به مراجعه می‌کنند.
- ۱۳۳) باعث می‌شود برای انجام سایر فعالیت‌ها انرژی بگیریم.
- ۱۳۴) مزیت‌های کشت گلخانه‌ای را توضیح دهید. (۳ مورد)
- ۱۳۵) کشت گلخانه‌ای چه شرایط ویژه‌ای را برای کشت محصولات فراهم می‌کند؟ نتیجه‌ی ایجاد این شرایط چیست؟
- ۱۳۶) چه عاملی موجب می‌شود در کشور ایران انواع محصولات کشاورزی کشت شود؟ این عامل بر کیفیت محصولات کشت شده چه تأثیری دارد؟
- ۱۳۷) وصل کنید! توضیح مرتبط به هر کلمه را به آن وصل نمایید.

برق آبی
کرمانشاه
انرژی تجدیدپذیر
برق حرارتی
خراسان رضوی
آب جاری
یزد

الف) استانی در شمال شرقی که دارای منبع گازی است.
ب) استانی در غرب ایران که دارای منابع نفت است.
ج) عمده‌ترین روش تولید برق در ایران
د) کمترین منبع انرژی مورد استفاده در جهان

- ۱۳۸ نمونه‌هایی از عوامل انسانی مؤثر بر کشاورزی را نام برده و اثر یک مورد را بر کشاورزی شرح دهید. (۴ مورد)
- ۱۳۹ نمونه‌هایی از استفاده‌ی انرژی خورشیدی در ایران را نام ببرید. از انرژی خورشیدی چگونه می‌توان برق تولید کرد؟
- ۱۴۰ در رابطه با مصرف سوخت‌های فسیلی چه مواردی را باید رعایت کنیم؟ (۲ مورد)
- ۱۴۱ انرژی هسته‌ای را تعریف کنید. کدام شهر ایران دارای نیروگاه اتمی است؟
- ۱۴۲ چرا انرژی هسته‌ای تجدیدپذیر نیست؟
- ۱۴۳ سوخت‌های فسیلی را تعریف کنید. این سوخت‌ها چند درصد از نیاز مردم جهان را تامین می‌کنند؟
- ۱۴۴ در هر یک از موارد زیر قرن و نیمه‌ی قرن را مشخص کنید.

الف) سال ۶۷۴ هجری قمری

ب) سال ۲۰۱۶ میلادی

ج) سال ۱۳۹۶ هجری شمسی

- ۱۴۵ هر یک از موارد زیر مربوط به کدام دانشمند است؟ نام او را ذکر کنید.

الف) اختراع ساعت شمعی

ب) نوشتن کتاب در زمینه‌ی نقش غذا در سلامت

ج) تاسیس نظامیه

د) محاسبه‌ی فاصله‌ی سیارات

- ۱۴۶ چه عواملی موجب گسترش علوم و فنون در دوره‌ی اسلامی شد؟

- ۱۴۷ چرخاب چیست؟ از چرخاب در چه مواردی استفاده می‌شود؟

- ۱۴۸ موارد مرتبط با یکدیگر را براساس خط زمان بیاپید.

سال ۹۶۶ هجری

سال ۱۱۳۵ هجری

سال ۱۰۱۱ هجری

سال ۱۰۰۶ هجری

سال ۱۰۲۸ هجری

انتخاب اصفهان به پایتختی

آغاز ساخت مسجد شیخ لطف‌الله

طراحی میدان نقش جهان

آغاز حکومت شاه‌عباس اول

سقوط سلسله‌ی صفویه

- ۱۴۹ گیاه گندم در همه‌ی استان‌های ایران به جز و کشت می‌شود.

- ۱۵۰ در رابطه با میدان نقش جهان سؤالات زیر را تکمیل کنید.

الف) به دستور کدام شاه‌صفوی ساخته شد؟

ب) طول این میدان چقدر است؟

ج) در هر یک از جهات میدان چه چیزی قرار دارد؟

- ۱۵۱ ساعت ۷ الی ۱۱ شب را ساعت یا اوج گویند که در این زمان مصرف برق در حداکثر میزان خود قرار دارد.

- ۱۵۲ معروف‌ترین بیمارستان جهان اسلام را در شهر بنا کرد.

- ۱۵۳ زکریای رازی کاشف بود.

- ۱۵۴ مسلمانان از برای شناسایی موقعیت ستارگان استفاده می‌کنند.

- ۱۵۵ در رابطه با سلسله‌ی صفویه به سؤالات زیر پاسخ دهید.

الف) در کدام قرن تأسیس شد؟

ب) اولین پادشاه آن که بود؟

ج) مذهب رسمی سلسله‌ی صفویه چه بود؟

د) کدام پادشاه سلسله‌ی صفویه اصفهان را به پایتختی انتخاب کرد؟

- ۱۵۶ دین اسلام از طریق به قاره‌ی اروپا وارد شد.

۱۵۷ منبع گاز در استان خراسان رضوی قرار گرفته است.

۱۵۸ کاروان سراها به چه منظوری مورد استفاده قرار می‌گرفتند؟

۱۵۹ رود از وسط شهر اصفهان عبور می‌کند.

۱۶۰ شاه اسماعیل سلسله‌ی را تأسیس کرد.

۱۶۱ حامد و محمد دوستان صمیمی هستند و هر روز با همدیگر بازی می‌کنند. خانواده‌ی محمد می‌خواهند برای زندگی به شهر دیگری بروند. حامد

خیلی ناراحت است. شما چه توصیه‌ای به حامد می‌کنید؟

۱۶۲ در موقعیت زیر زهرا باید چه کار کند؟

نیلوفر و زهرا دوستان صمیمی هستند. زهرا متوجه می‌شود که نیلوفر پشت سر یکی از دوستانش بد گویی می‌کند،

۱۶۳ دوستی افراطی چیست؟

۱۶۴ بیت زیر به کدام یک از توصیه‌های رفتاری با دوستان اشاره دارد؟

«دوست آن باشد که گیرد دست دوست / در پریشان‌حالی و درماندگی»

۱۶۵ حفظ دوستی به چه معناست؟

۱۶۶ پیامبر(ص) بدترین افراد را چه کسانی معرفی می‌کنند؟

۱۶۷ با توجه به سخن علی(ع) بگوئید کدام دسته از دوستان سبب پیشرفت ما می‌شوند؟

۱۶۸ سه مورد از فواید دوستی را ذکر کنید.

۱۶۹ همنشین تو از تو به باید / تا تو را و بیفزاید.

۱۷۰ سه نفر از کسانی که درباره‌ی تصمیمات مهم با آن‌ها مشورت می‌کنید را نام ببرید.

۱۷۱ مرحله‌ی اول تصمیم‌گیری چه نام دارد؟ آن را توضیح دهید.

۱۷۲ چرا تصمیم‌گیری کار مهمی است؟

۱۷۳ تصمیم‌گیری چیست؟

۱۷۴ جای خالی را با کلمه‌ی مناسب پر کنید.

در تصمیمات مهم از برادر کوچکتر خود مشورت بگیریم.

۱۷۵ حضرت علی(ع) در نامه‌ای به امام حسن(ع) ایشان را از دوستی با نهی می‌کند.

۱۷۶ درست و نادرست بودن عبارات زیر را مشخص کنید.

الف دعوا کردن با دیگران بر اخلاق ما تأثیر مثبت دارد.

ب بررسی تطبیق تصمیم با قوانین اجتماعی مربوط به آخرین مرحله‌ی تصمیم‌گیری است.

پ مشورت با معلم در تصمیمات بزرگ کار صحیحی است.

ت در تصمیم‌گیری نباید تحت تأثیر حرف‌ها و نصیحت‌های دیگران قرار بگیریم.

ث تصمیم‌گیری را به آینده موکول کردن کار صحیحی نیست.

۱۷۷ درست یا نادرست بودن عبارات زیر را مشخص کنید.

الف شهر شیراز از مشهد پرجمعیت‌تر است.

ب مشهورترین پادشاه سلسله‌ی صفویه شاه‌عباس اول است.

پ در اوایل قرن دهم اوضاع ایران نابسامان بود.

ت شیراز، قزوین و اصفهان پایتخت‌های ایران در دوره‌ی صفویه بودند.

ث شهر اصفهان تنها در زمان صفویه پایتخت ایران بود.

۱۷۸ درست یا نادرست بودن عبارات زیر را مشخص کنید.

الف در جنوب میدان نقش جهان مسجد جامع عباسی قرار دارد.

ب میدان نقش جهان به فرمان شاه‌اسماعیل در اصفهان ساخته شد.

پ شاه‌اسماعیل صفوی اصفهان را به پایتختی انتخاب کرد.

ت هم‌زمان با ساخت مسجد شیخ لطف‌الله، معدن سنگ مرمر در اطراف اصفهان کشف شد.

ث در دوره‌ی صفویه تنها مردم پردرآمد به دولت مالیات می‌دادند.

۱۷۹ درست یا نادرست بودن جملات زیر را مشخص کنید.

الف اسلام از سرزمین عراق طلوع کرد.

ب مدرسه‌ی نظامیه توسط خواجه نظام‌الملک تاسیس شد.

پ مسلمانان پس از فتح ایران و یونان، آثار علمی آنان را به عربی ترجمه کردند.

ت دین اسلام در قاره‌ی آفریقا، ابتدا به کشورهای شمالی گسترش یافت.

ث دانشگاه جندی شاپور در زمان سامانیان تاسیس شد.

۱۸۰ درست یا نادرست بودن جملات زیر را مشخص کنید.

الف انرژی نو محیط زیست را الوده نمی‌کنند.

ب هر چه فلش برچسب انرژی به سمت سبز پررنگ باشد کارایی وسیله بالاتر است.

پ باز و بسته کردن در یخچال، مصرف انرژی را بالا می‌برد.

ت در رابطه با وسایل الکتریکی هر چه میزان مصرف برق بالاتر باشد کارایی وسیله نیز بیشتر خواهد بود.

۱۸۱ درستی یا نادرستی عبارات زیر را مشخص کنید.

الف همه‌ی دوستان مایه‌ی آرامش انسان هستند.

ب دوستان موجب موفقیت و سعادت انسان می‌شوند.

پ ممکن است دوست موجب ناراحتی و سرشکستگی دوست خود شود.

ت تنهایی برای انسان‌ها احساس ناخوشایندی است.

ث همه‌ی ما نیاز داریم که دوستانی داشته باشیم، تا هم به آن‌ها محبت کنیم و هم مورد توجه و مهربانی قرار بگیریم.

ج رفتار و اخلاق دوستان در ما تأثیر می‌گذارد و ما نیز تأثیراتی بر دوستان خود داریم.

۱۸۲ درستی و نادرستی گزینه‌های زیر را مشخص کنید.

الف بعد از گندم، غلات و محصولات جالیزی مهم‌ترین منبع غذایی مردم ایران محسوب می‌شود.

ب برنج گیاهی یک ساله است که در نواحی معتدل و نیمه خشک کشت می‌شود.

پ همه‌ی محصول برنج کشور ما در شمال کشور کشت می‌شود.

ت کشت و پرورش انواع درختان میوه در ایران از قدیم رایج بوده است؟

ث هلو - زردآلو - گوجه - آلبالو میوه‌های سردسیر هسته‌دار هستند.

ج امام صادق علیه‌السلام حلال‌ترین شغل را درختکاری و کشاورزی می‌دانند.

چ گندم و برنج خوراک روزانه و غذای اصلی مردم کشور ما هستند.

۱۸۳ درستی یا نادرستی عبارات‌های زیر را مشخص کنید.

الف نفت و گاز از کنار خلیج فارس در ناحیه‌ی عمیق نزدیک به تنگه استخراج می‌شود.

ب میگو یکی از آبزیان مهم دریای شمال است.

پ با نزدیک شدن به بهار ماهیگیران جنوب خود را برای صید میگو آماده می‌کنند.

ت خاویار از ماهیان خاویاری مانند دراکول و فیل ماهی به دست می‌آید.

ث دریای خزر بزرگ‌ترین منبع ماهیان خاویاری است.

ج در کشتی‌های مجهز لوزام پیشرفته ماهیگیری و سردخانه وجود دارد.

۱۸۴ نام چند قهرمان ملی را که از سال ۱۲۵۰ تا ۱۳۵۰ با بیگانگان به مبارزه برخاستند، بنویسید.

۱۸۵ به چه کسانی «دلبران تنگستان» می‌گفتند؟

۱۸۶ استعمارگران از چه راه‌هایی به کشورهای مختلف نفوذ کرده‌اند؟

۱۸۷ آیا دریاهای ایران در گردشگری مردم نقش دارند؟

۱۸۸ پوشاک ما در تابستان و زمستان چه تفاوت‌هایی با هم دارند؟

۱۸۹ سه مورد بنویسید که باعث صرفه‌جویی در مصرف برق می‌شود.

۱۹۰ برق و انرژی الکتریکی بیشتر از طریق سوزاندن و در نیروگاه‌ها تولید می‌شوند.

۱۹۱ جمله‌ی ستون راست را به گزینه‌ی مناسب در ستون چپ وصل کنید.

| | |
|-------------|------------------------------------|
| غلات | ۱) غذای اصلی مردم ایران است. |
| برنج و غلات | |
| گندم و برنج | ۲) مهم‌ترین منبع غذایی انسان‌هاست. |

۱۹۲ چه زمانی «انتخاب در تصمیم» مشکل است؟

۱۹۳ دو توصیه در مورد روابط دوستی بنویسید.

۱۹۴ اگر در روابط ما با دوستان یا حتی بزرگ‌ترها، موقعیتی پیش آید که افراد از ما درخواست ناهنجاری داشته باشند، چه باید کرد؟

۱) باید درخواست آن‌ها را بپذیریم.

۲) چون ممکن است ما را مسخره کنند، باید درخواست آن‌ها را بپذیریم.

۳) ممکن است از دست ما ناراحت شوند؛ پس درخواست آن‌ها را می‌پذیریم.

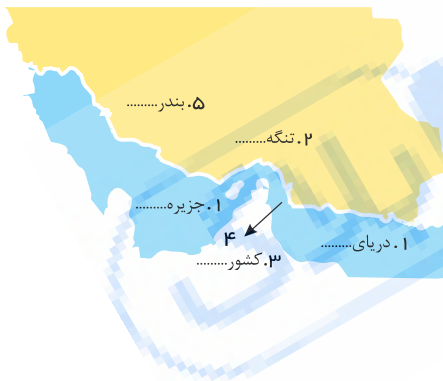
۴) باید قاطعانه و محکم و محترمانه به آن‌ها «نه» بگوییم.

۱۹۵ چرا به منطقه‌ی خلیج فارس «انبار نفت جهان» گفته می‌شود؟

۱۹۶ با توجه به نقشه پاسخ دهید. ۱. دریا ۲. تنگه

۳. کشور ۴. جزیره

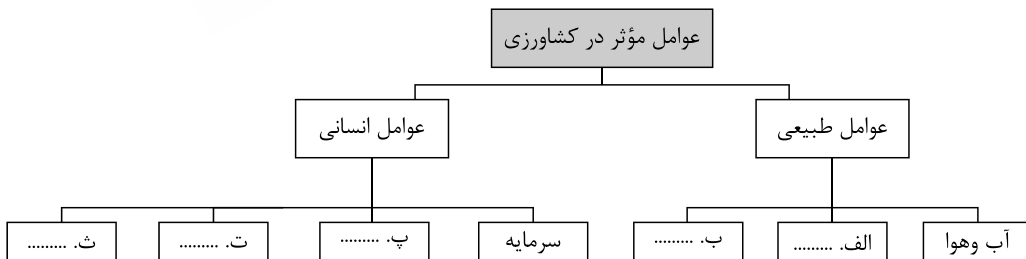
۵. بندر



۱۹۷ در مصرف سوخت‌های فسیلی به چه نکاتی باید توجه کنیم؟ (۳ مورد)

۱۹۸ چگونه علوم و فنون اسلامی انتقال یافت؟

۱۹۹ نمودار زیر را کامل کنید.



۲۰۰ به چه کشورهایی مستعمره می‌گویند؟

۲۰۱ بیشترین نفوذ و دخالت بیگانگان در کشور ما در کدام دوره‌ها بوده است؟

۲۰۲ اختراع دستگاه چاپ توسط و تلسکوپ توسط از پیشرفت‌های اروپاییان در دوره‌ی ارتباط با مسلمانان است.

۲۰۳ مردم کشور ارمنستان پیرو چه دینی هستند؟

۲۰۴) جدول زیر را کامل کنید.

| چهار جزیره‌ی ایران در خلیج فارس | چهار کشور همسایه با دریای خزر | چهار کشور همسایه با خلیج فارس |
|---------------------------------|-------------------------------|-------------------------------|
| ۱. | ۱. | ۱. |
| ۲. | ۲. | ۲. |
| ۳. | ۳. | ۳. |
| ۴. | ۴. | ۴. |

۲۰۵) کدام یک در انتخاب لباس مهم نیست؟

- الف) کیفیت خوب
ب) تناسب با باورهای دینی
پ) قیمت مناسب با بودجه
ت) پیروی از مد و الگوهای رایج

۲۰۶) لباس‌های اقوام ایرانی بسیار هستند.

۲۰۷) امروز بازی‌های بیشتری بین بچه‌ها رایج است.

۲۰۸) چه عاملی باعث می‌شود دوباره براساس برنامه‌ی روزانه برای فعالیت‌های دیگر انرژی پیدا کنیم؟

۲۰۹) چرا تفریح و سرگرمی برای انسان لازم است؟

۲۱۰) منظور از ضرب‌المثل «وقت طلاست» چیست؟

الف) وقت دست‌نیافتنی است.
ب) وقت، مثل تفریح و سرگرمی است.

پ) زمان یک فرصت گرانبها است.
ت) وقت چون زمان است.

۲۱۱) مشهورترین پادشاه صفوی نام دارد.

۲۱۲) هریک از عبارات‌های ستون سمت راست را به عبارت مناسب در ستون سمت چپ وصل کنید.

| الف | ب |
|---|--------------------|
| الف. نوشته‌هایی بر روی سنگ، کاشی و مانند آن است. | مسجد شیخ لطف‌الله |
| ب. نام دیگر نقاشی‌های مینیاتور | مناره |
| پ. ساخت این بنای تاریخی حدود ۱۸ سال به طول انجامید. | کاخ عالی‌قاپو |
| ت. از این مکان برای خبررسانی و گفتن اذان استفاده شده است. | خرده‌نگار |
| | استاد رضا عباسی |
| | کتیبه |
| | استاد علیرضا عباسی |

۲۱۳) علل پیشرفت مسلمانان را نام ببرید. (۴ مورد)

۲۱۴) سده را تعریف کنید.

۲۱۵) تفاوت عمده‌ی انرژی هسته‌ای و سایر انرژی‌ها در چیست؟

۲۱۶) منظور از ساعت «پیک یا اوج بار»، چه ساعتی است؟

الف) ساعت ۷ تا ۱۱ شب

ب) ساعت ۱ تا ۵ نیمه‌شب

پ) ساعت ۱۰ صبح تا ۲ بعد از ظهر

ت) ساعت ۵ صبح تا ۱۰ صبح

۲۱۷) پس از استخراج نفت خام چه تغییراتی روی آن صورت می‌گیرد؟

۲۱۸) مهم‌ترین منبع غذایی انسان‌ها است.

۲۱۹ کدام یک از نواحی زیر برای کشاورزی مناسب هستند؟

- الف) زمین‌های پرشیب
ب) زمین‌های آهکی
پ) زمین‌های سنگلاخی
ت) جلگه‌های آبرفتی

۲۲۰ جدول زیر را کامل کنید. (آثار کدام یک از تصمیمات زیر مثبت و کدام یک منفی است؟)

| موقعیت | | مثبت | منفی |
|--|--|------|------|
| ۱. امید تصمیم گرفته تکالیف برادر کوچکش را بنویسید. | | | |
| ۲. فرهاد تصمیم گرفته با دوستانش خوش‌اخلاق باشد و پشت سر کسی بدگویی نکند. | | | |
| ۳. غزل تصمیم گرفته در گروه شرکت نکند و کارش را به تنهایی انجام دهد. | | | |

۲۲۱ حضرت علی (ع) فرموده‌اند: «هر کس ادب ندارد هم ندارد.»

۲۲۲ درستی یا نادرستی جمله‌های زیر را مشخص کنید.

الف) دکتر محمد مصدق در زمان حکومت پهلوی نماینده‌ی مجلس بود.

ب) حکومت‌های نالایق اجازه‌ی نفوذ و دخالت به بیگانگان را در امور داخلی کشور می‌دادند.

۲۲۳ درستی یا نادرستی جمله‌های زیر را مشخص کنید.

الف) هر کس ادب ندارد عقل هم ندارد.

ب) دانشگاه جندی‌شاپور در اهواز تأسیس شده بود.

۲۲۴ درستی یا نادرستی جمله‌های زیر را مشخص کنید.

الف) صفویان مذهب شیعه را مذهب رسمی کشور اعلام کردند.

ب) انرژی هسته‌ای قابل تجدید است.

پ) به مدت زمانی از زندگی که در اختیار ماست «اوقات» می‌گویند.

۲۲۵ درستی یا نادرستی جمله‌های زیر را مشخص کنید.

الف) اولین مرحله در تصمیم‌گیری، خوب فکر کردن است.

پاسخنامه تشریحی

- ۱ وضع تحصیل
- ۲ آذربایجان غربی - کرمانشاه - ایلام - کردستان - خوزستان
- ۳ اهواز - خرمشهر - دزفول - ایلام - گیلان غرب - قصر شیرین - مریوان - سر پل ذهاب - دهلران - اندیمشک - سوسنگرد - آبادان
- ۴ با هدف توسعه‌ی اقتصادی و صنعتی در کشور و رشد تجارت خارجی ایران
- ۵ بادی منجیل
- ۶ آب و هوای متنوع
- ۷ به دلیل جلوگیری کردن از فاسد شدن ماهی‌ها، کشتی‌ها و کامیون‌های حمل ماهی باید یخچال و سردخانه داشته باشند.
- ۸ تابستان
- ۹ فاسد نشوند.
- ۱۰ مروارید سیاه
- ۱۱ میگو
- ۱۲ کاسپین
- ۱۳ پاسخ:



- ۱۴ به پیشروی آب دریاها در خشکی خلیج می گویند.
- ۱۵ عمق دریای خزر در نواحی شمالی آن بسیار کم است به طوری که در بعضی نواحی به کمتر از ۱۰ متر می‌رسد اما در نواحی جنوبی نزدیک به ایران عمق آن بیش از ۱۰۰۰ متر است.
- ۱۶ بیش از ۱۰۰۰
- ۱۷

| | | |
|------------------------------------|---|--------------------------------|
| مهم‌ترین علت پیشرفت علمی مسلمانان | ← | تعالیم دین اسلام |
| اسطراب | ← | شناسایی موقعیت ستارگان |
| جهت ستاره‌ی قطبی | ← | شناسایی مسیردر دریا |
| معروف‌ترین بیمارستان دوره‌ی اسلامی | ← | بیمارستان عضدالدوله دیلمی |
| نخستین بیمارستان | ← | دانشگاه جندی‌شاپور |
| رصدخانه | ← | محل تحقیق در ارتباط با ستارگان |

- ۱۸ برش کار از روی الگوهایی که دارد پارچه‌ها را می‌برد الگوها در اندازه‌های مختلف تهیه می‌شوند و این اندازه‌ها در سایزهای کوچک و بزرگ برای افراد با قد و اندازه‌های مختلف به کار می‌رود.
- ۱۹ به خیاط مراجعه می‌کردند.
- ۲۰ برش کار
- ۲۱ عمده‌فروشان
- ۲۲ پارچه‌بافی
- ۲۳ نخ
- ۲۴ تولید لباس
- ۲۵ خیاط
- ۲۶ تلسکوپ و دستگاه چاپ

- ۲۷) پیروزی انقلاب اسلامی
- ۲۸) اسپانیایی‌ها
- ۲۹) کروی
- ۳۰) همه مسلمان هستند به جز کشور ارمنستان که مسیحی است.
- ۳۱) زمین
- ۳۲) خرمشهر، آبادان، اهواز
- ۳۳) ایران
- ۳۴) ضد استعماری
- ۳۵) ۳۱ شهریور
- ۳۶) جامع
- ۳۷) خدا
- ۳۸) ارتش
- ۳۹) شاهزادگان، روحانیون و نظامیان
- ۴۰) لباس‌های این گروه‌ها بسته به کار و نقش آن‌ها در اجتماع باهم متفاوت است.
- ۴۱) ۱- سازمان دانش‌آموزی ۲- وزارت ورزش و جوانان
- ۴۲) همه‌ی مردم
- ۴۳) زیرا همه ما نیاز داریم که از طریق نماز، دعا و خواندن قرآن با خداوند ارتباط برقرار کنیم و باید بخشی از زندگی روزانه خود را به این کار اختصاص بدهیم.
- ۴۴) ۲۴ ساعت
- ۴۵) سفرنامه
- ۴۶) صفویه
- ۴۷) اصفهان
- ۴۸) اوایل قرن دهم
- ۴۹) بازرگانان در سراسر سرزمین‌های اسلامی کالاها را از جایی به جای دیگر حمل می‌کردند، تجارت و بازرگانی هم از طریق راه‌های خشکی و هم راه‌های دریایی رونق داشت. در این سفرها و رفت و آمدها علوم و فنون نیز از جایی به جای دیگر منتقل می‌شد.
- ۵۰) نظامیه‌ها مدارس بودند که عده‌ی زیادی از افراد در آن‌ها علم می‌آموختند و همانجا زندگی می‌کردند و حکومت، خرج تحصیل و زندگی آن‌ها را می‌داد.
- ۵۱) قبله رو به خانه‌ی کعبه است.
- ۵۲) اصفهان
- ۵۳) دو میلیون نفر
- ۵۴) میدان امام - مسجد امام - مسجد شیخ لطف‌الله - بازار قیصریه
- ۵۵) کاخ عالی‌قاپو
- ۵۶) کتیبه
- ۵۷) گنبد
- ۵۸) اصفهان
- ۵۹) خط زمان نشان می‌دهد که هر واقعه در چه زمانی اتفاق افتاده است.
- ۶۰) اسلام را در خارج از شبه جزیره عربستان گسترش دادند و در هر دوره، سرزمین‌های زیادی از جمله ایران را به قلمرو اسلامی افزودند و بسیاری از کشورهای قدرتمند آن روز را به تصرف درآوردند.
- ۶۱) پس از رحلت پیامبر (ص) مسلمانان، اسلام را در خارج از شبه جزیره‌ی عربستان گسترش دادند و در هر دوره سرزمین‌های زیادی از جمله ایران به قلمرو اسلامی افزوده شد.
- ۶۲) استان یزد
- ۶۳) انرژی باد توربین‌ها را به حرکت درمی‌آورد و انرژی الکتریکی تولید می‌کند.
- ۶۴) بخش عمده‌ای از نفت ایران به کشورهای خارجی صادر می‌شود.
- ۶۵) صادرات و واردات نفت و گاز
- ۶۶) ایران دارای یک شبکه‌ی گازرسانی است و گاز از طریق خط لوله‌ی سراسری به اغلب شهرهای ایران می‌رسد.
- ۶۷) جنوب و شمال شرقی
- ۶۸) بیشتر نفت تصفیه شده و فرآورده‌های نفتی تولید شده در پالایشگاه از طریق خطوط لوله به نقاط مختلف کشور منتقل می‌شود و برای رفع نیازهای خانگی یا کارخانه‌ها و وسایل حمل و نقل مورد استفاده قرار می‌گیرد.
- ۶۹) استان کرمانشاه - استان خوزستان و خلیج فارس - تهران - قم

- ۷۰ جنوب غربی و غرب کشور
- ۷۱ هرمزگان
- ۷۲ خراسان رضوی
- ۷۳ انواع میوه‌ها، محصولات جالیزی، سبزیجات، گیاهان زینتی
- ۷۴ کشت گندم در همه استان‌های کشور ایران رایج است.
- ۷۵ همه‌ی استان‌های
- ۷۶ زراعت
- ۷۷ خرما ← گرمسیری سیب‌زمینی ← سردسیری برنج ← آب و هوای معتدل و مرطوب
- ۷۸ خشک و نیمه خشک
- ۷۹ کم باران
- ۸۰ خوب فکر
- ۸۱

- ۸۲ عیب‌جویی نکنیم، بلکه با رفتار محبت‌آمیز و در خلوت به او تذکر دهیم.
- ۸۳ خیرخواه
- ۸۴

دفاع مقدس ۱- ۸ سال طول کشید،

۲- سوم خردادماه ۱۳۶۱

۳- عملیات والفجر ۳ در تیر ماه سال ۱۳۶۲ صورت گرفت و شهر مهران در این عملیات آزاد شد.

۸۵

۸۶ -۱



- * به تولید کالاها به مقدار زیاد و به صورت یک شکل و همسان گفته می‌شود. ⇒ تولید انبوه
- * به همکاری افراد مختلف برای تولید یک کالا گفته می‌شود. به طوری که هر کدام از آن‌ها مهارت تولید یک بخش از کالا را دارند. ⇒ خط تولید
- * فروشندگانی که کالاها را به تعداد زیاد و یکجا به مغازه‌داران دیگر می‌فروشند. ⇒ عمده فروش

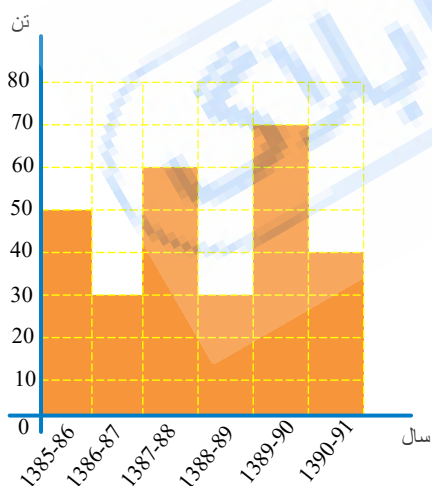
۸۷

| | |
|--|---|
|  |  |
| پوشش زنان مازندران در رنگهای زیبا جذاب است. تمام پوشاک زنان و پوشاک مردان و زنان کرد شامل، تن‌پوش و سرپوش و سرافراز مردان مختص و مرتبط کارشان است. | پوشش زنان مازندران در رنگهای زیبا جذاب است. تمام پوشاک زنان و پوشاک مردان و زنان کرد شامل، تن‌پوش و سرپوش و سرافراز است. لباس آن‌ها بسته به معیشت، نوع کار و مراسم‌ها با هم متفاوت است. |
|  |  |
| این نوع لباس‌ها به صورت سنتی دوخته می‌شود. در واقع لباس‌های محلی استان فارس یکی از زیباترین جاذبه‌های گردشگری ایران است. | لباس مردم خراسان بسیار بلند است و در نواحی مختلف شهر از این نوع لباس‌ها استفاده می‌شود. |

۸۸ پاسخ:

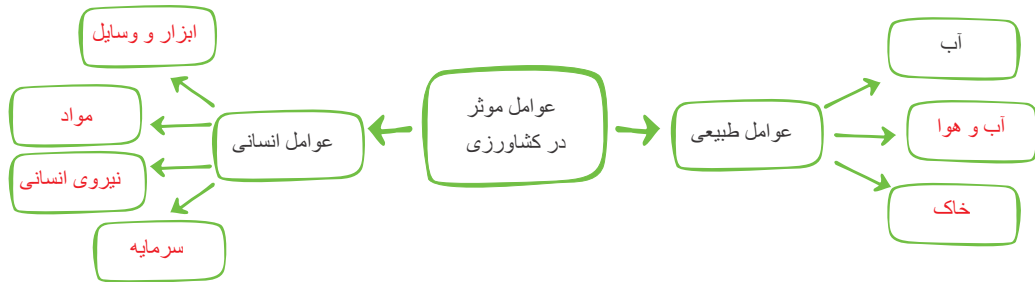
- ۱- تصویر بیست ستون این کاخ در جلوی استخر آن می‌افتد و مجموع ستون‌ها و عکس ستون‌ها ۴۰ ستون می‌شود.
- ۲- کتیبه - عکس‌های پرندگان، آیات قرآن، دعا، نام امامان و گل را می‌کشیدند.
- ۳- پل خاجو، پل سی‌وسه پل، پل وردی‌خان.

۸۹ پاسخ:



۹۰-۱ پاسخ

| انسانی | طبیعی | |
|--------|-------|--|
| | ✓ | ۱- هجوم آفت سن* در مزارع گندم در ناحیه‌ی کرمان خسارات زیادی به محصول کشاورزان وارد نمود ... *سن حشره‌ای است که می‌تواند به محصولات کشاورزی آسیب برساند. |
| ✓ | | ۲- سازمان غله‌ی (گندم و جو و برنج) کشور اعلام کرد که محصول گندم کشاورزان به موقع خریداری می‌شود. |
| ✓ | | ۳- اداره‌ی کشاورزی ورامین از کشاورزان خواست برای تهیه‌ی سم و کود به قیمت تعاونی، به این اداره مراجعه کنند... |
| | ✓ | ۴- بارش ناگهانی تگرگ در اردبیل به شکوفه‌های درختان میوه آسیب جدی وارد نموده است... |
| | ✓ | ۵- رئیس اداره‌ی کشاورزی فیروزآباد به خبرنگار گفت: «وجود آب و آفتاب کافی در این ناحیه امکان دو بار برداشت محصول در سال را به ما می‌دهد» |



۹۱) موقعیت ۱- درست، حسن بهتر است وقت خود را نصف کند و نصفش را به پوریا کمک کند و نصفش را درس بخواند.

موقعیت ۲- نادرست، حد و مرز دوستی را باید رعایت کند تا مشکلاتی به خانواده وارد نشود. از دوستی‌های افراطی پرهیز کنیم.

موقعیت ۳- درست، ما باید در یک جای خلوت به دوستان محترمانه تذکر بدهیم و لایلا باید بپذیرد.

۹۲) الف) ایران از لحاظ موقعیت جغرافیایی، معادن و منابع مورد توجه کشورهای استعمارگر بود.

ب) کشورهای روسیه، انگلیس و آمریکا در امور ایران دخالت می‌کردند.

ج) این امتیازات و دخالت‌ها موجب غارت منابع و معادن ایران و جلوگیری از پیشرفت و سازندگی در کشور شد.

د) شاهان قاجار و پهلوی به مردم اعتماد و اتکا نداشتند و برای حفظ قدرت و منافع خود به استعمارگران اجازه‌ی دخالت می‌دادند.

۹۳) دریانوردان توانستند طی سالها با کشتی‌های متعدد قاره‌ی آمریکا را دور بزنند، به شرق آسیا بروند و بعد قاره‌ی آمریکا را کشف کنند. کشورهای پرتغال، اسپانیا، فرانسه، انگلیس و هلند

به دریانوردی و کشف سرزمین‌های جدید مشغول بودند.

۹۴) زیرا سالروز اخراج پرتغالی‌ها از خلیج فارس و تنگه‌ی هرمز است و نظامیان توانستند اشغالگران را از ایران بیرون کنند.

۹۵) الف) نیمه‌ی دوم قرن چهارم - نیمه‌ی اول قرن پنجم

ب) نیمه‌ی اول قرن چهارم - نیمه‌ی دوم قرن سوم

ج) نیمه‌ی اول قرن ششم - نیمه‌ی اول قرن پنجم

۹۶) آسیا: ایران - افغانستان - پاکستان - عراق

آفریقا: مصر - لیبی - الجزایر

اروپا: اسپانیا - ترکیه

۹۷) الف) اگر نفت تمام شود نمی‌توانیم آسوده و آرام زندگی کنیم و در حمل‌ونقل، پخت‌وپز، کارخانه‌ها و ... اختلال ایجاد می‌شود و حتی باعث قطع برق می‌شود زیرا بیشتر برق مصرفی کشور

ما برق حرارتی است.

ب) زیرا سرمایه‌ی ملی و ثروت ملی یک کشور است و بزرگترین صادرات کشور است چون درآمد زیادی از این طریق به دست می‌آید.

ج) چون نفت نوعی انرژی است که روزی تمام می‌شود و غیرقابل تجدید است و کشور ما باید از هم اکنون فکری برای صادرات کالاهای دیگر بکند که به مشکل نخورد.

د) خیر، چون همان گونه که ما اکنون به این نفت و گاز نیاز داریم آیندگان هم نیاز دارند.

۹۸) برق آبی، زیرا برق حرارتی از سوختن سوخت‌های فسیلی به دست می‌آید و باعث آلودگی محیط زیست می‌شود اما برق آبی آلودگی ندارد.

۹۹) غلات : گندم، برنج

حبوبات : عدس، نخود

محصولات جالیزی : خیار، گوجه

۱۰۰) (۱) تصمیم‌گیری مثبت - چون خوش اخلاقی و بدگویی نکردن جزء اخلاق‌های خوب و مثبت است و روی اخلاق خودش نیز تاثیر مثبت می‌گذارد و باعث می‌شود همه او را دوست داشته

باشند.

(۲) تصمیم‌گیری منفی - چون ترفه بازی کار خطرناکی است و ممکن است به خودش یا دیگران آسیب بزند و باعث آزار و اذیت همایسگان شود. این تصمیم فرهاد بر سلامت خودش و دیگران

تاثیر می‌گذارد.

(۳) تصمیم‌گیری مثبت - چون به فکر موفق شدن است و تلاش می‌کند تا نقاط ضعف درسی خود را از بین ببرد. این کار باعث می‌شود در پایان ترم نمرات خیلی خوبی بگیرد. پیشرفت زهرا در

درس‌ها باعث تشویق شدن دانش‌آموزان دیگر هم برای تلاش در جهت موفق شدن در درس‌ها می‌شود و این یک تاثیر مثبت است و بر وضع تحصیل و آینده‌اش تاثیر می‌گذارد.

(۴) تصمیم‌گیری مثبت - چون نوشابه یا خوراکی‌های زیان‌آور برای سلامتی مضر است و با حذف کردن آن‌ها به حفظ سلامتی خود کمک می‌کند و در نتیجه بیمار نمی‌شود و سالم و تندرست می‌ماند.

این تصمیم بر سلامتی امید اثر می‌گذارد.

(۵) تصمیم‌گیری منفی - چون با این تصمیم درس خواندن که کار مهم‌تری است را کنار گذاشت و به کار کم اهمیت‌تری می‌پردازد و در نتیجه در امتحان نمره‌اش کم می‌شود و باعث ناراحتی خود

و خانواده‌اش می‌شود و بر وضع تحصیل و آینده‌ی او تاثیر می‌گذارد.

(۶) تصمیم‌گیری مثبت - چون داشتن نظم و انضباط یک صفت پسندیده است. نتیجه‌ی منظم بودن بهروز این است که همیشه با نشاط و سرحال خواهد بود و وسایلش را گم نمی‌کند چون هر

چیزی سر جایش قرار می‌گیرد. این تصمیم باعث رضایت مادرش می‌شود.

۱۰۱) مقداری از پول خود را به او قرض می‌دهیم و به او کمک می‌کنیم تا خریدش را انجام دهد.

۱۰۲) با دوستان آشتی می‌کنیم و کتاب را از او می‌گیریم. این کار هم تصمیم درستی است و هم کینه‌ها را از بین می‌برد هم با دوستان آشتی می‌کنیم و هم به کار تحقیقمان می‌رسیم.

۱۰۳) تو اول بگو با چه کسانی همنشینی تا بعد از آن من به تو بگویم که تو چه کسی هستی و چه اخلاق و رفتاری داری.

همنشین تو باید از تو بهتر باشد تا به تو بیشتر بیاموزد و دین و آگاهی تو را بیشتر کند.

۱۰۴ شهید محمد جهان آرا

۱۰۵ (۱) قطع شدن منافع کشورهای استعمارگر در ایران با پیروزی انقلاب اسلامی ایران چون مردم سرنوشت خود را به دست گرفتند.

(۲) حمایت ایران از مظلومان جهان مانند مردم فلسطین که خوشایند دشمنان نبود.

(۳) آمادگی کافی نداشتن سپاه و ارتش برای دفاع از کشور

۱۰۶ اروپاییان با استفاده از نقشه‌های جغرافیایی مسلمانان و قطب‌نما و شیوه‌های کشتی‌سازی آن‌ها، در دریانوردی مهارت پیدا کردند.

۱۰۷ استعمارگران به بهانه‌ی آباد کردن در کشورهای دیگر دخالت و نفوذ می‌کردند و منابع آن کشور را غارت می‌کردند (هدف اصلی).

۱۰۸ ۱- علوم و فنون از جهان اسلام به اروپا انتقال یافت.

۲- تجارت و بازرگانی در اروپا رونق یافت.

۳- اروپاییان در علم و هنر پیشرفت کردند.

۴- با اکتشافات جغرافیایی، استعمارگری را آغاز کردند.

۱۰۹ بیت‌المقدس

۱۱۰ اروپاییان از طریق دریای مدیترانه و شمال آفریقا محصولاتی نظیر شکر، قهوه، کاغذ، قطب‌نما، داروی گیاهی و ادویه را از مسلمانان خریداری می‌کردند.

۱۱۱ شکوفایی علم و فرهنگ

۱۱۲ تجارت

۱۱۳ افغانستان و پاکستان

۱۱۴ مسیحیت - کوتاه‌ترین مرز ایران با کشور ارمنستان است و رود ارس میان مرز این دو کشور قرار دارد.

۱۱۵ میله - تیرک

۱۱۶ بالای مرز زمینی

۱۱۷ عراق

۱۱۸ ۱۰ اردیبهشت

۱۱۹ نفت‌کش‌ها

۱۲۰ گاز

۱۲۱ کم‌تر

۱۲۲ لباسی که می‌خریم باید با باورهای دینی ما تناسب داشته باشد یعنی پوشش مناسب را برای زن یا مرد مسلمان فراهم کند و همچنین باید کیفیت خوب و قیمت مناسب داشته باشد. یعنی با بودجه ما تناسب داشته باشد. (بودجه یعنی درآمد و هزینه)

۱۲۳ ۱- یک کارگاه تولیدی برای دوختن لباس به پارچه نیاز دارد. پارچه از نخ درست می‌شود. در کارخانه‌های نخ‌ریسی نخ تولید می‌شود این نخ ممکن است طبیعی یا مصنوعی باشد.

۲- سپس نخ را به کارخانه‌ی پارچه‌بافی (نساجی) می‌فرستند و در آنجا پارچه تولید می‌شود. پارچه‌ها را به کارگاه‌های تولید لباس می‌فرستند.

۳- در این کارگاه‌ها «برش‌کار» از روی الگو پارچه‌ها را می‌برد. الگوها در اندازه‌های مختلف برای آدم‌هایی با قد و وزن مختلف تهیه می‌شوند.

۴- سپس هر یک از خیاط‌ها بخشی از لباس را می‌دوزد برای مثال یک نفر فقط آستین، نفر دیگر دکمه‌ها و ...

۵- در پایان یک نفر درزها و جای دوخت‌ها را اتو می‌کند.

۶- صاحب کارگاه لباس‌ها را برای فروش به فروشگاه‌ها و مغازه‌ها می‌فرستد.

۱۲۴ در برنامه‌ی متعادل برای استراحت کردن، درس خواندن، تفریح و سرگرمی زمان به اندازه‌ی کافی وجود دارد و هر کاری در موقع مناسب انجام می‌شود.

در برنامه‌ی متعادل به یک فعالیت کمتر یا بیشتر از حد لازم توجه نمی‌شود.

در برنامه‌ی متعادل وقت کافی برای عبادت و برقراری ارتباط با خداوند وجود دارد.

۱۲۵ ما در آب و هواهای متفاوت لباس‌های مختلفی می‌پوشیم. برای مثال در زمستان (که هوا سرد است) بیشتر از لباس‌هایی با رنگ تیره و در تابستان (که هوا گرم است) بیشتر از لباس‌هایی با رنگ روشن استفاده می‌کنیم.

۱۲۶ مکان‌های عمومی متعلق به همه‌ی مردم است و ما وظیفه داریم از وسایل و امکانات آن محافظت کنیم.

۱۲۷ طبیعی - مصنوعی

۱۲۸ هزینه

۱۲۹ لباس‌های محلی

۱۳۰ برقراری ارتباط با خدا

۱۳۱ متفاوت

۱۳۲ فروشگاه‌ها

۱۳۳ تفریح

۱۳۴ (۱) در مصرف آب صرفه‌جویی می‌شود.

(۲) می‌توان هر محصولی را در هر منطقه‌ای و در همه‌ی فصول کاشت.

(۳) انواع محصولات جالیزی، سبزیجات، قارچ‌های خوراکی و یا گل‌های زینتی را پرورش می‌دهند.

۱۳۵) در کشت گلخانه‌ای تنظیم آب و هوا و گرما و نور و رطوبت با دستگاه‌های مختلف و متناسب با نوع محصول صورت می‌گیرد و به همین علت می‌توان هر محصولی را در هر منطقه‌ای و در همه‌ی فصول کاشت.

۱۳۶) در ایران به دلیل برخورداری از آب و هوای متنوع می‌توان انواع محصولات را کاشت و به دلیل آفتابی بودن آب و هوا میوه‌ها و سبزیجات بسیار خوشمزه‌تر و خوش‌طعم‌تر هستند.

۱۳۷) الف) خراسان رضوی ب) کرمانشاه ج) برق حرارتی د) آب جاری

۱۳۸) نیروی کار - ابزار و وسایل - سرمایه - مواد

سرمایه پولی است که برای خرید ابزار و مواد نیاز داریم. اگر سرمایه‌مان کم باشد می‌توانیم وام بگیریم یا با دیگران شریک شویم.

۱۳۹) کشور ما آفتاب خوبی دارد به همین دلیل می‌توان برای گرم کردن هوا یا آب استفاده کرد و انرژی الکتریکی به دست آورد، این منابع محیط زیست را آلوده نمی‌کنند. نیروگاه خورشیدی در شیراز و آبگرمکن‌های خورشیدی برای حمام در روستای یزد نمونه‌هایی از استفاده از انرژی خورشیدی در ایران است.

۱۴۰) ۱- زمانی که بخاری روشن است درها و پنجره‌ها را باز نگذاریم.

۲- در هوای سرد به جای افزایش درجه‌ی بخاری لباس گرم بپوشیم.

۱۴۱) انرژی هسته‌ای از شکافتن هسته‌ی اتم‌های بعضی عناصر مانند اورانیوم پدید می‌آید - نیروگاه اتمی در بوشهر ساخته شده است.

۱۴۲) زیرا معادن اورانیوم روزی تمام می‌شوند.

۱۴۳) به زغال سنگ، نفت و گاز و مشتقات آن‌ها نظیر گازوئیل و بنزین و سوخت‌های فسیلی می‌گویند که حدود ۸۶٪ انرژی مورد نیاز مردم جهان را تامین می‌کنند.

۱۴۴) الف) نیمه‌ی دوم قرن ۷ هجری قمری

ب) نیمه‌ی اول قرن ۲۱ میلادی

ج) نیمه‌ی دوم قرن ۱۴ هجری شمسی

۱۴۵) الف) اسماعیل جزری ب) زکریای رازی ج) خواجه نظام‌الملک د) ابوریحان بیرونی

۱۴۶) ترجمه - تجارت و بازرگانی - آموزه‌های دین اسلام - نیازهای جدید جوامع و حمایت فرمانروایان از دانشمندان و کاغذسازی .

۱۴۷) مسلمانان چرخ آب یا چرخ آب‌کشی را اختراع کرده بودند. چرخاب در مسیر رودخانه‌ها نصب می‌شد و از آن برای آبیاری و آب‌کشی استفاده می‌شد.

۱۴۸) سال ۹۹۶ هجری ← آغاز حکومت شاه‌عباس اول

سال ۱۰۰۶ هجری ← انتخاب اصفهان به پایتختی

سال ۱۰۱۱ هجری ← آغاز ساخت مسجد شیخ لطف‌الله

ساسال ۱۰۲۸ هجری ← طراحی میدان نقش جهان

سال ۱۱۳۵ هجری ← سقوط سلسله‌ی صفویه

۱۴۹) چهارمحل و بختیاری - یزد

۱۵۰) الف) شاه‌اسماعیل

ب) ۵۰۰ متر

ج) در شمال میدان، بازار قیصریه، در جنوب میدان، مسجد امام، در شرق میدان، مسجد شیخ لطف‌الله، در غرب میدان، کاخ عالی‌قاپو قرار دارد.

۱۵۱) پیک

۱۵۲) عضالدوله دیلمی - بغداد

۱۵۳) الکل

۱۵۴) اسطرلاب

۱۵۵) الف) قرن ۱۰ ب) شاه‌اسماعیل ج) مذهب شیعه د) شاه‌عباس

پاسخ:

الف) سلسله‌ی صفویه در اوایل قرن دهم هجری تاسیس شد.

ب) شاه اسماعیل صفوی در شرایط آشفته‌ی ایران سلسه صفوی را تاسیس کرد.

ج) صفویان مذهب شیعه را مذهب رسمی کشور اعلام کرد.

د) شاه عباس اصفهان را به پایتختی اعلام کرد.

۱۵۶) اسپانیا

۱۵۷) خانگیران سرخس

۱۵۸) کاروان‌سراها محل استراحت و تأمین آذوقه‌ی مسافران و چهارپایان بودند.

۱۵۹) زاینده‌رود

۱۶۰) صفویه

۱۶۱) دوستی حامد و محمد دوستی افراطی است و آن‌ها بیش از حد به هم وابسته شده‌اند. من به حامد می‌گویم که سعی کند دوستان جدیدی پیدا کرده و با آن‌ها بازی کند.

۱۶۲) زهرا باید محترمانه و مخفیانه به نیلوفر بگوید، «همان‌طور که ما دوست نداریم کسی پشت سر ما بدگویی کند، ما نیز نباید این کار را بکنیم».

۱۶۳) گاهی ممکن است دو دوست بیش از حد به هم وابسته شوند به گونه‌ای که اگر یک روز همدیگر را نبینند ناراحت شوند، این دوستی افراطی است.

۱۶۴) در مسائل و مشکلات با همدیگر احساس همدردی و خیرخواهی داشته باشیم و به هم کمک کنیم.

۱۶۵ حفظ دوستی یعنی ما با دوستانمان چه رفتارهایی داشته باشیم تا دوستی ما به هم نخورد و محکم شود.

۱۶۶ پیامبر(ص)، بدترین افراد کسانی هستند که میان مردم سخن چینی می‌کنند و بین دوستان جدایی می‌اندازند.

۱۶۷ امام علی(ع) فرمودند: کسی را برای دوستی انتخاب کن که تو را از بدی‌ها و کارهای نامناسب باز دارد.

زیرا چنین دوستانی به تو یاری می‌رسانند و سبب پیشرفت تو می‌شوند.

۱۶۸ ۱- صحبت کردن با او و همنشینی

۲- هم فکری کردن درباره‌ی موضوعات مختلف

۳- در میان گذاشتن ناراحتی‌ها و شادی‌ها با او

۴- احساس سبکی و آرامش پس از صحبت کردن با دوست عاقل و صبور

۵- یاری گرفتن از دوست در مشکلات

۶- چیزهای جدید از دوست خود یاد گرفته و به آگاهی‌های خود می‌افزاییم.

۱۶۹ عقل / دین

۱۷۰ معلم، مشاور، پدر و مادر و ...

۱۷۱ خوب فکر کنیم. اولین کاری که هنگام تصمیم‌گیری باید انجام دهیم این است که درباره‌ی موضوع خوب فکر کرده و درباره‌ی آن اطلاعات جمع‌آوری کنیم.

۱۷۲ زیرا هر تصمیمی آثار و نتایجی دارد که ممکن است خوب یا بد باشد. تصمیمات مهم در اخلاق، رفتار، سلامتی، وضع تحصیل و آینده‌ی ما تأثیر دارند.

۱۷۳ تصمیم‌گیری انتخاب بین دو یا چند چیز است.

۱۷۴ نمی‌توانیم

۱۷۵ بدان

۱۷۶

الف نادرست. دعوا کردن

ب درست

پ درست

ت نادرست

ث درست

۱۷۷

الف نادرست- بعد از تهران، مشهد پر جمعیت‌ترین شهر ایران است.

ب درست

پ درست

ت نادرست- تبریز، قزوین و اصفهان پایتخت‌های ایران در دوره‌ی صفویه بودند.

ث نادرست- در دوره‌ی اسلامی شهر اصفهان چندین بار در زمان‌های مختلف به عنوان پایتخت انتخاب شده است، اما اوج شکوفایی اصفهان مربوط به دوره‌ی صفویه است.

۱۷۸

الف درست

ب درست

پ نادرست- شاه عباس اول اصفهان را به پایتختی انتخاب کرد.

ت نادرست- همزمان با ساخت مسجد امام (مسجد جامع عباسی) معدن سنگ مرمر در اطراف اصفهان کشف شد.

ث نادرست- در دوره‌ی صفویه، کشاورزان، بازرگانان و صنعتگران و همه مجبور بودند بخشی از درآمد خود را به مهوران حکومت بدهند.

۱۷۹

الف نادرست- دین اسلام از سرزمین عربستان طلوع کرد.

ب درست

پ درست

ت درست

ث نادرست- دانشگاه جندی شاپور در زمان ساسانیان تاسیس شد.

۱۸۰

الف درست

ب درست

پ درست

ت نادرست- هر چه میزان مصرف برق بالاتر باشد کارایی وسیله کمتر خواهد بود.

۱۸۱

الف نادرست. دوست خوب مایه‌ی آرامش انسان است.

ب نادرست. همه‌ی دوستان باعث موفقیت انسان نمی‌شوند و با هر کسی نمی‌توان رفاقت و دوستی کرد. دوست خوب و شایسته باعث موفقیت انسان می‌شود.

پ درست

ت درست

ث درست

ج درست

۱۸۲

الف نادرست. بعد از غلات، حبوبات و محصولات جالیزی مهم‌ترین منبع غذایی هستند.

ب نادرست. برنج گیاهی یک ساله است که در نواحی مرطوب و نسبتاً معتدل کشت می‌شود.

پ نادرست. بیش از نیمی از محصول برنج در استان‌های شمالی تولید می‌شود.

ت درست

ث درست

ج درست

چ درست

۱۸۳

الف نادرست - نفت و گاز از کف خلیج فارس در ناحیه‌ی کم عمق نزدیک به ساحل استخراج می‌شود.

ب نادرست، میگو یکی از آبزیان مهم دریاهای جنوب است.

پ نادرست، با نزدیک شدن به ماه مهر، ماهیگیران جنوب خود را برای صید میگو آماده می‌کنند.

ت درست

ث درست

ج درست

۱۸۴ سید حسن مدرس - میرزا کوچک‌خان جنگلی - شیخ محمد خیابانی - رئیس‌علی دلواری - آیت‌الله کاشانی و محمد مصدق.

۱۸۵ به رئیس‌علی دلواری و هوادارانش که در بوشهر قهرمانان با انگلیسی‌ها جنگیدند، دلبران تنگستان می‌گفتند.

۱۸۶ ۱) حمله‌ی نظامی و اشغال آن سرزمین‌ها؛

۲) گرفتن امتیاز و ایجاد روابط با آن کشورها، به طوری که به نفع خودشان باشد.

۱۸۷ بله؛ همه‌ساله عده‌ی زیادی برای تفریح و گذراندن تعطیلات تابستان به سواحل شمال ایران سفر می‌کنند. در فصل زمستان نیز مردم به سواحل دریای جنوب ایران و جزایر کیش و قشم

و بندرعباس و چابهار می‌روند و از دریا و بناهای تاریخی و بازارهای این نواحی دیدن می‌کنند.

۱۸۸ در زمستان بیشتر لباس‌های تیره‌رنگ و ضخیم می‌پوشیم چون رنگ‌های تیره نور خورشید را جذب می‌کنند و باعث گرم شدن ما می‌شوند ولی در تابستان از لباس‌های رنگ روشن و

نازک استفاده می‌کنیم چون لباس‌های رنگ روشن نور خورشید را جذب نمی‌کنند و باعث خنک شدن ما می‌شوند.

۱۸۹ عادت کنیم در خانه یا مدرسه، لامپ‌های اضافی را خاموش کنیم؛ در یخچال را زیاد باز و بسته نکنیم؛ از لامپ‌های کم‌مصرف استفاده کنیم.

۱۹۰ نفت کوره، گاز و گازوئیل

۱۹۱ ۱) گندم و برنج

۲) غلات

۱۹۲ در بعضی موقعیت‌ها ما با راه‌های مختلف و متعددی روبه‌رو می‌شویم که انتخاب یکی از آن‌ها مشکل است.

۱۹۳ کاری نکنیم که دوستانمان به خاطر خواسته‌های ما به دردسر و زحمت بیفتند. در مسائل و مشکلات با یکدیگر احساس همدردی و خیرخواهی داشته باشیم و به هم کمک کنیم.

۱۹۴ گزینه‌ی ۴؛ اگر در روابط با دوستان یا حتی بزرگترها موقعیتی باشد که از ما درخواست نابه‌جایی داشته باشند باید محکم و قاطعانه محترمانه «نه» بگوئیم.

۱۹۵ به دلیل وجود منابع سرشار نفت و گاز در خلیج فارس

۱۹۶ ۱. دریای عمان ۲. تنگه‌ی هرمز

۳. کشور امارات ۴. جزیره‌ی قشم

۵. بندر بوشهر

۱۹۷ * زمانی که بخاری روشن است، درها و پنجره‌ها را باز نگذاریم.

* شومینه سوخت زیادی مصرف می‌کند و موجب آلودگی هوای خانه می‌شود، بهتر است از آن استفاده نکنیم.

* زمانی که هوا سرد است، لباس‌های گرم‌تر بپوشیم و درجه‌ی بخاری را کم کنیم.

- ۱۹۸ در سفرهایی که بازرگانان از طریق راه‌های خشکی و دریایی برای تجارت آمد و رفت می‌کردند، این علوم و فنون از جایی به جای دیگر منتقل می‌شدند.
- ۱۹۹ الف. خاک ب. آب پ. نیروی کار ت. مواد ث. ابزار و وسایل
- ۲۰۰ به سرزمین‌هایی که استقلال سیاسی و اقتصادی خود را از دست بدهند و تابع حکومت استعمار شوند، «مستعمره» می‌گویند.
- ۲۰۱ در دوره‌ی حکومت‌های قاجاریه و پهلوی بیشترین دخالت و نفوذ بیگانگان در کشور ما بوده است.
- ۲۰۲ گوتنبرگ - گالیله
- ۲۰۳ مسیحی
- ۲۰۴ جزایر: کیش - لاوان - ابوموسی - خارک
- کشورهای همسایه‌ی خزری: ترکمنستان - قزاقستان - آذربایجان - روسیه
- کشورهای همسایه‌ی خلیج فارس: کویت - عربستان - امارات - بحرین
- ۲۰۵ گزینه‌ی «ت» لباسی که انتخاب می‌کنیم باید مناسب با باورهای دینی ما باشد و کیفیت و قیمت مناسب داشته باشد.
- ۲۰۶ زیبا / متنوع / رنگارنگ
- ۲۰۷ رایانه‌ای
- ۲۰۸ ورزش، تفریح، سرگرمی و ارتباط با خانواده و دوستان
- ۲۰۹ زیرا باعث می‌شود دوباره برای فعالیت‌های دیگر انرژی و نشاط پیدا کنیم.
- ۲۱۰ گزینه (ب) زمان یک فرصت گرانبها است.
- ۲۱۱ شاه عباس اول
- ۲۱۲ الف) نوشته‌هایی که بر روی سنگ، کاشی و مانند آن است کتیبه نام دارد.
ب) نام دیگر نقاشی‌های مینیاتوری خرده نگار نام دارد.
پ) ساخت مسجد شیخ لطف الله حدود ۱۸ سال به طول انجامید.
ت) از مناره برای خبررسانی و گفتن اذان استفاده شده است.
- ۲۱۳ ۱. تعالیم دین و دعوت به تفکر و کسب علم ۲. حمایت فرمانروایان از دانشمندان و هنرمندان ۳. ترجمه‌ی علوم و فنون سرزمین‌های دیگر و استفاده از آن‌ها ۴. پیشرفت مسلمانان در کاغذسازی و چاپ صدها جلد کتاب و رونق کتابفروشی و ایجاد کتابخانه‌ها
- ۲۱۴ به هر صد سال یک قرن یا سده می‌گویند.
- ۲۱۵ انرژی تولیدشده توسط انرژی هسته‌ای بسیار زیادتر از سایر انرژی‌ها است. مثلاً یک کیلوگرم اورانیوم معادل ۱۲۰۰۰ بشکه نفت انرژی تولید می‌کند.
- ۲۱۶ گزینه «الف»
- ۲۱۷ این نفت از طریق خط لوله به پالایشگاه می‌رود، سپس بیشتر آن تصفیه می‌شود و فرآورده‌های گوناگون از آن به‌دست می‌آید که بخشی از این فرآورده‌ها مانند بنزین، گاز و ... از طریق خط لوله به نقاط مختلف منتقل می‌گردد.
- ۲۱۸ غلات
- ۲۱۹ گزینه (ت) خاک‌های نمکی یا آهکی و زمین‌های پرشیب و سنگلاخ برای کشاورزی مناسب نیستند.
- ۲۲۰ ۱. تصمیم‌گیری منفی: چون باعث می‌شود برادرش عادت کند دیگران کارهایش را انجام دهند.
۲. تصمیم‌گیری مثبت: چون خوش‌اخلاقی و بدگویي نکردن از صفات پسندیده است و روی اخلاق دیگران هم تأثیر می‌گذارد.
۳. تصمیم‌گیری منفی: انجام کار به‌صورت گروهی باعث بهتر انجام شدن کار می‌شود و گاهی کارها به‌صورت تنهایی خوب پیش نمی‌رود.
- ۲۲۱ عقل
- ۲۲۲ الف
- درست
- ب
- درست
- ۲۲۳ الف
- درست
- ب
- درست
- ۲۲۴ الف
- درست
- ب
- نادرست - انرژی هسته‌ای قابل تجدید نیست، چون روزی معادن آن تمام می‌شود.
- پ
- درست
- ۲۲۵ الف
- درست