



۱ - «شجره‌نامه»، چه چیزی را نشان می‌دهد؟

- ① نامه‌هایی که اعضای خانواده به هم می‌نویسند.  
 ② نسبت افراد یک خانواده با هم  
 ③ درخت‌هایی که اعضای یک خانواده کاشته‌اند.  
 ④ افرادی که در یک خانواده فوت شده‌اند.

۲ - با توجه به آنچه خداوند در قرآن فرموده، جای خالی را پر کنید:

«به پدر و مادر نیکی کنید و چنانچه پیر شدند با نرمی و ..... با آن‌ها سخن بگویید،»

- ① لطافت                      ② مهربانی                      ③ خوش‌رویی                      ④ محبت

۳ - جمله‌های زیر را بخوانید و جمله‌ی غلط را علامت بزنید.

- ① قد و هیکل افراد با یکدیگر تفاوت دارد.  
 ② ما همه مثل هم هستیم و فرقی نداریم.  
 ③ هیچ‌وقت دو نفر کاملاً به هم شبیه نیستند.  
 ④ استعداد و توانایی‌های انسان‌ها با هم فرق دارد.

با توجه به جدول روبه‌رو به سؤالات پاسخ دهید.

| کارهای خانه | غذا پختن | خرید مواد غذایی | خرید نان | گردگیری | شستن ظرف‌ها خشک کردن ظرف‌ها | بیرون گذاشتن زباله‌ها | مرتب کردن رختخواب | آب دادن به گل‌ها | جارو کردن خانه تمیز کردن حیاط |
|-------------|----------|-----------------|----------|---------|-----------------------------|-----------------------|-------------------|------------------|-------------------------------|
| مادر        | ×        |                 |          |         | ×                           |                       | ×                 |                  |                               |
| پدر         |          | ×               |          |         |                             | ×                     |                   |                  |                               |
| سینا        |          |                 | ×        |         |                             |                       | ×                 | ×                | ×                             |
| مریم        |          |                 |          | ×       |                             |                       | ×                 |                  |                               |
| مونا        |          |                 |          |         | ×                           |                       | ×                 |                  |                               |

۴ - کدام گزینه غلط است؟

- ① جارو زدن خانه با سینا است.  
 ② مادر ظرف‌ها را می‌شوید.  
 ③ گردگیری با مونا است.  
 ④ پدر خرید می‌کند.

۵ - شباهت سینا و مریم در کدام کار است؟

- ① خرید نان                      ② مرتب کردن رختخواب  
 ③ آب دادن به گل‌ها                      ④ تمیز کردن حیاط

۶ - کدام گزینه را پدر خانواده انجام می‌دهد؟

- ① خرید مواد غذایی                      ② جارو کردن خانه  
 ③ آب دادن به گل‌ها                      ④ خشک کردن ظرف‌ها

۷ - کدام مورد زیر، نشان‌دهنده‌ی نسبت افراد یک خانواده است؟

- ① شجره‌نامه                      ② اندازه‌ی خانواده  
 ③ اعضای خانواده                      ④ تغییر خانواده

۸ - به تغییراتی که در موجودات زنده به وجود می‌آید، چه می‌گویند؟

- ① نیاز داشتن                      ② تغییر بدن  
 ③ توانا شدن                      ④ رشد کردن



۹- کدام یک از موارد زیر نشان‌دهنده‌ی هویت ایرانی شماست؟

- ① دفترچه‌ی بیمه      ② شناسنامه      ③ کارت بهداشت      ④ پرونده‌ی پزشکی

۱۰- در مورد مقررات خانه کدام گزینه نادرست است؟

- ① با کفش داخل اتاق راه رفتن      ② به بزرگ‌ترها احترام گذاشتن      ③ رعایت نظافت خانه      ④ رعایت نظم و سکوت

۱۱- پدر خانواده از سر کار بازگشته و می‌خواهد استراحت کند. کدام گزینه از مقررات مربوط به این موقعیت در خانه است؟

- ① توپ بازی کردن      ② به موقع خوابیدن      ③ کار کردن      ④ کم کردن صدای تلویزیون

۱۲- سهیل با پدر و مادرش زندگی می‌کند. کدام یک از کارهایی که سهیل امروز انجام داده جزو مقررات خانه‌ی آن‌ها است؟

- ① صبح لباس پوشید و به مدرسه رفت.      ② از مدرسه آمد و کیف و لباس‌هایش را در سر جای خود گذاشت.  
③ یک سیب پوست کند و خورد.      ④ کتاب مورد علاقه‌اش را خواند.

۱۳- کدام گزینه از مقررات خانه نیست؟

- ① در آوردن کفش‌ها بیرون از اتاق      ② خوابیدن به موقع      ③ عبور از روی خط عابر پیاده      ④ توپ بازی نکردن داخل اتاق

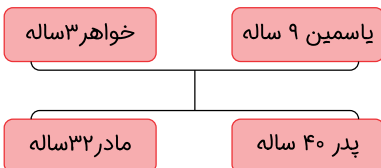
۱۴- «مقررات» چه چیزی را به ما می‌گویند؟

- ① چه کارهایی را باید انجام بدهیم یا ندهیم.      ② چه محدودیت‌هایی در خانه داریم.  
③ چه هزینه‌هایی در زندگی داریم.      ④ چه زمان‌هایی چه کارهایی را انجام بدهیم.

۱۵- به خانواده‌ی یاسمین نگاه کنید و بگویید کدام گزینه تقسیم کار غلط در خانه را نشان می‌دهد؟

- ① پدر باید هر شب زباله‌ها را بیرون بگذارد.  
② یاسمین باید رختخوابش را مرتب کند.  
③ خواهر باید خانه را گردگیری کند.  
④ مادر باید غذا درست کند.

۱۶- کدام تصویر همکاری را نشان نمی‌دهد؟



②



①



④



③

۱۷- کدام مورد نتیجه‌ی تقسیم کارها در خانه است؟

- ① باعث قهر و دعوای برادرها و خواهرها می‌شود.      ② همه‌ی کارهای خانه را یک نفر انجام نمی‌دهد.  
③ به بچه‌های کوچک‌تر ظلم می‌شود.      ④ همه‌ی کارها به دوش بچه‌ی بزرگ‌تر می‌افتد.



۱۸ - در کدام مورد نمی توان با هم همکاری کرد؟

- ① اردوی تفریحی مدرسه
- ② کارهای خانه



۱۹ - کدام گزینه در شجره نامه نمی آید؟

- ① خواهر
- ② دوست

۲۰ - کدام گزینه نمونه‌ی یک «شجره نامه» است؟

- ③ جواب دادن به سؤالات امتحان
- ④ چیدن سفره‌ی شام

- ③ مادر بزرگ
- ④ پدر



۲۱ - نام دیگر درخت خانوادگی چیست؟

- ① شجره‌ی خانوادگی
- ② شجره‌ی فامیلی

۲۲ - کدام جمله در مورد «بزرگ ترها» نادرست است؟

- ① در قرآن هیچ آیه‌ای مربوط به پدر و مادر نیامده است.
- ③ به پدر و مادر خود نیکی کنیم.

۲۳ - تغییر در خانواده چگونه است؟

- ① تغییر در خانواده همیشه باعث شادی اعضای خانواده است.
- ③ ممکن است بعضی از اعضای خانواده مدتی دور از خانواده زندگی کنند.

۲۴ - وقتی فرزندان خانواده بزرگ می‌شوند و ازدواج می‌کنند، چه اتفاقی می‌افتد؟

- ① پدر و مادر ناراحت می‌شوند.
- ② خانواده کم‌کم از هم می‌پاشد.
- ③ خانواده‌های جدیدی به وجود می‌آید.
- ④ مشکلات خانواده بزرگ می‌شود.



۲۵ - کدام مورد باعث می شود اعضای خانواده بیشتر شود؟

- ۱ ازدواج یکی از فرزندان      ۲ کار کردن بچه ها در شهری دیگر      ۳ پیر شدن پدر و مادر      ۴ تولد یک بچه

۲۶ - کدام گزینه «تغییر در خانواده» به حساب نمی آید؟

- ۱ بزرگ شدن بچه ها      ۲ تولد بچه ی دیگر      ۳ خرید یک کتابخانه ی بزرگ تر      ۴ پیر شدن پدر و مادر

۲۷ - با ازدواج فرزندان و بچه دار شدن آن ها، پدر و مادر صاحب ..... می شوند.

- ۱ یک بچه ی دیگر      ۲ یک خانواده ی بزرگ تر      ۳ نوه      ۴ نتیجه

۲۸ - اعضای خانواده محبت خود را چگونه به یکدیگر نشان می دهند؟

- ۱ به روش های مختلف      ۲ فقط با نوشتن نامه      ۳ هر روز گل خریدن      ۴ با سکوت

۲۹ - کدام گزینه از کارهای پدر و مادر در خانه به حساب نمی آید؟

- ۱ مراقبت از فرزندان      ۲ تلاش برای آسایش فرزندان      ۳ تربیت بچه ها      ۴ مسخره کردن بچه ها



۳۰ - تصویر روبه رو نشان دهنده ی چیست؟

- ۱ خوابیدن و استراحت کردن      ۲ مراقبت از یکدیگر      ۳ یادگیری      ۴ تفریح و سرگرمی

۳۱ - گزینه ی نادرست را انتخاب کنید.

- ۱ اعضای خانواده یکدیگر را دوست دارند.      ۲ فرزندان از پدر و مادر خود مراقبت می کنند.      ۳ پدر و مادر برای تربیت بچه ها تلاش می کنند.      ۴ اعضای خانواده به روش های مختلف محبت خود را نشان می دهند.

۳۲ - کدام گزینه نباید بین اعضای یک خانواده اتفاق بیفتد؟

- ۱ مسخره کردن یکدیگر      ۲ مراقبت از یکدیگر      ۳ تفریح و سرگرمی      ۴ یادگیری و آموزش

۳۳ - کدام گزینه اعضای یک خانواده نیستند؟

- ۱ سعیده، برادرش، مادر، پدر، مادربزرگ      ۲ رضا، خواهر، مادر      ۳ پوریا، دو برادر، مادر و پدر      ۴ یاسین، هم کلاسی اش مهدی

۳۴ - با توجه به تصویر مقابل گزینه ی درست را انتخاب کنید.

- ۱ رضا در یک خانواده ی پرجمعیت زندگی می کند.      ۲ تصویر روبه رو یک خانواده را نشان نمی دهد، چون پدر رضا فوت کرده است.      ۳ رضا همراه خواهر و مادرش یک خانواده دارد.      ۴ رضا خواهر و برادری ندارد.

۳۵ - کدام گزینه اعضای یک خانواده هستند؟

- ۱ بچه های کلاس سوم الف      ۲ کارگران کارخانه ی سیمان      ۳ ایلیا به همراه خواهر و پدر و مادرش      ۴ کیمیا و عروسک هایش

۳۶ - کدام جمله در مورد خانواده صحیح است؟

- ۱ تعداد اعضای همه ی خانواده ها برابر است.      ۲ با ازدواج تعداد اعضای خانواده بیشتر می شود.      ۳ خانواده با ازدواج زن و مرد به وجود می آید.      ۴ تعداد اعضای خانواده هر سال بیشتر می شود.

۳۷ - خانواده چه زمانی به وجود می آید؟

- ۱ با خرید خانه      ۲ با تولد فرزند      ۳ با ازدواج زن و مرد      ۴ بعد از مراسم نامزدی



۳۸- با توجه به جدول زیر شباهت آرش و همایون در چیست؟

| نام    | سن | رنگ چشم | ماه تولّد | نام پدر | علاقه  |
|--------|----|---------|-----------|---------|--------|
| آرش    | ۹  | سبز     | تیر       | علی     | کتاب   |
| همایون | ۱۰ | قهوه‌ای | اردیبهشت  | علی     | موسیقی |

۱ ماه تولّد      ۲ نام پدر      ۳ علاقه      ۴ رنگ چشم

۳۹- استعداد در بازی فوتبال، جزء کدام گزینه است؟

۱ شباهت بچه‌ها      ۲ تفاوت بچه‌ها      ۳ ایرانی بودن بچه‌ها      ۴ علاقه‌مند بودن به ورزش فوتبال

۴۰- بین دانش‌آموزان یک کلاس، کدام مورد جزء شباهت‌های آن‌ها است؟

۱ بعضی راست‌دست و بعضی چپ‌دست هستند.      ۲ بعضی در ریاضی و بعضی در علوم بهتر هستند.

۳ بعضی متولّد تابستان و بعضی متولّد زمستان هستند.      ۴ رنگ چشم همه‌ی بچه‌ها مشکی است.

۴۱- خداوند انسان‌ها را با ..... و ..... آفریده است.

۱ شباهت‌ها - تفاوت‌ها      ۲ توانایی‌ها - استعدادها      ۳ رنگ پوست - رنگ مو      ۴ تفاوت‌ها - تضادها

۴۲- کدام گزینه جزء تفاوت‌های انسان‌ها است؟

۱ نیاز به هوا و غذا      ۲ نیاز به محبت      ۳ رنگ چشم      ۴ داشتن چشم

۴۳- با توجه به «رشد و تغییر» کدام گزینه غلط است؟

۱ از میان موجودات زنده تنها انسان‌ها رشد می‌کنند.      ۲ موجودات زنده کامل‌تر و بزرگ‌تر می‌شوند.

۳ نوع غذا در طول رشد تغییر می‌کند.      ۴ با گذر زمان توانایی‌ها تغییر می‌کنند.

۴۴- کدام مورد شامل تغییراتی که انسان از هنگام تولّد می‌کند نیست؟


۱ کامل شدن دید چشم‌ها      ۲ بلند شدن قد      ۳ بیشتر شدن وزن      ۴ یادگیری زبان انگلیسی

۴۵- به زندگی خود توجه کنید و بگویید کدام گزینه درباره‌ی گذشته‌ی شما است؟

۱ پیدا کردن کار خوب      ۲ ورود به دانشگاه      ۳ چهار دست و پا راه رفتن      ۴ ازدواج

۴۶- روی خط زمان برای کارهای «دیروز» چه زمانی نوشته می‌شود؟

۱ حال      ۲ گذشته      ۳ الان      ۴ آینده



۴۷- امیر دانش‌آموز کلاس سوم دبستان است. کدام گزینه تغییری در آینده‌ی امیر را نشان می‌دهد؟

۱ خواندن کتاب فارسی سوم دبستان      ۲ گرفتن گواهی‌نامه‌ی رانندگی      ۳ گرفتن دفترچه‌ی بیمه      ۴ کمک به مادر در کارهای خانه

۴۸- کدام گزینه جزء تغییر نیازها است؟

۱ راه رفتن      ۲ غذا خوردن      ۳ کتاب خواندن      ۴ حرف زدن

۴۹- کدام گزینه تغییر توانایی‌ها را نشان می‌دهد؟

۱ از زمان تولّد تا کنون وزن شما بیشتر شده است.

۲ از زمان تولّد تا کنون قد شما بلندتر شده است.

۳ از زمان تولّد تا کنون قد شما بلندتر شده است.

۴ از زمان تولّد پاهای شما کوچک بود و اکنون بزرگ‌تر شده است.

۵۰- با توجه به جمله‌ی: «همه‌ی موجودات زنده رشد می‌کنند.» همه‌ی گزینه‌ها درست است به جز .....

۱ همه‌ی موجودات زنده بزرگ‌تر می‌شوند.      ۲ همه‌ی موجودات زنده کامل‌تر می‌شوند.

۳ همه‌ی موجودات زنده به غذا نیاز دارند.      ۴ تغییراتی در همه‌ی موجودات زنده به وجود می‌آید.



۵۱ - هنگام بغل کردن نوزادان باید مواظب کدام عضو بدن آن‌ها باشیم؟

- ① دست‌ها      ② سر      ③ قفسه‌ی سینه      ④ پاها

۵۲ - برای انجام کدام یک از کارهای زیر به شناسنامه نیازی نیست؟

- ① خرید از مغازه      ② گرفتن دفترچه‌ی بهداشتی      ③ ازدواج و کار      ④ ثبت نام در مدرسه

۵۳ - کدام گزینه در مورد شناسنامه، اطلاعات غلط داده است؟

- ① شناسنامه‌ی هر کس نشان می‌دهد او کیست.      ② شناسنامه برای ثبت نام در مدرسه استفاده می‌شود.  
③ هنگام بیماری از شناسنامه استفاده می‌شود.      ④ شناسنامه نشان می‌دهد هر کس از کدام کشور است.

۵۴ - دفترچه‌ی بیمه را از کجا می‌گیرند؟

- ① بیمارستان      ② تأمین اجتماعی      ③ اداره‌ی پلیس      ④ مدرسه

۵۵ - کدام یک از اعضای بدن نوزادان تا مدتی بعد از تولد درست و کامل عمل نمی‌کند؟

- ① گوش      ② بینی      ③ چشم      ④ قلب

۵۶ - کدام گزینه روی نوار دور دست نوزادان در هنگام تولد نوشته نشده است؟

- ① جنسیت      ② نام پدر      ③ وزن      ④ قد

۵۷ - در بیمارستان هنگام تولد برای اینکه نوزادان با هم عوض نشوند، چه کاری انجام می‌دهند؟

- ① نوزاد را سریع به مادرش می‌دهند.      ② نام پدر و مادرش را روی یک نوار می‌نویسند.  
③ هر نوزاد را در یک اتاق جداگانه نگه می‌دارند.      ④ کف پای نوزاد را جوهری می‌کنند و روی کاغذ ثبت می‌کنند.

۵۸ - کدام یک از مشخصات زیر در شناسنامه نمی‌آید؟

- ① محل تولد      ② تاریخ تولد      ③ نشانی خانه      ④ نام مادر



## پاسخنامه تشریحی

- ۱ - گزینه ۳ «شجره نامه» یا درخت خانوادگی نشان می‌دهد که افراد یک خانواده چه نسبتی با هم دارند.
- ۲ - گزینه ۲ با توجه به سوره‌ی اسراء، آیه‌ی ۲۳، «مهربانی» صحیح است.
- ۳ - گزینه ۳ جمله‌ی گزینه‌ی «۳» غلط است، چون ممکن است بعضی از آدم‌ها از نظر قیافه یا خصوصیات خیلی به هم نزدیک باشند، اما نمی‌شود که فرقی نداشته باشند. در واقع، هیچ وقت دو نفر کاملاً به هم شبیه نیستند.
- ۴ - گزینه ۳ در خانه گردگیری را مونا انجام نمی‌دهد، مریم انجام می‌دهد. مونا خشک کردن و شستن ظرف‌ها را انجام می‌دهد.
- ۵ - گزینه ۲ گزینه‌ی «۲» شباهت سینا و مریم است، اما کارهایی که در گزینه‌های دیگر آمده‌اند، همه وظایف سینا هستند.
- ۶ - گزینه ۱ با توجه به جدول تقسیم کار، خرید مواد غذایی را پدر انجام می‌دهد.
- ۷ - گزینه ۱
- ۸ - گزینه ۴ در گزینه‌های «۱»، «۲»، «۳» شامل انواع تغییراتی است که از زمان تولد در انسان به وجود می‌آید. رشد کردن، تغییراتی است که در موجودات زنده به وجود می‌آید.
- ۹ - گزینه ۲ در موارد گفته شده در گزینه‌های «۱»، «۳» و «۴» اشاره‌ی کامل به مشخصات و نسبت یک فرد با اعضای خانواده‌اش نمی‌شود.
- ۱۰ - گزینه ۱ یکی از مقررات مشترک در تمام خانه‌ها در کشور ایران این است که کفش‌ها را بیرون اتاق دریاوریم و با کفش داخل اتاق نباشیم.
- ۱۱ - گزینه ۴ موقعی که یکی از اعضای خانواده در حال خواندن نماز، استراحت یا مطالعه است، باید صدای تلویزیون را کم کنیم تا برای استراحت دیگران مزاحمت ایجاد نشود.
- ۱۲ - گزینه ۲ مدرسه رفتن، خوردن سیب و خواندن کتاب از مقررات یک خانه نیست، اما این‌که هر کس وسایلی را که استفاده می‌کند، سر جایش بگذارد، یکی از مقررات خانه‌ی سهیل است.
- ۱۳ - گزینه ۳ گزینه‌های «۱»، «۲» و «۴» مواردی هستند که در خانه باید رعایت شوند، اما گزینه‌ی «۳» از مقررات عبور از خیابان است و مربوط به قوانین محیط بیرون از خانه است.
- ۱۴ - گزینه ۱ مقررات به ما می‌گوید چه کارهایی را باید انجام بدهیم یا ندهیم.
- ۱۵ - گزینه ۳ خواهر یاسمین ۳ ساله است و توانایی گردگیری خانه را ندارد، پس تقسیم کار خوب نبوده است. به هر کس باید به نسبت سنش وظیفه برای انجام داده شود.
- ۱۶ - گزینه ۳ در تصویر گزینه‌ی «۳» پسر مهارتی را یاد گرفته است و می‌خواهد با کاغذهای رنگی کاردستی درست کند و به صورت تنهایی مشغول انجام کارش است و همکاری اتفاق نیفتاده است، اما گزینه‌های دیگر همکاری را نشان می‌دهد.
- ۱۷ - گزینه ۲ تقسیم کار باعث می‌شود همه‌ی کارهای خانه را یک نفر انجام ندهد و همه افراد مفهوم همکاری را بهتر درک کنند.
- ۱۸ - گزینه ۳ در گزینه‌های «۱»، «۲» و «۴» امکان همکاری وجود دارد، اما سوالات امتحانی را هر کس باید خودش پاسخ بدهد.
- ۱۹ - گزینه ۲ شجره‌نامه نشان می‌دهد که افراد یک خانواده چه نسبتی با هم دارند و در شجره‌نامه «دوست» نمی‌آید.
- ۲۰ - گزینه ۲ تنها گزینه‌ی «۲» نمونه‌ی درست یک شجره‌نامه است. شجره‌نامه نشان می‌دهد افراد یک خانواده چه نسبتی با هم دارند و مربوط به نسبت دوستان و همکاران نیست.
- ۲۱ - گزینه ۳ نام دیگر درخت خانوادگی «شجره نامه» است.
- ۲۲ - گزینه ۱ این جمله غلط است، چون در قرآن آیه‌ی در مورد پدر و مادر و احترام به آن‌ها آمده است. مثلاً در «سوره‌ی اسراء» آمده است که به پدر و مادر خود نیکی کنید و چنانچه پیر شدند با نرمی و مهربانی با آن‌ها سخن گوید.
- ۲۳ - گزینه ۳ بررسی سایر گزینه‌ها:
- گزینه‌ی «۱»: گاهی اوقات تغییرات خانواده، اعضا را ناراحت می‌کند.
- گزینه‌ی «۲»: تغییر در خانواده زیاد اتفاق می‌افتد، چون بچه‌ها هر روز بزرگ‌تر می‌شوند، ازدواج می‌کنند، پدر و مادر پیر می‌شوند و...
- گزینه‌ی «۴»: اعضای خانواده همیشه در کنار هم نیستند. بعضی از اعضای خانواده ممکن است برای تحصیل در دانشگاه یا کار به شهر دیگری بروند و مدتی دور از خانواده زندگی کنند.
- ۲۴ - گزینه ۳ وقتی فرزندان بزرگ می‌شوند و ازدواج می‌کنند، خانواده‌های جدیدی به وجود می‌آید.
- ۲۵ - گزینه ۴ تولد یک بچه باعث می‌شود تعداد اعضای خانواده بیشتر شود.
- ۲۶ - گزینه ۳ گزینه‌های دیگر تغییر در خانواده را نشان می‌دهد، اما خرید یا فروش وسایل خانه، تغییر در خانواده نیست.
- ۲۷ - گزینه ۳ با ازدواج فرزندان و بچه‌دار شدن آن‌ها، پدر و مادر صاحب «نوه» می‌شوند. «نتیجه» فرزند نوه است.
- ۲۸ - گزینه ۱ نشان دادن محبت اعضای خانواده به یکدیگر روش‌های مختلفی دارد و فقط محدود به خرید گل و... نیست.
- ۲۹ - گزینه ۴ اعضای خانواده یکدیگر را دوست دارند و در خانه پدران و مادران وظیفه‌ی مراقبت، تربیت و آسایش فرزندان را دارند.
- ۳۰ - گزینه ۲ تصویر روبه‌رو «مراقبت اعضای خانواده از یکدیگر» را نشان می‌دهد.
- ۳۱ - گزینه ۲ گزینه‌ی «۲» غلط است، زیرا پدر و مادر از فرزندان مراقبت می‌کنند.
- ۳۲ - گزینه ۱ گزینه‌های «۲»، «۳» و «۴» اتفاق‌های موجود در خانه و بین اعضای خانواده است، اما اعضا نباید یکدیگر را مسخره کنند.
- ۳۳ - گزینه ۴ یاسین و هم کلاس‌اش با هم دوست هستند و اعضای یک خانواده به حساب نمی‌آیند.



- ۳۴ - گزینه ۳ عکس متعلق به خانواده‌ی رضا است که با خواهر و مادرش زندگی می‌کند، پدر رضا از دنیا رفته و خانواده‌ی آن‌ها کم‌جمعیت است.
- ۳۵ - گزینه ۳ فقط در گزینه‌ی «۳» همگی، اعضای یک خانواده هستند.
- ۳۶ - گزینه ۳ بررسی سایر گزینه‌ها:  
گزینه‌ی «۱»: تعداد اعضای خانواده‌ها با هم تفاوت دارد.  
گزینه‌ی «۲»: با تولد فرزندان، تعداد اعضای خانواده بیشتر می‌شود.  
گزینه‌ی «۴»: تعداد اعضای خانواده با تولد فرزندان بیشتر می‌شود.
- ۳۷ - گزینه ۳ خانواده با ازدواج زن و مرد به وجود می‌آید و با تولد فرزندان، تعداد اعضای خانواده بیشتر می‌شود.
- ۳۸ - گزینه ۲ آرش و همایون در تمام موارد با هم اختلاف دارند و فقط در نام پدر به هم شبیه هستند. نام پدر هر دوی آن‌ها «علی» است.
- ۳۹ - گزینه ۲ بعضی از دانش‌آموزان در بازی فوتبال استعداد دارند و خوب فوتبال بازی می‌کنند، بعضی هم علاقه‌ی زیادی ندارند. پس، «استعداد در بازی»، جزء تفاوت بچه‌ها می‌شود.
- ۴۰ - گزینه ۴ شباهت بچه‌های کلاس در رنگ چشم آن‌ها است. گزینه‌های دیگر تفاوت دانش‌آموزان را نشان می‌دهد.
- ۴۱ - گزینه ۱ همه‌ی ما انسان‌ها آفریده‌ی خداوند هستیم و خداوند ما را با همین شباهت‌ها و تفاوت‌ها آفریده است.
- ۴۲ - گزینه ۳ رنگ چشم جزء تفاوت‌های انسان‌ها است، اما همه‌ی انسان‌ها چشم دارند و به محبت و هوا و غذا نیاز دارند؛ پس گزینه‌های «۱»، «۲» و «۴» جزء و شباهت‌های انسان‌ها است.
- ۴۳ - گزینه ۱ گزینه‌ی «۱» غلط است چون همه‌ی موجودات زنده رشد می‌کنند و رشد فقط مخصوص انسان‌ها نیست. رشد کردن، تغییراتی در موجودات زنده به وجود می‌آورد که شامل: تغییرات بدن، تغییر نیازها و تغییر توانایی‌هاست.
- ۴۴ - گزینه ۴ گزینه‌های «۱»، «۲» و «۳»، تغییرات بدن هستند که بعد از تولد رخ می‌دهد، اما گزینه‌ی «۴»، تغییر توانایی‌ها است.
- ۴۵ - گزینه ۳ گزینه‌ی «۳» مربوط به گذشته است و گزینه‌های دیگر مربوط به آینده هستند.
- ۴۶ - گزینه ۲ برای دیروز روی خط زمان واژه‌ی «گذشته»، برای امروز «حال»، و برای فردا «آینده» می‌آید.
- ۴۷ - گزینه ۲ گرفتن گواهی‌نامه تا قبل از ۱۸ سالگی امکان ندارد، پس گزینه‌ی «۲» مربوط به آینده است.  
بررسی سایر گزینه‌ها:  
گزینه‌های «۱» و «۴»، خواندن کتاب فارسی سوم دبستان و کمک به مادر برای زمان حال است و گزینه‌ی «۳»، گرفتن دفترچه‌ی بیمه مربوط به گذشته است.
- ۴۸ - گزینه ۲ راه رفتن، کتاب خواندن و حرف زدن، تغییر توانایی‌ها هستند، یعنی زمان تولد نمی‌توانستید آن‌ها را انجام بدهید، بعد یاد گرفتید؛ اما غذا خوردن تغییر نیازهای شماست یعنی زمان تولد هم به غذا نیاز داشتید اما فقط می‌توانستید شیر بخورید، بعد نیاز شما تغییر کرده و حال می‌توانید انواع غذاها را بخورید.
- ۴۹ - گزینه ۲ گزینه‌های «۱»، «۳» و «۴»، تغییرات بدن هستند اما گزینه‌ی «۲»، تغییر توانایی‌ها است.
- ۵۰ - گزینه ۳ گزینه‌های «۱»، «۲» و «۴»، معنای «رشد» هستند، اما گزینه‌ی «۳»، معنی رشد نیست.
- ۵۱ - گزینه ۲ هنگام بغل کردن نوزادان باید مواظب «سر» آن‌ها باشیم و دستمان را زیر گردن آن‌ها بگذاریم؛ زیرا نوزاد نمی‌تواند سرش را نگه دارد.
- ۵۲ - گزینه ۱ برای انجام کارهایی که در گزینه‌های «۲»، «۳» و «۴» گفته شده به شناسنامه نیاز داریم اما برای خرید از مغازه نیازی به شناسنامه نداریم.
- ۵۳ - گزینه ۳ هنگام بیماری به دفترچه‌ی بیمه نیاز داریم نه شناسنامه. از شناسنامه برای ثبت‌نام در مدرسه، گرفتن دفترچه‌ی بهداشتی، ازدواج، کار و اینکه مشخص شود متعلق به کدام کشور هستیم، استفاده می‌شود.
- ۵۴ - گزینه ۲ دفترچه‌ی بیمه را از «تأمین اجتماعی» می‌گیرند و در هنگام بیماری از آن استفاده می‌کنند.
- ۵۵ - گزینه ۳ نوزادها تا دوماهگی درست نمی‌بینند، اما از همان روز اول صداها را می‌شنوند، بویها را حس می‌کنند و قلبشان کار می‌کند.
- ۵۶ - گزینه ۲ روی نوار دور دست نوزادان در هنگام تولد علاوه بر قد، وزن و جنسیت، فقط نام مادر نوشته می‌شود و نیازی به آوردن نام پدر نیست.
- ۵۷ - گزینه ۴ کف پای نوزادان مانند سندی است که مشخص می‌کند پدر و مادر او چه کسانی هستند.
- ۵۸ - گزینه ۳ مشخصاتی که در شناسنامه‌ی هر کس ذکر می‌شود: نام، نام خانوادگی، نام پدر و مادر، روز، ماه و سال تولد، شماره‌ی ملی، محل تولد و محل صدور شناسنامه است. «نشانی خانه» در شناسنامه ذکر نمی‌شود.



## پاسخنامه کلیدی

۴ - ۳

۵ - ۲

۶ - ۱

۱ - ۳

۲ - ۲

۳ - ۳

۷ - ۱

۸ - ۴

۹ - ۲

۱۰ - ۱

۱۱ - ۴

۱۲ - ۲

۱۳ - ۳

۱۴ - ۱

۱۵ - ۳

۱۶ - ۳

۱۷ - ۲

۱۸ - ۳

۱۹ - ۲

۲۰ - ۲

۲۱ - ۳

۲۲ - ۱

۲۳ - ۳

۲۴ - ۳

۲۵ - ۴

۲۶ - ۳

۲۷ - ۳

۲۸ - ۱

۲۹ - ۴

۳۰ - ۲

۳۱ - ۲

۳۲ - ۱

۳۳ - ۴

۳۴ - ۳

۳۵ - ۳

۳۶ - ۳

۳۷ - ۳

۳۸ - ۲

۳۹ - ۲

۴۰ - ۴

۴۱ - ۱

۴۲ - ۳

۴۳ - ۱

۴۴ - ۴

۴۵ - ۳

۴۶ - ۲

۴۷ - ۲

۴۸ - ۲

۴۹ - ۲

۵۰ - ۳

۵۱ - ۲

۵۲ - ۱

۵۳ - ۳

۵۴ - ۲

۵۵ - ۳

۵۶ - ۲



۵۷ - ۴

۵۸ - ۳