



شرکت توسعه انتشارات

پرش_م ۱۱

۱ - کدام یک از تصاویر زیر مربوط به افراد مردم در دوره صفویه است؟



۴



۳



۲



۱

۲ - کدام یک از عبارات‌های زیر، صحیح نیست؟

۱ ساحل دریای عمان از بندرعباس تا بندر گواتر است.

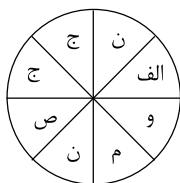
۳ رود کارون و جراحی به دریای عمان می‌ریزند.

۲ میزان شوری آب دریای خزر از دیگر دریاها و اقیانوس‌ها کم‌تر است.

۴ رود اترک و رود ارس دو رود مرزی ایران هستند که به دریای خزر می‌ریزند.

۳ - برنامه‌ی متعادل دانش‌آموزی بر اساس جدول زیر، بر روی نمودار ترسیم شده است. او جدیداً دچار خستگی، بداخلاقی و کندی یادگیری شده است. به

نظر شما اشکال برنامه‌ی او در کجاست؟



الف (بازی رایانه ای و ورزش	ص (خواب و استراحت	ج (مدرسه و رفت و آمد
م (انجام تکالیف و مطالعه	ن (تماشای تلویزیون	و (عبادت و راز و نیاز

۱ مطالعه‌ی زیاد و بیش از اندازه

۲ حساس بودن به انجام تکالیف مدرسه

۳ کمبود زمان بازی و تفریح

۴ کمبود خواب و استراحت

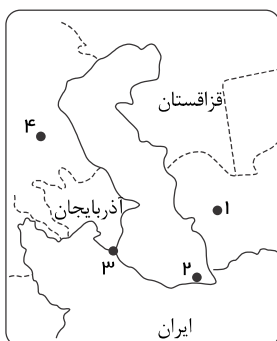
۴ - در نقشه‌ی مقابل به ترتیب شماره‌ها، نام کدام مناطق صحیح نوشته شده است؟

۱ ترکمنستان - بندر بابلسر - بندر آستارا - روسیه

۲ ارمنستان - بندر ترکمن - بندر انزلی - ترکیه

۳ ترکمنستان - بندر بابلسر - بندر انزلی - روسیه

۴ ارمنستان - بندر بابلسر - بندر آستارا - ترکیه



۵ - گروه‌های مختلف اجتماعی و شغلی با توجه به چه چیزی لباس‌های متفاوتی دارند؟

۱ فصول سال

۲ نوع مکانی که در آن قرار دارند.

۳ کار و نقش آنها در اجتماع

۴ موقعیت‌های مختلف

۶ - عمق دریای خزر در کدام ناحیه بسیار کم است؟

۱ غرب

۲ شرق

۳ شمال

۴ جنوب

۷ - کارخانه‌ی کشتی‌سازی و لنج‌سازی در کدام ناحیه وجود ندارد؟

۱ نکا در سواحل دریای خزر

۲ بندرعباس

۳ بوشهر

۴ عسلویه

۸ - چرا اروپایی‌ها به علوم جغرافیا و نجوم علاقه‌مند بودند؟

۱ برای نفوذ در بین مسلمانان

۲ برای شناخت سرزمین‌ها و تجارت

۳ برای استعمار کشورهای آفریقایی

۴ برای علاقه‌مندی به طبیعت



۹- اگر در یک سفر دریایی از مرز جنوب غربی ایران و عراق حرکت کنیم و در بندر کراچی در پاکستان لنگر بیندازیم، به ترتیب شاهد پیوستن کدام رودها به خلیج فارس و دریای عمان خواهیم بود؟

- ① هندیکان - جراحی - شور - سرباز - مُند
 ② مُند - جراحی - شور - هندیکان - سرباز
 ③ جراحی - هندیکان - مُند - شور - سرباز
 ④ جراحی - مُند - هندیکان - سرباز - شور

۱۰ - چرا نوروز که یک جشن ایرانی است در کشورهای همسایه‌ی ما وجود دارد؟

- ① زیبایی و جذابیت نوروز باعث استقبال این کشورها شده است.
 ② به دلیل هم زمانی با فصل بهار این جشن‌ها برگزار می‌شوند.
 ③ زیرا این کشورها زمانی جزء ایران بوده‌اند.
 ④ چون کشورهای اسلامی عیدهای مشترک را جشن می‌گیرند.

۱۱ - کدام یک از قوانین زیر مربوط به بوستان‌ها نیست؟

- ① روی چمن‌ها راه نرویم.
 ② برای تهیه‌ی بلیت نوبت را در صف رعایت کنیم.
 ③ گل‌ها را نچینیم.
 ④ زباله‌ها را در سطل‌های مخصوص بریزیم.

۱۲ - چه عاملی موجب ساخت کشتی‌های پرسرعت و محکم‌تر توسط اروپایی‌ها نشد؟

- ① نقشه‌هایی که جغرافی دانان مسلمان از جهان ترسیم کرده بودند.
 ② شيوه‌های کشتی‌سازی مسلمانان
 ③ قطب‌نماهای مسلمانان
 ④ دریانوردان ماهر مسلمان

۱۳ - کدام جمله صحیح نیست؟

- ① نخ ممکن است طبیعی یا مصنوعی باشد.
 ② پس از تولید نخ در کارخانه‌ی نخ‌ریسی نخ‌ها به کارخانه‌ی پارچه‌بافی فرستاده می‌شوند.
 ③ تمام پارچه‌های مورد نیاز تولیدی‌ها در ایران بافته می‌شوند.
 ④ صاحبان کارگاه‌های تولید لباس پارچه را از عمده‌فروشان خریداری می‌کنند.

۱۴ - چند مورد از موارد بیان شده‌ی زیر به درستی بیان شده است؟

- الف) تجارت و بازرگانی باعث افزایش ثروت اروپایی‌ها شد و شکل زندگی مردم را تغییر داد.
 ب) پرتغالی‌ها و فرانسوی‌ها در کشف سرزمین‌های جدید، پیشگام بودند.
 ج) اروپایی‌ها از طرق دریای مدیترانه و شمال آفریقا، محصولات را از مسلمانان خریداری می‌کردند.
 د) بیشترین نفوذ و دخالت بیگانگان در کشور ما در دوره‌ی حکومت‌های قاجاریه و پهلوی بوده است.
 ه) به سرزمین‌هایی که استقلال سیاسی و اقتصادی نداشته باشند و تابع حکومت‌های دیگر باشند، «استعمارگر» می‌گویند.

- ① دو ② سه ③ چهار ④ پنج

۱۵ - کدام یک از مؤسسات زیر در امور فراغت فعالیت ندارند؟

- ① سازمان دانش‌آموزی ② سازمان آموزش فنی و حرفه‌ای
 ③ وزارت ورزش و جوانان ④ سازمان بهینه‌سازی

۱۶ - در عبارت زیر چند اشتباه وجود دارد؟

با گذشت زمان تغییراتی در گذران اوقات فراغت ایجاد شده است، اما در هر دوره‌ی تاریخی گروه‌های مختلف مردم شیوه‌های متفاوتی برای اوقات فراغت خود داشته‌اند که همه‌ی آن‌ها تا امروز بین مردم باقی مانده است، در گذشته بیشتر بازی‌های فردی انجام می‌شده است. امروزه اغلب بازی‌ها جنبه حرکتی و قدرتی دارند.

- ① ۲ ② ۳ ③ ۴ ④ ۵



۱۷- نام رودها را در نقشه‌ی مقابل به ترتیب شماره بنویسید.

- ① سفیدرود - اترک - کارون
- ② هراز - اروندرود - ارس
- ③ ارس - اروندرود - اترک
- ④ سفیدرود - کارون - اترک

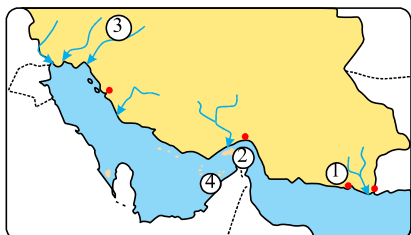
۱۸- چه زمانی تجارت دادوستد میان اروپایی‌ها و مسلمانان گسترش یافت؟

- ① حدود ۱ قرن پیش
- ② حدود ۲ قرن پیش
- ③ حدود ۳ قرن پیش
- ④ حدود ۴ قرن پیش

۱۹- همه محصولات زیر به جز از محصولاتی است که اروپایی‌ها در قرن چهارم از مسلمانان خریداری می‌کردند.

- ① قهوه
- ② شکر
- ③ قطب‌نما
- ④ گندم

۲۰- تنگه‌ی هرمز در نقشه‌ی مقابل کدام شماره است؟



- ① ۱
- ② ۲
- ③ ۳
- ④ ۴

۲۱- رابطه‌ای که میان رود هراز و دریای خزر وجود دارد در کدام گزینه دیده می‌شود؟

- ① هندیجان و عمان
- ② رود شور و دریای خزر
- ③ جراحی و خلیج فارس
- ④ سررباز و خلیج فارس

۲۲- در کدام یک از کشورهای زیر جشن نوروز برگزار نمی‌شود؟

- ① ایران
- ② افغانستان
- ③ عراق
- ④ ترکمنستان

۲۳- در کدام یک از کشورهای زیر فقط مردم برخی از مناطق نوروز را جشن می‌گیرند؟

- ① ایران
- ② ترکیه
- ③ ارمنستان
- ④ پاکستان

۲۴- خرمشهر چه مدت در اشغال رژیم بعث عراق بود؟

- ① بیشتر از سه سال
- ② کمتر از سه سال
- ③ حدود یک سال
- ④ حدود هشت سال

۲۵- کدام مورد از دلایل حمله‌ی عراق به ایران نیست؟

- ① قطع شدن منافع استعمارگران در ایران
- ② حمایت ایران از مظلومان جهان
- ③ آمادگی کافی نداشتن سپاه و ارتش
- ④ عدم پایبندی عراق به قطعنامه

۲۶- کدام گزینه با سایر گزینه‌ها تفاوت دارد؟

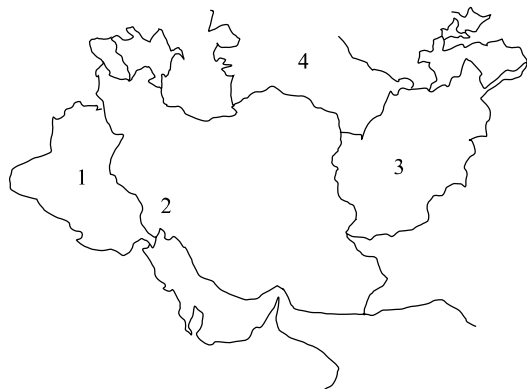
- ① زاینده‌رود، رود شور، هراز
- ② سفیدرود، گرگان، چالوس
- ③ ارس، اترک، اروندرود
- ④ رودسرباز، هندیجان، جراحی



۲۷- با توجه به مقایسه‌ی ترکیه و افغانستان، کدام مورد صحیح است؟

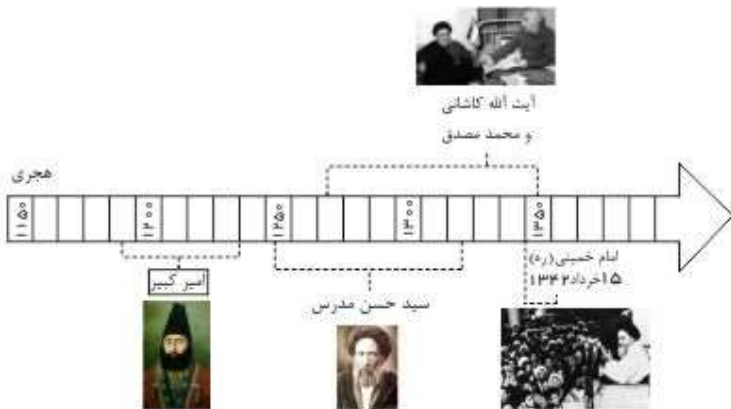
- ۱) کشور ایران در جنوب غربی کشور افغانستان و در شرق کشور ترکیه قرار دارد.
- ۲) دریای سیاه در شمال کشور ترکیه و کشور افغانستان در آسیای میانه قرار دارد.
- ۳) با توجه به نزدیکی مساحت این دو کشور، جمعیت ترکیه ۳ برابر جمعیت افغانستان است.
- ۴) بیش تر نواحی ترکیه و افغانستان، کوهستانی است، اما در افغانستان جلگه‌های پست نیز وجود دارد.

۲۸- با توجه به نقشه، کدام گزینه نادرست است؟



- ۱) شماره ۱: ایران با این کشور، بیش‌ترین مرز خشکی را دارد.
- ۲) شماره ۲: شهری از ایران که در ابتدای جنگ تحمیلی اشغال شد.
- ۳) شماره ۳: به موجب قراردادهای استعماری از ایران جدا شد.
- ۴) شماره ۴: کشوری که به آب‌های آزاد راه دارد.

۲۹- بر اساس خط زمان، به ترتیب، در کدام گزینه نام قهرمانان مبارز با استعمارگران ایران آمده است؟



- ۱) رئیس‌علی دلواری - امیرکبیر - سید حسن مدرس - امام خمینی (ره)
- ۲) امام خمینی (ره) - امیرکبیر - سید حسن مدرس - آیت‌الله کاشانی
- ۳) امیرکبیر - سید حسن مدرس - آیت‌الله کاشانی - امام خمینی (ره)
- ۴) رئیس‌علی دلواری - امام خمینی (ره) - امیرکبیر - سید حسن مدرس

۳۰- کدام عبارت به ترتیب در مورد خلیج فارس و دریای خزر صحیح است؟

- ۱) رود سرپاز و رود هیرمند از رودهای مهم آن است - ما را به کشورهای آذربایجان و ترکمنستان مربوط می‌کند.
- ۲) انبار نفت جهان است - صید میگو از اوایل مهرماه در آنجا آغاز می‌شود.
- ۳) صید ماهی از اوایل بهار تا اوایل پاییز در آنجا ممنوع است - بزرگترین منبع ماهیان خاویاری جهان است.
- ۴) نفت و گاز از نواحی کم‌عمق آن استخراج می‌شود - تاس‌ماهی، فیل‌ماهی و دراکول از ماهی‌های آنجا است.

۳۱- در کدام گزینه تمامی رودهای ذکر شده به خلیج فارس می‌ریزد؟

- ۱) رود شور، رود مند، رود سرپاز
- ۲) رود جراحی، رود کارون، سفیدرود
- ۳) رود کارون، رود هندیجان، رود هراز
- ۴) رود جراحی، رود شور، رود مند

۳۲- کدام گروه از پدیده‌های طبیعی زیر، بخشی از مرزهای ایران را تشکیل می‌دهند؟

- ۱) رود کارون، ارتفاعات آرارات، اروندرود
- ۲) خلیج فارس، ارتفاعات آرارات، رشته کوه البرز
- ۳) اروندرود، ارتفاعات آرارات، دریای خزر
- ۴) رود ارس، ارتفاعات آرارات، رود سرپاز



۳۳- در تصویر روبه‌رو چه بازی‌ای به تصویر کشیده شده است؟

- ① مجالس نقالی
- ② تیراندازی
- ③ زورآزمایی
- ④ چوگان بازی

۳۴- کدام یک از تصاویر زیر مربوط به گروه‌های اجتماعی نیست؟



②



①



④

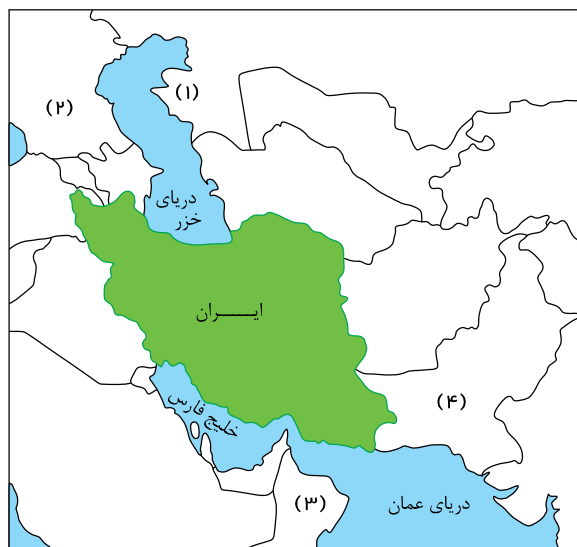


③

۳۵- امام خمینی (ره) چه زمانی فرمودند: «من از ملت بزرگ ایران خواهانم که در هر مساله‌ای که پیش می‌آید قوی باشند، قدرتمند باشند، متکی به خدای تبارک تعالی باشند و از هیچ چیز باک نداشته باشند ما از آن قدرت‌های بزرگ نترسیدیم این که قدرتی ندارد.»

- ① پس از پیروزی انقلاب
- ② پس از آغاز جنگ
- ③ در میانه‌ی آغاز جنگ
- ④ زمانی که صدام تهدید به حمله‌ی نظامی کرد.

۳۶- در جاهای خالی به ترتیب شماره نام کشورهای مربوطه را بنویسید.



- ① ترکمنستان - ترکیه - امارات - افغانستان
- ② قزاقستان - روسیه - امارات - افغانستان
- ③ ترکمنستان - روسیه - عمان - پاکستان
- ④ قزاقستان - روسیه - عمان - پاکستان

۳۷- کدام عبارت صحیح نیست؟

- ① خط مرزی خطی است که تنها روی زمین است.
- ② گوه‌های آزارات بخشی از مرز ایران و ترکیه است.
- ③ گاهی یک پدیده‌ی طبیعی مانند رودخانه مرز دو کشور قرار داده می‌شود.
- ④ خلبان‌ها هنگام عبور از آسمان هر کشور باید از آنها برای ورود اجازه بگیرند.



۳۸- کدام یک از موارد زیر در نتیجه‌ی افزایش ثروت اروپایی‌ها به‌وجود نیامد؟

- ① شهر و شهرنشینی
 ② ترجمه‌ی کتاب‌های پزشکی و بسیاری کتاب‌های دیگر علوم اسلامی
 ③ افزایش کارگاه‌های صنعتی
 ④ تغییر شکل زندگی مردم

۳۹- آخرین مرحله از تولید لباس در کدام تصویر نشان داده شده است؟



- ① برش‌کاری (تصویر ۴)
 ② اتوکاری (تصویر ۲)
 ③ چرخ‌کاری (تصویر ۹)
 ④ نخ‌ریسی (تصویر ۸)

۴۰- کدام یک از موارد زیر از جمله نام‌های دریای خزر در طول تاریخ نبوده است؟

- ① هندیجان
 ② گرگان
 ③ مازندران
 ④ گیلان

۴۱- کدام یک از ماهی‌های زیر خاویاری نیست؟

- ① تاس ماهی
 ② ماهی سفید
 ③ اوزون‌برون
 ④ فیل ماهی

۴۲- کدام مورد از مهم‌ترین آبریزان دریای جنوب ایران است؟

- ① خاویار
 ② نفت و گاز
 ③ میگو
 ④ ماهی شیر

۴۳- چه تعداد از موارد زیر نادرست است؟

(الف) یکی از جلوه‌های ثابت لباس در دوره‌های مختلف سرپوش برای مردان است.

(ب) وظیفه‌ی کارخانه‌های نساجی تولید نخ لازم برای پارچه است.

(ج) اگر لباسی که می‌خریم متناسب با بودجه‌ی ما باشد، وقار و متانت‌مان حفظ می‌شود.

- ① صفر
 ② یک
 ③ دو
 ④ سه

۴۴- برای رسم نمودار فعالیت‌های روزانه بهترین شیوه کدام است؟

- ① دایره‌ای بکشیم و آن را به دو قسمت تقسیم کنیم یک نیمه برای کارهای روز و نیمه‌ی دیگر برای کارهای شب.
 ② چند مستطیل بکشیم که هر کدام نشان‌دهنده‌ی یکی از کارهای روزانه‌ی ما باشد و طول و عرض مستطیل به میزان مدت زمان آن فعالیت.
 ③ دایره‌ای بکشیم و آن را به بیست و چهار قسمت تقسیم کنیم که هر قسمت نشان‌دهنده‌ی یک ساعت است.
 ④ دایره‌ای بکشیم و با توجه به نوع فعالیت‌هایمان در روز آن را به سه یا چهار قسمت تقسیم کنیم.

۴۵- چگونه برای کارها و فعالیت‌ها انرژی می‌گیریم؟

- ① با مطالعه‌ی کتاب
 ② با برنامه‌ریزی کردن
 ③ با تفریح کردن
 ④ با انجام به موقع کارها



۴۶- کدام یک از موارد زیر از قوانین مخصوص ورزشگاه‌ها نیست؟

- ۱ روی چمن‌ها راه نرویم.
- ۲ فقط به تشویق تیم مورد علاقه‌مان پردازیم.
- ۳ با انتظامات و کارکنان همکاری کنیم.
- ۴ برای تهیه ی بلیط، نوبت را در صف رعایت کنیم.

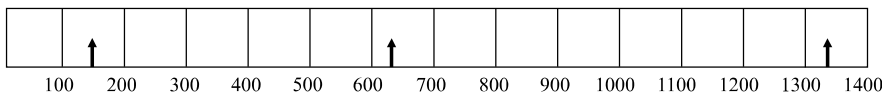
۴۷- چند مورد از گزینه‌های زیر از ویژگی‌های خلیج فارس نیست؟

- به دلیل وجود منابع نفت و گاز به آن انبار نفت جهان می‌گویند.
- از دهانه‌ی اروندرود تا بندرعباس امتداد یافته است.
- شوری آب آن از دریای عمان بیش‌تر است.
- بزرگ‌ترین منبع ماهیان خاویاری در جهان است.

- ۱ ۱
- ۲ ۲
- ۳ ۳
- ۴ ۴

۴۸- با توجه به خط زمان، نقاط مشخص شده، به ترتیب از چپ به راست کدام یک از رخداد‌های تاریخی است؟

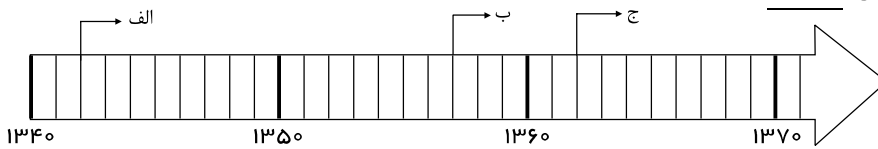
۱



سقوط بنی‌امیه و ظهور بنی‌عباس- تأسیس سلسله‌ی صفویه- پیروزی انقلاب اسلامی ایران

- ۲ سقوط بنی‌عباس و ظهور بنی‌امیه- حمله‌ی مغول به ایران- سخنرانی تاریخی امام خمینی
- ۳ سقوط بنی‌امیه و ظهور بنی‌عباس- حمله‌ی مغول به ایران- سخنرانی تاریخی امام خمینی
- ۴ سقوط بنی‌عباس و ظهور بنی‌امیه- تأسیس سلسله‌ی صفویه- پیروزی انقلاب اسلامی ایران

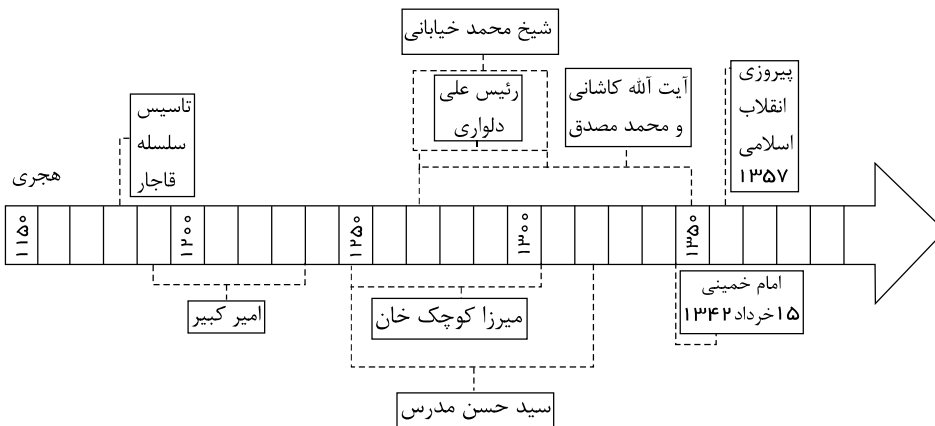
۴۹- در نمودار خط زمان زیر، حوادث «الف» و «ب» و «ج» به ترتیب در کدام گزینه آمده است؟



- ۱ قیام پانزده خرداد- پیروزی انقلاب اسلامی- آزادسازی شهر مهران
- ۲ ملی شدن صنعت نفت- حمله‌ی عراق به ایران- اشغال شهر خرمشهر
- ۳ قیام پانزده خرداد- ورود امام خمینی (ره) به ایران- آزادسازی شهر خرمشهر
- ۴ قیام پانزده خرداد- حمله‌ی عراق به ایران- آزادسازی شهر مهران

۵۰- با توجه به خط زمان زیر، کدام عبارت درست است؟

۱



مجلس شورای ملی در نیمه‌ی اول قرن ۱۴ قانون ملی شدن نفت را تصویب کرد.

- ۲ پایان عصر مبارزه‌ی امیرکبیر با استعمارگران روس و انگلیس، در اواخر نیمه‌ی دوم قرن ۱۲ اتفاق افتاد.
- ۳ پیروزی انقلاب اسلامی در اواخر نیمه‌ی اول قرن ۱۴ به ثمر نشست.
- ۴ کوچک‌خان جنگلی در گیلان قیام کرد، اما سرانجام در اوایل نیمه‌ی اول قرن ۱۲ به شهادت رسید.



۵۱- با توجه به مفهوم، کدام عبارت زیر صحیح نیست؟

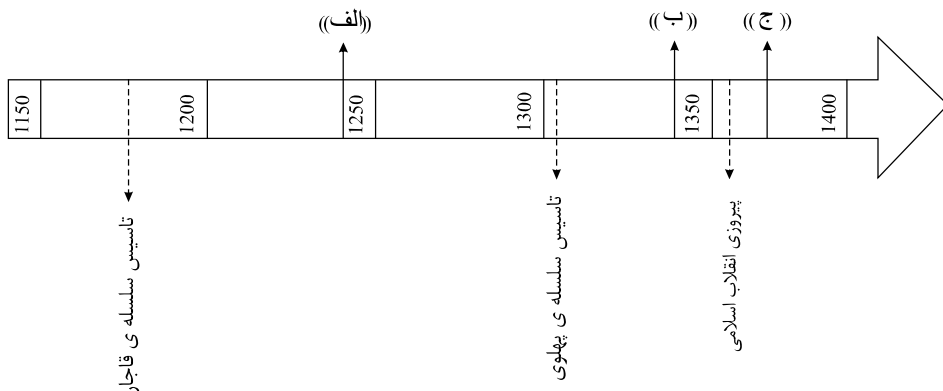
- ۱) رود اترک، رود مرزی ایران و ترکمنستان است.
- ۲) در شرق جمهوری آذربایجان، دریای خزر قرار دارد.
- ۳) انرژی هسته‌ای و گاز، غیرقابل تجدید و دارای آلودگی هستند.
- ۴) در سال ۱۳۹۰، اختلاف برق به دست آمده از برق حرارتی، در مقایسه با برق آبی، ۸۴٪ است.

۵۲- عواملی که بعد از عصر تاریکی موجب قدرتمندی اروپایی‌ها شد، همراه با نمونه‌هایی از آن‌ها، در گزینه‌های پایین آورده شده است. همه‌ی موارد با نمونه‌ها مطابقت دارند به جز گزینه‌ی

- ۱) پیشرفت علوم و فنون (شناخت راه‌های دریایی - تجارت)
- ۲) اکتشافات جغرافیایی (استفاده از قطب‌نما - شیوه‌های کشتی‌سازی)
- ۳) رونق تجارت و بازرگانی (تغییر شکل زندگی مردم - کاهش کارگاه‌های صنعتی)
- ۴) انتقال علوم و فنون از جهان اسلام (ترجمه‌ی کتاب‌های علوم اسلامی - خرید داروی گیاهی و ادویه از مسلمانان)

۵۳- حوادث «الف» و «ب» و «ج» در خطّ زمان زیر، به ترتیب در کدام گزینه به درستی آمده است؟

۱)



شهادت امیرکبیر در فین کاشان - ملی شدن نفت ایران - آزادسازی خرمشهر

- ۲) ساخت مسجد امام «ره» اصفهان - قیام پانزده خرداد - حمله‌ی عراق به ایران
- ۳) اشغال ایران توسط روسیه و انگلستان - شهادت رئیسعلی دلواری - شکل‌گیری سپاه پاسداران
- ۴) حفر نخستین چاه نفت در مسجد سلیمان - تبعید دکتر مصدّق به احمدآباد - شهادت آیت‌الله مدرس

۵۴- از ساحل کشور آذربایجان سوار بر کشتی مسافربری ۱۰۰ کیلومتر به سمت شرق و سپس بیش از ۵۰۰ کیلومتر به سمت شمال حرکت می‌کنیم. به ساحل کدام شهر خواهیم رسید؟

- ۱) ایران
- ۲) روسیه
- ۳) قزاقستان
- ۴) ترکمنستان

۵۵- کدام گزینه صحیح است؟

- ۱) قاره‌ی آمریکا و استرالیا خیلی زود شناخته شدند.
- ۲) نصف‌النهار مبدأ، زمین را به دو نیم‌کره‌ی شمالی و جنوبی تقسیم می‌کند.
- ۳) پیدایش فصل‌ها نتیجه‌ی حرکت انتقالی زمین است.
- ۴) در قطب جنوب، شرایط برای زندگی و فعالیت مساعد است.

۵۶- یکی از دانش‌آموزان کلاس ششم، پس از بازدید از نمایشگاهی با عنوان «لباس ایرانی از گذشته تا امروز، گزارشی تهیه کرد و در قسمتی از آن نوشت:

«با مقایسه و بررسی شکل، جنس و نوع لباس‌ها می‌توان نتیجه گرفت: ...». کدام گزینه نمی‌تواند در قسمت نتیجه‌گیری قرار بگیرد؟

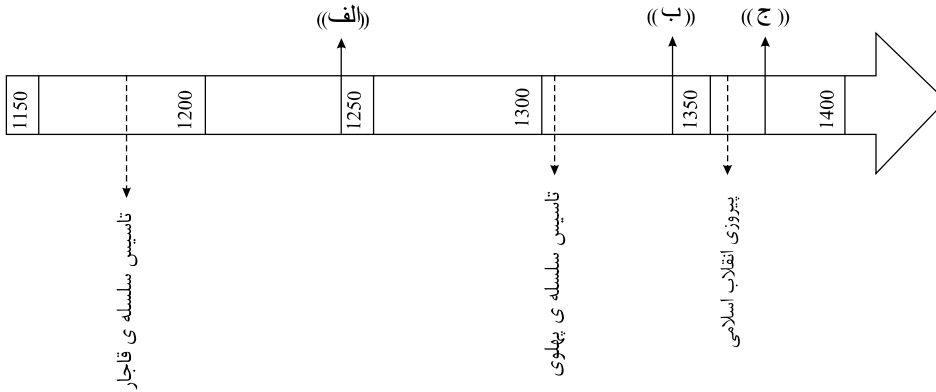
- ۱) بعضی از لباس‌ها نشان‌دهنده‌ی طبقه‌ی اجتماعی و شغل صاحب آن است.
- ۲) جنس و نقش لباس‌ها الهام گرفته از عوامل طبیعی و جغرافیایی است.
- ۳) پیشینه‌ی فرهنگی و تاریخی بر طراحی لباس‌ها اثر دارد.
- ۴) در هر دوره، به زیبایی در طراحی لباس، بیش‌ترین اهمیت داده می‌شد.



۵۷- کدام یک درباره‌ی دریاهای ایران درست است؟

- ① رود سرپاز و رود شور به دریای عمان می‌ریزند.
 ② دریاهای ایرانی جزء بزرگ‌ترین زیستگاه‌های موجودات دریایی هستند.
 ③ فراوانی جزایر ایرانی در دریای عمان بیش‌تر از سایر دریاهای ایران است.
 ④ دریای عمان در مقایسه با خلیج فارس، عمق و شوری کم‌تری دارد.

۵۸- حوادث «الف»، «ب» و «ج» در خطّ زمان زیر، به ترتیب در کدام گزینه به درستی آمده است؟



شهادت امیرکبیر در فین کاشان - ملی شدن نفت ایران - آزادسازی خرمشهر

- ② ساخت مسجد امام (ره) اصفهان - قیام پانزده خرداد - حمله‌ی عراق به ایران
 ③ اشغال ایران توسط روسیه و انگلستان - شهادت رئیس علی دلواری - شکل‌گیری سپاه پاسداران
 ④ حفر نخستین چاه نفت در مسجد سلیمان - تبعید دکتر مصدّق به احمدآباد - شهادت آیت‌الله مدرّس

۵۹- اگر «پیشرفت» و «شکوفایی» را معلول مجموعه‌ای از علّت‌ها بدانیم، کدام گزینه‌ی زیر، از علّت‌های مشترک پیشرفت ایران در دوره‌ی صفوی و پیشرفت اروپا پس از عصر تاریکی نیست؟

- ① حمایت از علوم و دانشمندان ② رونق تجارت و بازرگانی ③ افزایش قدرت نظامی ④ غارت ثروت‌های دیگر کشورها

۶۰- کدام عبارت، در مورد خرمشهر صحیح می‌باشد؟

- ① مقاومت مردم خرمشهر در مقابل هجوم ناگهانی دشمن، ۲۴ روز طول کشید.
 ② خرمشهر در سوم خردادماه سال ۱۳۶۱ و در عملیات بیت‌المقدس آزاد شد.
 ③ بندر خرمشهر در محل برخورد رود کارون و زاینده‌رود قرار دارد.
 ④ خرمشهر یکی از شهرهای زیبای جنوب ایران و جزء بنادر مهم بازرگانی به حساب می‌آید.

۶۱- سرزمین‌هایی که در گذشته به موجب قراردادهای استعماری از شرق و شمال شرقی ایران جدا شدند کدامند؟

- ① سمرقند - مرو - هرات - عشق‌آباد ② آران - گرجستان - بخارا - مرو ③ قندهار - آران - بخارا - ایروان ④ داغستان - ایروان - کابل - مرو

۶۲- صید ماهی‌های «سرخو، سوف و سنگسر» به ترتیب از کدام بندرها امکان‌پذیر است؟

- ① بندر گناوه - بندر آستارا - بندر بابلسر ② بندر چابهار - بندر انزلی - بندر بوشهر
 ③ بندر امام خمینی (ره) - بندر گواتر - بندر ترکمن ④ بندر ترکمن - بندر خرمشهر - بندرعبّاس

۶۳- در کدام مورد، روابط علت و معلولی در رخدادهای زیر نادرست است؟ (علت ← معلول)

- ① انتقال علوم و فنون از جهان اسلام - رونق تجارت - پیشرفت علوم و هنر - اکتشافات جدید جغرافیایی ← قدرتمندی اروپا
 ② حکومت قدرتمند و یکپارچه - رونق تجارت - برقراری امنیت در راه‌ها - حمایت از هنرمندان ← گسترش هنر و معماری در دوره‌ی صفویه
 ③ قطع منافع استعمارگران از ایران - حمایت ایران از مردم فلسطین - سوءاستفاده از شرایط داخلی ایران ← حمله‌ی نظامی عراق به ایران
 ④ برقراری امنیت در راه‌ها و شهرها - حکومت قدرتمند و یکپارچه - کاغذسازی ← گسترش علوم و فنون در دوره‌ی اسلامی



۶۴- کدام یک از برنامه‌های زیر متعادل‌تر است؟

- ۱) تفریح - دعا کردن - ارتباط با دوستان - درس خواندن
- ۲) نماز خواندن - ارتباط با دوستان - درس خواندن - قرآن خواندن
- ۳) خواب - سرگرمی - درس خواندن - عبادت کردن
- ۴) درس خواندن - انجام تکالیف - استراحت - دعا کردن

۶۵- با کدام گزینه می‌توان یک نمودار علت و معلولی ترسیم کرد؟

- ۱) شکل‌گیری تازه‌ی ارتش و حمایت از مردم فلسطین (علت) ← حمله‌ی نظامی عراق به ایران (معلول)
- ۲) شکل‌گیری تازه‌ی ارتش و قطع منافع استعمارگران (علت) ← مبارزه‌ی مردم فلسطین (معلول)
- ۳) قطع منافع استعمارگران و شکل‌گیری سپاه پاسداران (علت) ← حمایت از مردم فلسطین (معلول)
- ۴) قطع منافع استعمارگران و ارتش در حال تجهیز شدن (علت) ← حمله‌ی نظامی عراق به ایران (معلول)

۶۶- کدام یک از گزینه‌های زیر نادرست است؟

- ۱) عمق دریای خزر در نواحی شمالی بسیار کم است.
- ۲) شوری آب خلیج فارس کمتر از دریای عمان است.
- ۳) رود هندیجان به خلیج فارس می‌ریزد.
- ۴) کشتی‌سازی نکا در سواحل دریای خزر قرار دارد.

۶۷- کدام گروه از شهرهای زیر در جنگ تحمیلی همگی مورد حمله‌ی زمینی و هوایی ارتش عراق قرار گرفتند؟

- ۱) قصر شیرین - دزفول - پیرانشهر - ارومیه
- ۲) اهواز - آبادان - اندیمشک - ایلام
- ۳) آبادان - خرمشهر - بوشهر - کرمانشاه
- ۴) مهران - گیلان‌غرب - تبریز - سنندج

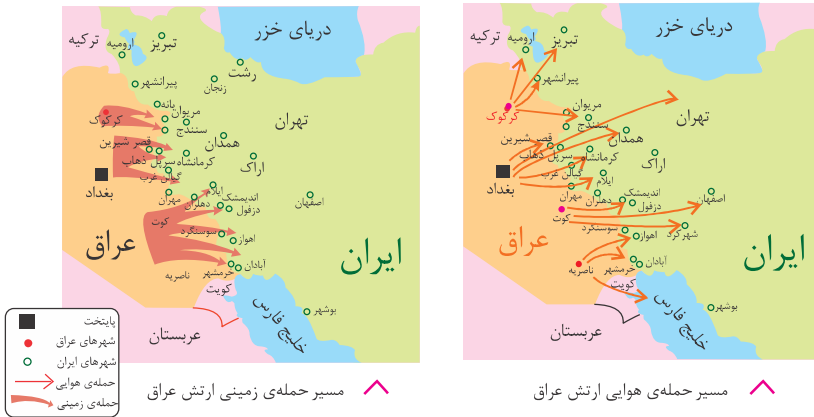
۶۸- گروه‌بندی کدام دسته از پوشاک زیر نادرست است؟

- ۱) لباس کردها، لباس حجاج، لباس روحانیون
- ۲) لباس نظامیان، لباس رفتگران، لباس پرستاران
- ۳) لباس غواصی، لباس هلال‌احمر، لباس ارتش
- ۴) لباس پزشکان، لباس غواصی، لباس پرستاران

۶۹- در خصوص دریاهای شمال و جنوب ایران کدام گزینه درست است؟

- ۱) در ماه‌های پایانی سال ماهیگیران جنوب، باید شروع به صید میگو کنند.
- ۲) برخی از ماهی‌های دریای شمال ایران عبارتند از: کپور، کفال، کیلکا، کولی و ...
- ۳) دریاهای اطراف ایران بزرگترین منبع ماهیان خاویاری در جهان است.
- ۴) صید ماهی در ایران تابع قوانین و مقرراتی است که ماهیگیران تعیین می‌کنند.

۷۰- با مطالعه‌ی دو نقشه‌ی زیر می‌توان دریافت:



۱)

ارتش عراق برای اینکه بتواند در جنگ پیروز شود، اولین حمله‌ی خود را زمینی انجام داد.

- ۲) صدام برای اینکه بتواند پایتخت ایران و شهرهای بزرگ را ویران و به تصرف خود درآورد، با هواپیماهای خود شهرهای مرزی و داخلی ایران را بمباران هوایی کرد.
- ۳) ارتش عراق توان حمله‌ی زمینی کمی نسبت به نیروهای ایرانی داشت.
- ۴) ارتش عراق برای تصرف شهرهایی چون تهران، اصفهان، تبریز و ... حملات خود را از راه زمینی انجام داد.

۷۱- کدام یک از اوقات فراغت زیر با دیگر گزینه‌ها متفاوت است؟

- ۱) ساختن کاردستی
- ۲) پرورش حیوانات
- ۳) جمع‌آوری مجموعه‌های سنگ
- ۴) رفتن به سفرهای زیارتی



۷۲- در ارتباط با قوانین مکان‌های گذران اوقات فراغت کدام عبارت صحیح است؟

- ۱) همه‌ی مکان‌ها مقررات مشابهی دارند که باید آن‌ها را رعایت کنیم.
- ۲) بعضی از مکان‌های اوقات فراغت دارای قوانینی هستند که باید آن‌ها را رعایت کنیم.
- ۳) هر یک از مکان‌های گذران اوقات فراغت مقررات مخصوص به خود را دارند که باید آن‌ها را رعایت کنیم.
- ۴) هر یک از مکان‌های گذران اوقات فراغت مقررات عمومی دارند که بهتر است آن‌ها را رعایت کنیم.

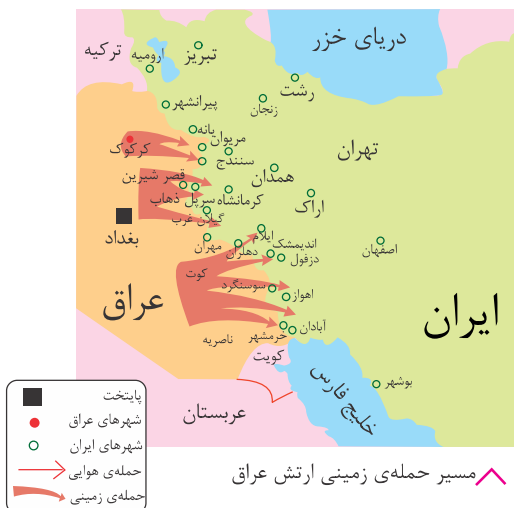
۷۳- چگونه می‌توان فهمید افراد چه شغلی دارند یا چه خدمتی به اجتماع ارائه می‌کنند؟

- ۱) با توجه به کار و نقش آن‌ها
- ۲) با توجه به نوع مکانی که در آن قرار دارند.
- ۳) با توجه به موقعیت افراد
- ۴) با توجه به لباس گروه‌های اجتماعی و شغلی

۷۴- پس از آزادی خرمشهر صدام چه کرد؟

- ۱) آبادان را تصرف کرد.
- ۲) سعی کرد با دریافت کمک از کشورهای قدرتمند به هجوم خود ادامه دهد.
- ۳) با بمباران هوایی دزفول این شهر را تصرف کرد.
- ۴) مجبور به پذیرش صلح شد.

۷۵- نقشه‌ی زیر، حمله عراق به ایران از چه طریق را نشان می‌دهد؟



- ۱) حمله‌ی زمینی
- ۲) حمله‌ی هوایی
- ۳) حمله‌ی دریایی
- ۴) حمله‌ی زمینی و هوایی

۷۶- کدام شهر در مسیر حمله‌ی هوایی ارتش عراق نبوده است؟

- ۱) زنجان
- ۲) کرمانشاه
- ۳) شهرکرد
- ۴) تبریز

۷۷- کدام شهر در مسیر حمله‌ی زمینی ارتش عراق قرار نداشته است؟

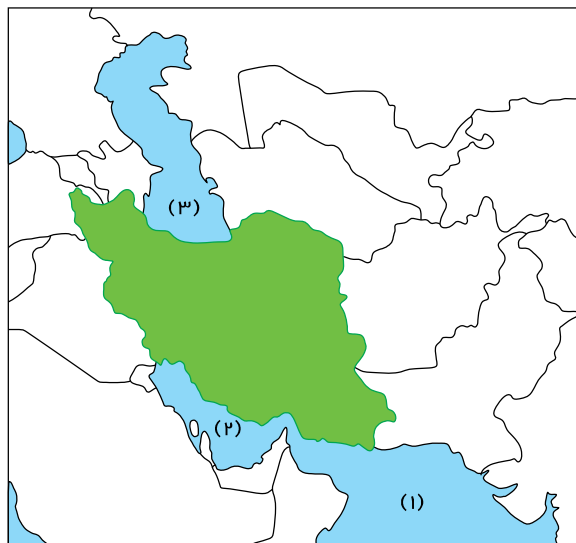
- ۱) دهلران
- ۲) نوسود
- ۳) خرمشهر
- ۴) اراک

۷۸- حمله هوایی ارتش عراق از کدام شهرهای عراق انجام نشد؟

- ۱) اربیل
- ۲) بغداد
- ۳) کوت
- ۴) ناصربه

۷۹- کدام یک از گزینه‌های زیر از علت‌های حمله‌ی نظامی عراق به ایران نیست؟

- ۱) عدم آمادگی کافی نیروهای مسلح کشور
- ۲) یابوری ایران از مظلومان جهان
- ۳) قطع منافع استعماری استعمارگران
- ۴) ملی کردن صنایع اصلی در ایران



۸۰- نام دریاها را در نقشه‌ی مقابل به ترتیب شماره بنویسید.

- ① دریای عمان - دریای خزر - خلیج فارس
- ② دریای خزر - خلیج فارس - دریای عمان
- ③ دریای عمان - خلیج فارس - دریای خزر
- ④ دریای خزر - دریای عمان - خلیج فارس



۸۱- تصویر مقابل برگزاری چه مراسمی را نشان می‌دهد؟

- ① مراسم عید نوروز
- ② مراسم عید فطر
- ③ مراسم عید قربان
- ④ مراسم عید غدیر

۸۲- در کدام مناطق چین سفره هفت میوه رواج دارد؟

- ① پاکستان و افغانستان، ارمنستان
- ② افغانستان و کابل، پاکستان
- ③ ترکمنستان و پاکستان، قزاقستان
- ④ قزاقستان و افغانستان، آذربایجان

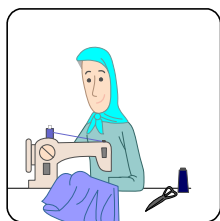
۸۳- اروپایی‌ها از طریق کدام دریا با مسلمانان تجارت می‌کردند؟

- ① دریای مدیترانه
- ② دریای خزر
- ③ خلیج فارس
- ④ دریای عمان

۸۴- در تصاویر زیر گزینه‌ای که مربوط به برش کار است را مشخص کنید.




④



③



②



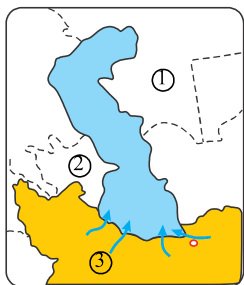
①

۸۵- کدام گزینه به ترتیب عمق دریای خزر را در نواحی شمالی و جنوبی به درستی نشان می‌دهد؟

- ① کمتر از ۱۰۰ متر - بیشتر از ۱۰۰۰ متر
- ② کمتر از ۱۰ متر - بیشتر از ۱۰۰ متر
- ③ کمتر از ۱۰ متر - بیشتر از ۱۰۰۰ متر
- ④ کمتر از ۱۰۰۰ متر - بیشتر از ۱۰ متر

۸۶- میزان شوری کدام مورد نسبت به سایر دریاها و اقیانوس‌ها کمتر است؟

- ① دریای خزر
- ② دریای عمان
- ③ خلیج فارس
- ④ دریای مدیترانه



۸۷- شماره‌های ۱ - ۲ - ۳ را به ترتیب در نقشه روبه‌رو مشخص کنید.

- ① ترکمنستان - جمهوری آذربایجان - سفیدرود
- ② قزاقستان - ترکمنستان - چالوس
- ③ قزاقستان - جمهوری آذربایجان - چالوس
- ④ قزاقستان - ارمنستان - چالوس

۸۸- به پیشروی آب دریاها در خشکی چه می‌گویند؟

- ① تنگه
- ② دریاچه
- ③ خلیج
- ④ جلگه

۸۹- خورها برای چه چیزی مناسب است؟

- ① فقط ماهیگیری
- ② فقط ایجاد بندر
- ③ فقط پهلو گرفتن کشتی‌ها
- ④ ایجاد بندر و پهلو گرفتن کشتی‌ها

۹۰- شوری آب خلیج فارس را با دریای عمان مقایسه کنید.

- ① شوری دریای عمان بیشتر است.
- ② به یک میزان شور هستند.
- ③ شوری آب خلیج فارس بیشتر است.
- ④ بستگی به فصول سال دارد.

۹۱- عمق خلیج فارس را با دریای عمان مقایسه کنید.

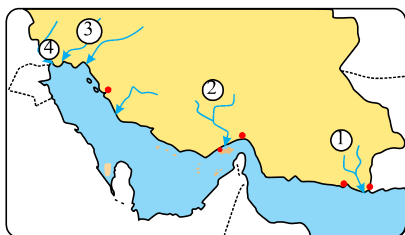
- ① عمق خلیج فارس از دریای عمان بیشتر است.
- ② عمق دریای عمان از خلیج فارس بیشتر است.
- ③ در قسمت‌های شمالی خلیج فارس از دریای عمان کم عمق‌تر است.
- ④ عمق دریای عمان از خلیج فارس جنوبی بیشتر است.

۹۲- عمق دریای عمان به سمت اقیانوس هند در اطراف چابهار چگونه است؟

- ① عمق این دریا به سمت اقیانوس هند کمتر می‌شود و در اطراف چابهار به حدود ۳۰۰۰ متر می‌رسد.
- ② عمق این دریا به سمت اقیانوس هند بیشتر می‌شود و در اطراف چابهار به حدود ۳۰۰۰ متر می‌رسد.
- ③ عمق این دریا به سمت اقیانوس مدیترانه بیشتر می‌شود و در اطراف چابهار به حدود ۳۰۰۰ متر می‌رسد.
- ④ عمق این دریا به سمت اقیانوس هند بیشتر می‌شود و در اطراف چابهار به حدود ۳۰۰۰ متر می‌رسد.

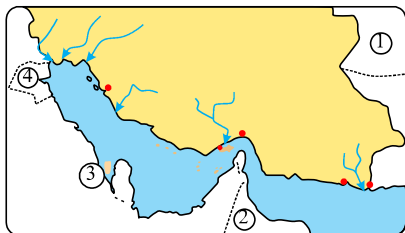
۹۳- در نقشه‌ی مقابل به ترتیب نام رودهایی که با شماره مشخص شده است را بنویسید.

- ① سرراز - هندیجان - جراحی - کارون
- ② سرراز - شور - مند - اروندرود
- ③ جراحی - هندیجان - مند - سرراز
- ④ سرراز - شور - جراحی - اروندرود



۹۴- در نقشه مقابل نام کشورها را به ترتیب شماره بنویسید.

- ① پاکستان - عمان - عراق - یمن
- ② افغانستان - عمان - بحرین - کویت
- ③ افغانستان - امارات - قطر - کویت
- ④ پاکستان - امارات - بحرین - عراق



۹۵- نفت و گاز در خلیج از کدام ناحیه استخراج می‌شود؟

- ① ناحیه‌ی عمیق دور از ساحل
- ② ناحیه‌ی کم عمق نزدیک ساحل
- ③ ناحیه‌ی کم عمق نزدیک تنگه‌ی هرمز
- ④ ناحیه‌ی عمیق نزدیک تنگه‌ی هرمز



۹۶- تصویر روبه‌رو چه چیز را نشان می‌دهد؟

- ۱) سکوی نفتی دریای خزر
- ۲) سکوی نفتی خلیج فارس
- ۳) اسکله‌ی نفتی دریای خزر
- ۴) اسکله‌ی نفتی خلیج فارس

۹۷- بهترین ماه برای شروع صید میگو کدام است؟

- ۱) مهرماه
- ۲) اردیبهشت
- ۳) فروردین
- ۴) خرداد

۹۸- کدام ماهی با سایر ماهی‌ها از نظر مکان زیست متفاوت است؟

- ۱) کپور
- ۲) کیلکا
- ۳) شیر
- ۴) فیل ماهی

۹۹- کدام جمله صحیح نیست؟

- ۱) صید ماهی در دریا قوانین و مقررات دارد.
- ۲) ماهیان خاویاری در دریای خزر زندگی می‌کنند.
- ۳) صید ماهی از اواخر بهار تا اوایل پاییز در دریای خزر ممنوع است.
- ۴) ایران همه‌ساله مقدار زیادی میگو و خاویار به کشورهای دیگر صادر می‌کند.

۱۰۰- ماهیگیران برای ماهیگیری در آب‌های اطراف سواحل از چه چیزی استفاده می‌کنند؟

- ۱) کشتی‌ها و لنج‌های کوچک
- ۲) کشتی‌ها و لنج‌های بزرگ
- ۳) کشتی‌های مجهز
- ۴) کشتی‌های بزرگ و لنج‌های مجهز



۱۰۱- در تصویر روبه‌رو چه چیزی نشان داده شده است؟

- ۱) بارگیری کشتی‌ها در خلیج فارس
- ۲) بارگیری کشتی‌ها در دریای خزر
- ۳) کارگاه کشتی‌سازی در جنوب
- ۴) کارخانه‌ی لنج‌سازی در جنوب

۱۰۲- کدام پستانداران در آب‌های خلیج فارس و دریای عمان زندگی می‌کنند؟

- ۱) لاک‌پشت‌های کم‌یاب
- ۲) نهنگ‌ها
- ۳) ماهی‌های تزئینی
- ۴) صدف‌ها

۱۰۳- کدام یک از عبارات زیر در رابطه با گذران اوقات فراغت نادرست است؟

- ۱) مکان‌های عمومی گذران اوقات فراغت به همه‌ی مردم تعلق دارد.
- ۲) همه‌ی فعالیت‌های مربوط به اوقات فراغت در منزل انجام می‌شود.
- ۳) هر یک از مکان‌های گذراندن اوقات فراغت مقررات مخصوص به خود را دارد.
- ۴) وزارت فرهنگ و ارشاد اسلامی از جمله سازمان‌هایی است که در زمینه‌ی امور اوقات فراغت فعالیت می‌کند.

۱۰۴- اگر بخواهیم بازی شطرنج را جایگزین طناب بازی کنیم، این امر منجر به کاهش چه چیزی در بچه‌ها خواهد شد؟

- ۱) تحرک و فعالیت بدنی
- ۲) خلاقیت
- ۳) حوصله و تمرکز
- ۴) رقابت و هیجان

۱۰۵- پوشش کلاه و شلوار گشاد تا روی پا، از پوشش‌های کدام دوره در ایران است؟

- ۱) صفویان
- ۲) قاجاریان
- ۳) اشکانیان
- ۴) هخامنشیان

۱۰۶- کدام گزینه نادرست است؟

- ۱) ساحل دریای عمان از بندرعباس تا بندر گواتر امتداد دارد و این دریا به اقیانوس هند راه دارد.
- ۲) عمق و شوری آب خلیج فارس از دریای عمان کم‌تر است.
- ۳) عمق دریای خزر در نواحی شمالی آن بسیار کم‌تر از نواحی جنوبی آن است.
- ۴) ایران از طریق خلیج فارس با کشورهای کویت، عربستان، قطر و امارات همسایه است.



۱۰۷ - اگر کلمات زیر را در جاهای خالی قرار دهیم. کدام کلمات اضافی هستند؟

«خط تولید - عمده‌فروش - تولید انبوه - بودجه»

(الف) به تولید کالا به مقدار زیاد به صورت یک شکل گفته می‌شود.

(ب) فروشندگانی که کالاها را به تعداد زیاد و یکجا به مغازه‌داران دیگر می‌فروشند، نام دارند.

④ تولید انبوه - بودجه

③ خط تولید - عمده فروش

② عمده‌فروش - تولید انبوه

① خط تولید - بودجه

۱۰۸ - موارد ذکر شده در نقشه به ترتیب در کدام گزینه آمده‌اند؟

① ارس - اترک - اروندرود

② اترک - ارس - اروندرود

③ اترک - ارس - هیرمند

④ ارس - اترک - هیرمند



۱۰۹ - کدام گزینه نادرست است؟

① برای مسافرت به کشور دیگر باید از سفارتخانه آن کشور اجازه گرفت. به این اجازه گذرنامه می‌گویند.

② در پاکستان، نوروز را عالم‌افروز می‌نامند و برخی از مردم شمال ترکیه نوروز را جشن می‌گیرند.

③ مردم همه کشورهای همسایه ایران به جز ارمنستان مسلمان هستند.

④ همه‌ساله عده زیادی از مردم کشور ما برای زیارت خانه خدا و مرقد پیامبر (ص) به عربستان سفر می‌کنند.

۱۱۰ - چه تعداد از عبارتهای زیر درست است؟

(الف) هدف صدام از تصرف خوزستان مالکیت خرمشهر و اروندرود بود.

(ب) خرمشهر به عنوان نمونه مقاومت و پایداری در ایران شناخته شد.

(ج) خرمشهر در عملیات بیت‌المقدس آزاد شد.

(د) جنگ ایران و عراق در سال ۱۳۶۷ با پذیرش قطعنامه صلح به پایان رسید.

④ سه

③ چهار

② یک

① دو

۱۱۱ - کدام گزینه نادرست است؟

① در گذشته، بچه‌ها بیش‌تر بازی‌های گروهی انجام می‌دادند و این بازی‌ها اغلب جنبه حرکتی یا قدرتی داشتند.

② پارچه تنها از نخ طبیعی درست می‌شود و پس از تولید نخ در کارخانه‌های نخیسی، نخ‌ها به کارخانه پارچه‌بافی فرستاده می‌شود.

③ لباس باید پوشش مناسب را برای زن یا مرد مسلمان فراهم کند و رعایت حجاب، موجب وقار و متانت شخص می‌شود.

④ ما از لباس گروه‌های اجتماعی مختلف می‌توانیم پی ببریم که شغل و حرفه این افراد چیست یا چه خدمتی به اجتماع می‌کنند.

۱۱۲ - در جدول زیر، در مورد خلیج فارس و دریای عمان چند نادرستی وجود دارد؟

دریای عمان	خلیج فارس
۱ - شوری کمتر	۱ - شوری بیشتر
۲ - عمق بیشتر	۲ - عمق کمتر
۳ - امتداد ساحل از چابهار تا بندرعباس	۳ - امتداد ساحل از رود جراحی تا بندرعباس
④ یک	③ دو

② سه

① چهار



۱۱۳ - به چه تعداد از سؤالات زیر، پاسخ نادرست داده شده است؟

الف) تاریخ آغاز جنگ تحمیلی عراق علیه ایران چه زمانی بود؟ ۳۱ شهریور ۱۳۶۱

ب) بندر خرمشهر در محل برخورد کدام دو رود قرار دارد؟ کارون و اروند رود

ج) مردم خرمشهر چند روز در برابر عراقی‌های مقاومت کردند؟ ۳۴ روز

د) نام عملیات آزادسازی خرمشهر چه بود؟ بیت‌المقدس

ه) نیروی مردمی در دوران جنگ چه نامیده می‌شدند؟ سپاه

① چهار ② سه ③ دو ④ یک

۱۱۴ - چه تعداد از عبارتهای زیر درست است؟

الف) شغل مردم بندر بارگیری و باراندازی کالاهای کشتی‌ها و انبارداری است.

ب) کارخانه‌های کشتی‌سازی و لنج‌سازی در سواحل دریای خزر در شهر نکا قرار دارد.

ج) سفر به کیش، قشم و چابهار در فصل زمستان مناسب است.

د) خلیج فارس و دریای عمان از زیستگاه‌های مرجان‌ها و صدف‌هاست.

① چهار ② سه ③ دو ④ یک

۱۱۵ - هر یک از مراسم زیر به هنگام عید نوروز، به ترتیب در کدام کشورها رایج است؟

«چیدن سفره هفت میوه - نامیدن نوروز به «عالم‌افروز» - انجام مراسم ورزشی و بازی - گذاشتن آجیل روی سفره‌های نوروزی»

① پاکستان - جمهوری آذربایجان - ترکیه - جمهوری آذربایجان

② پاکستان - جمهوری آذربایجان - ترکیه - ترکیه

③ افغانستان - پاکستان - ترکمنستان - ترکیه

④ افغانستان - پاکستان - ترکمنستان - جمهوری آذربایجان

۱۱۶ - چه تعداد از موارد زیر نادرست است؟

الف) دریای خزر بزرگ‌ترین منبع ماهیان خاویاری در جهان است.

ب) با نزدیک شدن به فصل بهار، ماهیگیران جنوب خود را برای صید میگو آماده می‌کنند.

ج) یکی از مهم‌ترین دلایل اهمیت خلیج فارس، وجود منابع سرشار نفت و گاز است.

د) ماهی سفید و سوف، از ماهی‌های دریای خزر هستند.

① صفر ② یک ③ دو ④ سه

۱۱۷ - کدام‌یک از گزینه‌های زیر خط تولید را بهتر بیان کرده است؟

① در کارگاهی که همه‌ی افراد تخصص همه جانبه دارند و کالا را به صورت نهایی آماده می‌کنند.

② در کارگاهی که هر کس، بخشی از کار را انجام می‌دهد، تا کالا به صورت نهایی آماده شود.

③ در کارگاهی که همه‌ی افراد، در چند حرفه مهارت دارند تا کالا را به صورت نهایی آماده کنند.

④ در کارگاهی که همه‌ی افراد، در یک یا دو حرفه مهارت دارند، تا کالا را به صورت نهایی آماده کنند.

۱۱۸ - صید ماهی در دریا تابع چه قوانینی است؟

① از اوایل بهار تا اوایل پاییز صید ممنوع است.

② از اوایل تابستان تا اوایل زمستان صید ممنوع است.

③ از اوایل پاییز تا اوایل بهار صید ممنوع است.

④ از اوایل تابستان تا اوایل پاییز صید آزاد است.

۱۱۹ - کدام یک از موارد زیر در مورد اوقات فراغت صحیح نیست؟

① در اوقات فراغت به امور درسی، کار یا تحصیل خود می‌پردازیم.

② در اوقات فراغت فرصت پیدا می‌کنیم تا به فعالیت‌های دلخواه خود بپردازیم.

③ در اوقات فراغت به کارهای هنری، بازی و ورزش می‌توان پرداخت.

④ در اوقات فراغت به آموختن مهارت‌های مختلف می‌پردازیم.

۱۲۰ - چرا تفریح و سرگرمی برای انسان لازم است؟

① زیرا مهم‌ترین نیاز انسان است.

② چون باعث می‌شود دوباره برای فعالیت‌های دیگر انرژی و نشاط پیدا کنیم.

③ چون باعث گذراندن اوقات می‌شود.

④ باید قسمت زیادی از نمودار را به آن اختصاص دهیم.



پاسخنامه تشریحی

۱ - گزینه ۲ در این گزینه لباس مردان در دوره‌ی صفویه نشان داده شده است. بررسی گزینه‌ها:

گزینه ۱) تصویر مردی با کلاه نادری است.

گزینه ۳) لباس زنان در دوره‌ی قاجار است.

گزینه ۴) طرحی از پیراهن‌های زنان در دوره اشکانی است.

۲ - گزینه ۳ رود سرپاز به دریای عمان می‌ریزد و رود کارون و جراحی به خلیج فارس می‌ریزند.

۳ - گزینه ۴ با توجه به نمودار، میزان خواب و استراحت دانش‌آموز نسبت به میزان فعالیت‌ها (اعم از تحصیلی، تفریحی و رفت‌وآمد) کم است و دانش‌آموز به دلیل کمبود خواب و استراحت دچار خستگی و کندی شده است.

۴ - گزینه ۱) ۱) ترکمنستان (۲) بندر بابلسر (۳) بندر آستارا (۴) روسیه

شماره‌ی (۱) کشور ترکمنستان و شماره‌ی (۴) کشور روسیه است که دریای خزر ایران را به این کشورها مربوط می‌کند و شماره‌ی ۲ و ۳ بندر بابلسر و بندر آستارا را نشان می‌دهد.



۵ - گزینه ۳ لباس‌های این گروه‌ها بسته به کار و نقش آن‌ها در اجتماع متفاوت است.

۶ - گزینه ۳ عمق دریای خزر در نواحی شمال آن بسیار کم است.

۷ - گزینه ۴ در عسلویه کارخانه‌ی کشتی‌سازی وجود ندارد و کارخانه‌ی کشتی‌سازی و لنج‌سازی در اطراف بندر عباس، بوشهر، چابهار در جنوب و نکا در سواحل دریای خزر قرار دارد.

۸ - گزینه ۲ اروپایی‌ها به علوم جغرافیا و ستاره‌شناسی (نجوم) که به شناخت سرزمین‌ها و راه‌های دریایی و تجارت کمک می‌کرد، علاقه‌مند بودند.

۹ - گزینه ۳ ما باید مسیر غرب به شرق را بیماییم؛ بنابراین به ترتیب از رودهای جراحی، هندیشان، مند، شور و سرپاز عبور می‌کنیم.

۱۰ - گزینه ۲ زیرا این کشورها زمانی جزء کشور ایران بودند.

۱۱ - گزینه ۳ برای تهیه‌ی بلیت نوبت را در صف رعایت کنیم از جمله قوانین ورزشگاه‌ها است.

۱۲ - گزینه ۴ همه‌ی گزینه‌ها به جز دریانوردان ماهر مسلمان موجب ساخت کشتی‌های محکم و پرسرعت‌تر توسط اروپایی‌ها شد.

۱۳ - گزینه ۳ تمام پارچه‌های مورد نیاز تولیدی‌ها در ایران بافته نمی‌شود و بخش دیگری از پارچه‌های مورد نیاز از خارج کشور وارد می‌شود.

۱۴ - گزینه ۲ بررسی عبارت‌های نادرست:

(ب) پرتغالی‌ها و اسپانیایی‌ها در کشف سرزمین‌های جدید پیشگام بودند.

(ه) به سرزمین‌هایی که استقلال سیاسی و اقتصادی نداشته باشند و تابع حکومت‌های دیگر باشند، مستعمره می‌گویند.

پس ۳ مورد از ۵ مورد به درستی بیان شده است.

۱۵ - گزینه ۴ سازمان بهینه‌سازی از جمله مؤسسات فعال در بخش اوقات فراغت نیست.

۱۶ - گزینه ۲ بررسی موارد اشتباه:

- بعضی از این بازی‌ها و سرگرمی‌ها تا امروز بین مردم باقی مانده است.

- در گذشته، بچه‌ها بیشتر بازی‌های گروهی انجام می‌دادند.

- امروزه بازی‌های رایانه‌ای بین بچه‌ها رواج پیدا کرده است.

۱۷ - گزینه ۳ ارس شماره‌ی (۱) - ارون‌رود شماره‌ی (۲) - اترک شماره‌ی (۳)



۱۸ - گزینه ۴ حدود چهار قرن پیش

۱۹ - گزینه ۴ گندم از جمله محصولات نیست.

۲۰ - گزینه ۲ به آبراهی که دو دریا را به هم وصل می‌کند تنگه می‌گویند که شماره‌ی (۲) تنگه‌ی هرمز است که خلیج فارس و دریای عمان را به هم وصل می‌کند.

۲۱ - گزینه ۳ همان‌طور که رود هراز به دریای خزر می‌ریزد، رود جراحی نیز به خلیج فارس می‌ریزد.
بررسی سایر گزینه‌ها:

گزینه ۱) هندیجان به خلیج فارس می‌ریزد.

گزینه ۲) رود شور به خلیج فارس می‌ریزد.

گزینه ۴) سرباز به دریای عمان می‌ریزد.

۲۲ - گزینه ۳ در کشور عراق جشن نوروز برگزار نمی‌شود.

۲۳ - گزینه ۲ در کشور ترکیه فقط مردم برخی مناطق نوروز را جشن می‌گیرند.

۲۴ - گزینه ۲ جنگ در ۳۱ شهریور سال ۵۸ آغاز شد و ۳۴ روز بعد، یعنی در تاریخ ۴ آبان ۵۸ خرمشهر به تصرف ارتش درآمد و خرمشهر در تاریخ ۳ خرداد ۶۱ آزاد شد، پس این شهر کمتر از ۳ سال در تصرف صدام بود.

۲۵ - گزینه ۴ قطع شدن منافع کشورهای استعمارگر در ایران با پیروزی انقلاب اسلامی ایران

(۲) حمایت ایران از مظلومان جهان مانند مردم فلسطین که خوشایند دشمنان نبود.

(۳) آمادگی کافی نداشتن سپاه و ارتش برای دفاع از کشور

۲۶ - گزینه ۲ هر چهار رود چالوس، سفیدرود، هراز و گرگان به دریای خزر می‌ریزند.

کارون، اروندرود، جراحی، هندیجان، مند و رود شور به خلیج فارس می‌ریزند. → جمله بررسی

رود سرباز به دریای عمان می‌ریزد. بنابراین تنها رودهای گزینه‌ی ۲ به یک دریای مشترک ریخته می‌شوند.

۲۷ - گزینه ۲ بررسی سایر گزینه‌ها:

(۱) کشور ایران در غرب افغانستان است.

(۳) جمعیت ترکیه ۷۳ میلیون و جمعیت افغانستان ۳۰ میلیون است.

(۴) ترکیه دارای جلگه‌های پست است.

۲۸ - گزینه ۴ افغانستان با آب‌های آزاد ارتباطی ندارد.

۲۹ - گزینه ۳ اسامی قهرمانان مبارزه با استعمار بنابر خط زمان درج شده به ترتیب عبارتند از: امیرکبیر، سید حسن مدرس، آیت الله کاشانی و امام خمینی.

رئیس علی دلواری در خط زمان درج نشده است. همچنین زمان زندگی امام خمینی متاخر از سایر قهرمانان مبارزه با استعمار بوده است.

۳۰ - گزینه ۴ نفت و گاز کف خلیج فارس در ناحیه‌ی کم‌عمق نزدیک به ساحل استخراج می‌شود و دریای خزر از بزرگترین دارندگان ماهی خاویاری می‌باشد.
بررسی سایر گزینه‌ها:

گزینه ۱: رود سرباز و هیرمند از رودهای مهم دریای عمان است - دریای خزر ما را به کشورهای آذربایجان و ترکمنستان مربوط می‌کند.

گزینه ۲: خلیج فارس انبار نفت جهان است - با نزدیک شدن به مهرماه، ماهیگیران جنوب خود را برای صید میگو آماده می‌کنند.

گزینه ۳: صید ماهی از بهار تا اوایل پاییز در دریای خزر ممنوع است - دریای خزر بزرگترین منبع ماهیان خاویاری است.

۳۱ - گزینه ۴ رودهای اروندرود، جراحی، مند، هندیجان و رود شور به خلیج فارس می‌ریزند.

۳۲ - گزینه ۴ اروندرود، ارتفاعات آرارات و دریای خزر پدیده‌های طبیعی هستند که بخشی از مرزهای ایران را تشکیل می‌دهند.



۳۳ - گزینه ۴ در این تصویر مراسم چوگان‌بازی را مشاهده می‌کنیم.

۳۴ - گزینه ۴ گروه شغلی را نشان می‌دهد. لباس روحانیون، لباس احرام و لباس جمعیت هلال احمر مربوط به گروه‌های اجتماعی، اما لباس پزشکان مربوط به گروه شغلی است.

۳۵ - گزینه ۲ امام خمینی (ره) پس از آغاز جنگ جملات بالا را فرمودند.

۳۶ - گزینه ۴ شماره‌ی (۱): قزاقستان، شماره‌ی (۲): روسیه، شماره‌ی (۳): عمان، شماره‌ی (۴): پاکستان



۳۷ - گزینه ۱ خط مرزی تنها روی زمین نیست؛ بلکه فضای بالای مرز زمینی هم جزء آن است.

۳۸ - گزینه ۲ ترجمه کتاب‌های پزشکی و بسیاری کتاب‌های دیگر علوم اسلامی باعث انتقال علوم و فنون از مسلمانان به کشورهای اروپایی شد.

۳۹ - گزینه ۲ در پایان یک نفر درزا و جای دوخت‌ها را اتو می‌کند که در تصویر شماره‌ی ۲ نشان داده شده است.

۴۰ - گزینه ۱ هندیجان از جمله نام‌های دریای خزر نیست.

۴۱ - گزینه ۲ ماهی سفید از ماهیان خاویاری نیست و جزء ماهیان دریای خزر است و تاس ماهی، اوزون برون و دراکول و فیل ماهی جزء ماهیان خاویاری است.

۴۲ - گزینه ۳ میگو از مهم‌ترین آبزیان دریای جنوب ایران است.

۴۳ - گزینه ۳ موارد ب و ج نادرست است.

در کارخانه‌ی نخ‌ریسی نخ تولید می‌شود و همچنین اگر لباسی که می‌خریم متناسب با باورهای دینی‌مان باشد، وقار و متانت‌مان حفظ می‌شود.

۴۴ - گزینه ۳ برای رسم نمودار فعالیت‌های روزانه یک دایره می‌کشیم و آن را به ۲۴ قسمت تقسیم می‌کنیم. هر قسمت نشان‌دهنده‌ی یک ساعت است.

۴۵ - گزینه ۳ در برنامه‌ی متعادل تفریح نیز به اندازه‌ی کافی وجود دارد چون تفریح باعث می‌شود برای فعالیت‌های دیگر انرژی بگیریم.

۴۶ - گزینه ۱ چند مورد از مقررات ورزشگاه‌ها:

برای تهیه‌ی بلیط، نوبت را در صف رعایت کنیم. و از مسخره کردن یک تیم یا هوادارهای آن خودداری کرده و فقط به تشویق تیم مورد علاقه‌مان بپردازیم. و از اموال عمومی حفاظت کنیم و با نظم و آرامش به سالن‌ها وارد یا از آنها خارج شویم و با انتظامات و کارکنان ورزشگاه همکاری کنیم.

چند مورد از مقررات بوستان‌ها:

روی چمن‌ها راه نرویم و فقط از پیاده‌روها استفاده کنیم و گل‌ها را نچینیم و زباله‌ها را در سطل مخصوص بریزیم.

۴۷ - گزینه ۱ بزرگ‌ترین منبع ماهیان خاویاری دریای خزر است.

۴۸ - گزینه ۳ سقوط بنی‌امیه و ظهور بنی‌عباس در سال ۱۳۲ هجری صورت گرفت.

حمله‌ی مغول‌ها به ایران در سال ۶۱۶ هجری رخ داد.

سخنرانی تاریخی امام خمینی (ره) در بهشت زهرا در سال ۱۳۵۷ بود.

۴۹ - گزینه ۱ قیام پانزده خرداد: سال ۱۳۴۲

پیروزی انقلاب: سال ۱۳۵۷

آزاد سازی شهر مهران: سال ۱۳۶۲

۵۰ - گزینه ۱ مجلس شورای ملی در نیمه‌ی اول قرن ۱۴ یعنی «بین سال‌های ۱۴۰۰ تا ۱۴۵۰ هجری»، قانون ملی شدن نفت را تصویب کرد.

بررسی سایر گزینه‌ها:

۲- نیمه‌ی دوم قرن ۱۲ یعنی: بین سال‌های ۱۲۵۰ تا ۱۳۰۰ هجری: اما طبق نمودار خط زمان، به‌طور کلی تمام اطلاعات تاریخی و فعالیت‌های مربوط به امیرکبیر بین سال‌های ۱۱۹۰ تا ۱۲۵۰ روی داده است.

۳- نیمه‌ی اول قرن ۱۴ یعنی: بین سال‌های ۱۴۰۰ تا ۱۴۵۰ هجری: اما پیروزی انقلاب اسلامی (۱۳۵۷ شمسی) پس از سال ۱۳۵۰ و پیش از ۱۴۰۰ هجری روی داده است.

۴- نیمه‌ی اول قرن ۱۲ یعنی: بین سال‌های ۱۲۰۰ تا ۱۲۵۰ هجری: اما طبق نمودار خط زمان، پایان داستان میرزا کوچک‌خان جنگلی مربوط است به پس از سال ۱۳۰۰ و پیش از سال ۱۳۵۰ هجری.

دوم - بوبت ششم - مطالعات اجتماعی ششم - سوالات امتحانی



۵۱ - گزینه ۴ این اختلاف ۸۹ درصد است.

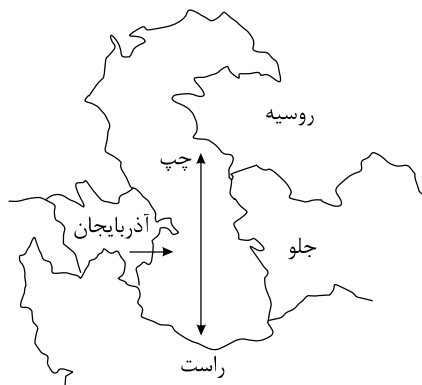
۵۲ - گزینه ۳ تجارت موجب شد ثروت اروپایی‌ها بیش تر شود. شهرنشینی رشد کرد و به تدریج کارگاه‌های صنعتی افزایش یافت.

۵۳ - گزینه ۱ شهادت امیرکبیر ← ۱۲۴۰ / ملی شدن نفت ایران ← ۱۳۲۹ / آزادسازی خرمشهر ← ۱۳۶۱

۵۴ - گزینه ۲

کشور روسیه در شمال آذربایجان قرار گرفته است. دریای خزر در سمت شرق آذربایجان است.

بنابراین اگر از ساحل کشور آذربایجان در دریای خزر به سمت شرق سپس به سمت شمال برویم، به سواحل دریای خزر در کشور روسیه می‌رسیم.



۵۵ - گزینه ۳ بررسی سایر گزینه‌ها:

گزینه (۱) قاره‌ی آمریکا و استرالیا بعدها کشف شدند.

گزینه (۲) نصف‌النهار مبدأ زمین را به دو نیم‌کره‌ی شرقی و غربی تقسیم می‌کند.

گزینه (۴) در قطب جنوب شرایط برای فعالیت مساعد نیست.

۵۶ - گزینه ۴ این تحقیق درباره‌ی تنوع لباس صورت گرفته است. تنوع لباس، دلایل مختلفی دارد از جمله: طبقه‌ی اجتماعی و شغل افراد، عوامل آب و هوایی، فرهنگ و ...

۵۷ - گزینه ۲ دریای عمان و خلیج فارس از مهم‌ترین زیستگاه‌های موجودات دریایی به شمار می‌روند.

گزینه‌ی ۱ رود سرباز به دریای عمان و رود شور به خلیج فارس می‌ریزد.

گزینه‌ی ۳ خلیج فارس جزایر فراوانی دارد.

گزینه‌ی ۴ عمق خلیج فارس از دریای عمان کم‌تر است.

۵۸ - گزینه ۱

۵۹ - گزینه ۴ دولت صفوی به فکر غارت کشورهای دیگر نبود، اما حمایت از علوم و دانشمندان، رونق تجارت و بازرگانی و افزایش قدرت نظامی از علت‌های مشترک بودند.

۶۰ - گزینه ۲ بررسی سایر گزینه‌ها:

گزینه (۱) مقاومت مردم خرمشهر ۳۴ روز طول کشید.

گزینه (۳) خرمشهر در محل برخورد رود کارون و اروندرود قرار گرفته است.

گزینه (۴) خرمشهر یکی از شهرهای جنوب غربی ایران است و جزء بنادر بازرگانی است.

۶۱ - گزینه ۱ سرزمین‌های سمرقند، مرو، هرات و عشق‌آباد طبق قراردادهای استعماری از ایران جدا شدند.

۶۲ - گزینه ۲ سرخو و سنگسر از جمله ماهی‌های دریای عمان و خلیج فارس است که در بنادر جنوبی کشور از جمله چابهار و بندر بوشهر صید می‌شود، اما ماهی سوف در دریای خزر و از طریق بنادر شمالی از جمله بندر انزلی صید می‌شود.

۶۳ - گزینه ۴ حکومت قدرتمند و یکپارچه تأثیری در گسترش علوم و فنون در دوره‌ی اسلامی نداشت.

۶۴ - گزینه ۳ در برنامه‌ی متعادل، استراحت و خواب، درس خواندن و عبادت کردن، تفریح و سرگرمی به اندازه‌ی کافی وجود دارد.

۶۵ - گزینه ۴ از عوامل حمله‌ی نظامی عراق به ایران می‌توان به موارد زیر اشاره کرد:

(۱) قطع منافع استعمارگران از ایران

(۲) حمایت ایران از مظلومان

(۳) مجهز نبودن ارتش و سپاه ایران

پس یکی از علت‌های حمله‌ی نظامی عراق به ایران (معلول)، قطع منافع استعمارگران و ارتش در حال تجهیز بود.

۶۶ - گزینه ۲ شوری آب خلیج فارس، بیشتر از دریای عمان است.

۶۷ - گزینه ۲ شهرهایی چون اهواز، آبادان، اندیشک و ایلام مورد حمله‌ی هوایی و زمینی ارتش عراق قرار گرفتند.

۶۸ - گزینه ۱ لباس روحانیون و حجاج، لباس گروه‌های اجتماعی و لباس کردها، محلی است. در سایر گزینه‌ها به لباس گروه‌های شغلی اشاره شده است.

۶۹ - گزینه ۲ کپور، کفال، کیلکا و کولی همگی از ماهی‌های دریایی خزراند.

بررسی سایر گزینه‌ها :

گزینه ۱) با نزدیک شدن به مهرماه ماهیگیران جنوب خود را برای صید میگو آماده می‌کنند.

گزینه ۳) دریای خزر بزرگترین منبع ماهیان خاویاری است.

گزینه ۴) صید ماهی در دریا قوانین و مقرراتی دارد مثلاً صید ماهی در دریای خزر از اوایل بهار تا اواخر پاییز ممنوع است.



- ۷۰ - گزینه ۲ صدام برای اینکه بتواند پایتخت ایران و شهرهای بزرگ را ویران کند و به تصرف خود در بیاورد با هواپیماهای خود شهرهای مرزی و داخلی ایران را بمباران هوایی کرد.
- ۷۱ - گزینه ۴ رفتن به سفرهای زیارتی گروهی انجام می شود
- ۷۲ - گزینه ۳ هر یک از مکان های گذران اوقات فراغت مقررات مخصوص به خود را دارند که باید آن ها را رعایت کنیم.
- ۷۳ - گزینه ۴ ما می توانیم از روی لباس این گروه ها پی ببریم که شغل و حرفه ی این افراد چیست یا چه خدمتی به اجتماع می کنند.
- ۷۴ - گزینه ۲ پس از آزادی خرمشهر حکومت صدام سعی کرد با گرفتن کمک های مالی و اسلحه از کشورهای قدرتمند قوای خود را تقویت کند و همچنان به هجوم خود ادامه دهد.
- ۷۵ - گزینه ۱
- ۷۶ - گزینه ۱ زنجان در مسیر حمله ی هوایی ارتش عراق نبوده است.
- ۷۷ - گزینه ۴ اراک در مسیر حمله ی زمینی ارتش عراق قرار نداشته است.
- ۷۸ - گزینه ۱ حمله ی هوایی از پایگاه اربیل انجام نشد.
- ۷۹ - گزینه ۴ ملی کردن صنایع اصلی در ایران از جمله علت های حمله ی نظامی عراق به ایران نیست.
- ۸۰ - گزینه ۳ دریای عمان شماره ی (۱) - خلیج فارس شماره ی (۲) - دریای خزر شماره ی (۳)



- ۸۱ - گزینه ۱ در این تصویر برگزاری جشن نوروز در یکی از کشورهای همسایه نشان داده شده است.
- ۸۲ - گزینه ۲ در کابل و مرزهای شمال افغانستان در برخی شهرهای پاکستان چیدن سفره هفت میوه رواج دارد.
- ۸۳ - گزینه ۱ اروپایی ها از طریق دریای مدیترانه با مسلمانان تجارت می کردند.
- ۸۴ - گزینه ۱ در تصویر اول کار برش کار نشان داده شده است.
- ۸۵ - گزینه ۳ در نواحی شمالی به کمتر از ۱۰ متر می رسد اما در نواحی جنوبی نزدیک به ایران عمق آن به بیش از ۱۰۰۰ متر می رسد.
- ۸۶ - گزینه ۱ میزان شوری آب دریای خزر از دیگر دریاها و اقیانوس ها کمتر است.
- ۸۷ - گزینه ۳ قزاقستان (۱) جمهوری آذربایجان (۲) چالوس (۳)
- شماره ی (۱) کشور قزاقستان و شماره ی (۲) کشور جمهوری آذربایجان را نشان می دهد که دریای خزر ایران را به این کشورها مربوط می کند و شماره ی (۳) رود چالوس است که به دریای خزر می ریزد.
- ۸۸ - گزینه ۳ به پیشروی آب دریاها در خشکی خلیج می گویند.
- ۸۹ - گزینه ۴ خورها برای ایجاد بندر و پهلو گرفتن کشتی ها بسیار مناسب است.
- ۹۰ - گزینه ۳ شوری آب خلیج فارس از دریای عمان بیشتر است.
- ۹۱ - گزینه ۲ عمق دریای عمان از خلیج فارس بیشتر است.
- ۹۲ - گزینه ۲ عمق این دریا به سمت اقیانوس هند بیشتر می شود و در اطراف چابهار به حدود ۳۰۰۰ متر می رسد.
- ۹۳ - گزینه ۴ رودهایی که به دریای جنوب می ریزند را نشان می دهد که به ترتیب سرباز (۱)، شور (۲)، جراحی (۳)، اروندرود (۴) است.
- ۹۴ - گزینه ۲ افغانستان (۱) - عمان (۲) - بحرین (۳) - کویت (۴)، خلیج فارس و دریای عمان کشور ما را به افغانستان، عمان، بحرین و کویت مربوط می کند.
- ۹۵ - گزینه ۲ نفت و گاز از کف خلیج فارس در ناحیه ی کم عمق نزدیک به ساحل استخراج می شود.
- ۹۶ - گزینه ۱ این تصویر سکوی نفتی در سواحل دریای خزر را نشان می دهد.
- ۹۷ - گزینه ۱ با نزدیک شدن به ماه مهر ماهیگیران جنوب خود را برای صید میگو آماده می کنند.
- ۹۸ - گزینه ۳ ماهی شیر از جمله ماهیان خلیج فارس و دریای عمان است. کپور، کیلکا و فیل ماهی از ماهیان دریای خزر است.



- ۹۹ - گزینه ۳ صید ماهی از اوایل بهار تا اوایل پاییز در دریای خزر ممنوع است.
- ۱۰۰ - گزینه ۱ ماهیگیران برای ماهیگیری در آب‌های اطراف سواحل از کشتی‌ها و لنج‌های کوچک استفاده می‌کنند.
- ۱۰۱ - گزینه ۳ در این تصویر کارگاه کشتی‌سازی در جنوب نمایش داده شده است.
- ۱۰۲ - گزینه ۲ در خلیج فارس و دریای عمان پستاندارانی چون دلفین‌ها و نهنگ‌ها زندگی می‌کنند.
- ۱۰۳ - گزینه ۲ همه فعالیت‌های مربوط به گذران اوقات فراغت در منزل انجام نمی‌شود و بخشی از این فعالیت‌ها در مکان‌های عمومی انجام می‌شوند.
- ۱۰۴ - گزینه ۱ بازی‌هایی مانند قایم‌باشک، نون بیار کباب ببر، طناب‌بازی و ... از گذشته تاکنون در بیشتر نواحی ایران رایج بوده‌اند. این بازی‌ها اغلب جنبه حرکتی یا قدرتی دارند. بازی شطرنج با حوصله و تمرکز همراه است، ولی فقط تحرک و فعالیت‌های بدنی را در بچه‌ها کم می‌کند.
- ۱۰۵ - گزینه ۳ با مشاهده‌ی مجسمه‌ی مرد اشکانی می‌توان دریافت که در این دوره، مردان کلاه و شلوار گشاد تا روی پا می‌پوشیده‌اند.
- ۱۰۶ - گزینه ۲ شوری آب خلیج فارس از دریای عمان بیش تر است.
- ۱۰۷ - گزینه ۱ جای خالی «الف»، با «تولید انبوه» و جای خالی «ب»، با «عمده‌فروش» تکمیل می‌شود. بنابراین کلمات «خط تولید» و «بودجه» اضافی هستند.
- ۱۰۸ - گزینه ۱ - ۲ - رود مرزی ایران و ترکمنستان: اترک
۲ - رود مرزی ایران و جمهوری آذربایجان و ارمنستان: ارس
۳ - رود مرزی ایران و عراق: اروندرود
- ۱۰۹ - گزینه ۱ برای مسافرت به کشور دیگر باید از سفارتخانه آن کشور اجازه گرفت. به این اجازه روادید یا ویزا می‌گویند.
- ۱۱۰ - گزینه ۴ صورت صحیح مورد نادرست:
ب) دزفول به‌عنوان نمونه مقاومت و پایداری در ایران شناخته شد.
- ۱۱۱ - گزینه ۲ نخی که از آن پارچه درست می‌شود، ممکن است طبیعی یا مصنوعی باشد.
- ۱۱۲ - گزینه ۳ ساحل خلیج فارس از دهانه اروندرود تا بندرعباس و ساحل دریای عمان از بندرعباس تا بندر گواتر امتداد دارد.
- ۱۱۳ - گزینه ۳ بررسی موارد نادرست:
الف) تاریخ آغاز جنگ تحمیلی عراق علیه ایران ۳۱ شهریور ۱۳۵۹ است.
ب) به نیروهای مردمی در دوران جنگ بسیجی می‌گفتند.
- ۱۱۴ - گزینه ۱ تمامی عبارات صورت سؤال صحیح هستند.
- ۱۱۵ - گزینه ۴ در افغانستان و برخی شهرهای پاکستان چیدن سفره هفت میوه رواج دارد. در جمهوری آذربایجان، روی سفره‌های نوروزی آجیل می‌گذارند. در پاکستان نوروز را «عالم‌افروز» می‌نامند. در ترکمنستان اجرای مراسم ورزشی و طبیعت‌گردی هنگام نوروز رایج است.
- ۱۱۶ - گزینه ۲ بررسی موارد نادرست:
ب) با نزدیک شدن به ماه مهر، ماهیگیران جنوب خود را برای صید میگو آماده می‌کنند.
- ۱۱۷ - گزینه ۲ در کارگاهی که هر کس «بخشی از کار تولید را انجام می‌دهد تا کالا به صورت نهایی آماده شود»، به این همکاری خط تولید گفته می‌شود.
- ۱۱۸ - گزینه ۱ صید ماهی در دریا قوانین و مقرراتی دارد. برای مثال صید ماهی در دریای خزر از اوایل بهار تا اوایل پاییز ممنوع است.
- ۱۱۹ - گزینه ۱ در اوقات فراغت به همه‌ی فعالیت‌ها می‌پردازیم.
- ۱۲۰ - گزینه ۳ تفریح و سرگرمی باعث می‌شود دوباره برای فعالیت‌های دیگر انرژی و نشاط پیدا کنیم.

پاسخنامه کلیدی

۱ - ۲	۱۹ - ۴	۳۷ - ۱	۵۵ - ۳	۷۳ - ۴	۹۱ - ۲	۱۰۹ - ۱
۲ - ۳	۲۰ - ۲	۳۸ - ۲	۵۶ - ۴	۷۴ - ۲	۹۲ - ۲	۱۱۰ - ۴
۳ - ۴	۲۱ - ۳	۳۹ - ۲	۵۷ - ۲	۷۵ - ۱	۹۳ - ۴	۱۱۱ - ۲
۴ - ۱	۲۲ - ۳	۴۰ - ۱	۵۸ - ۱	۷۶ - ۱	۹۴ - ۲	۱۱۲ - ۳
۵ - ۳	۲۳ - ۲	۴۱ - ۲	۵۹ - ۴	۷۷ - ۴	۹۵ - ۲	۱۱۳ - ۳
۶ - ۳	۲۴ - ۲	۴۲ - ۳	۶۰ - ۲	۷۸ - ۱	۹۶ - ۱	۱۱۴ - ۱
۷ - ۴	۲۵ - ۴	۴۳ - ۳	۶۱ - ۱	۷۹ - ۴	۹۷ - ۱	۱۱۵ - ۴
۸ - ۲	۲۶ - ۲	۴۴ - ۳	۶۲ - ۲	۸۰ - ۳	۹۸ - ۳	۱۱۶ - ۲
۹ - ۳	۲۷ - ۲	۴۵ - ۳	۶۳ - ۴	۸۱ - ۱	۹۹ - ۳	۱۱۷ - ۲
۱۰ - ۲	۲۸ - ۴	۴۶ - ۱	۶۴ - ۳	۸۲ - ۲	۱۰۰ - ۱	۱۱۸ - ۱
۱۱ - ۳	۲۹ - ۳	۴۷ - ۱	۶۵ - ۴	۸۳ - ۱	۱۰۱ - ۳	۱۱۹ - ۱
۱۲ - ۴	۳۰ - ۴	۴۸ - ۳	۶۶ - ۲	۸۴ - ۱	۱۰۲ - ۲	۱۲۰ - ۳
۱۳ - ۳	۳۱ - ۴	۴۹ - ۱	۶۷ - ۲	۸۵ - ۳	۱۰۳ - ۲	
۱۴ - ۲	۳۲ - ۴	۵۰ - ۱	۶۸ - ۱	۸۶ - ۱	۱۰۴ - ۱	
۱۵ - ۴	۳۳ - ۴	۵۱ - ۴	۶۹ - ۲	۸۷ - ۳	۱۰۵ - ۳	
۱۶ - ۲	۳۴ - ۴	۵۲ - ۳	۷۰ - ۲	۸۸ - ۳	۱۰۶ - ۲	
۱۷ - ۳	۳۵ - ۲	۵۳ - ۱	۷۱ - ۴	۸۹ - ۴	۱۰۷ - ۱	
۱۸ - ۴	۳۶ - ۴	۵۴ - ۲	۷۲ - ۳	۹۰ - ۳	۱۰۸ - ۲	